

נתי"ב — ניתוח תופעות יסוד במרחב

יחידת לימוד אחת

הוראות לנבחן

- א. משך הבחינה: שעה וחצי.
- ב. מבנה השאלון ומפתח ההערכה: בשאלון זה חמש שאלות על **חבל ארץ שלא נלמד**. עליך לענות על **ארבע** שאלות, לפי ההוראות בגוף השאלון. לכל שאלה — 25 נקודות; סה"כ — 100 נקודות.
- ג. חומר עזר מותר בשימוש: **אטלס משנת 1993 ואילך**:
— אטלס אוניברסיטאי חדש, הוצאת יבנה
(**בלי המילון למונחי הגאוגרפיה**)
— אטלס כרטא — פיזי, מדיני, חברתי, כלכלי
— אטלס כרטא אוניברסלי
- ד. הוראות מיוחדות:
(1) רשום במחברתך את השם ואת שנת ההוצאה של כל אטלס שאתה משתמש בו.
(2) כדי להמחיש את תשובותיך תוכל להיעזר בסרטוטים, בחתכים ובגרפים, לפי הצורך.
- כתוב במחברת הבחינה בלבד, בעמודים נפרדים, כל מה שברצונך לכתוב ב**טיוטה** (ראשי פרקים, חישובים וכדומה).
רשום "טיוטה" בראש כל עמוד טיוטה. רישום טיוטות כלשהן על דפים שמחוץ למחברת הבחינה עלול לגרום לפסילת הבחינה!
- ההנחיות בשאלון זה מנוסחות בלשון זכר ומכוונות לנבחנות ולנבחנים כאחד.**

בהצלחה!

השאלות

נתי"ב — ניתוח תופעות יסוד במרחב (100 נקודות)

בשאלון זה תיבדק יכולתך להתמודד עם שאלות העוסקות בחבל ארץ שלא למדת עליו. השאלות מתבססות על מיומנויות בגאוגרפיה ועל מיומנויות חשיבה. השאלות נסמכות על ניתוח מפות באטלס כללי ועל נתונים המובאים בשאלון. חבל הארץ שהשאלון עוסק בו הוא הרפובליקה העממית / הדמוקרטיה של קונגו (לשעבר זאיר)

שים לב: המידע הגאוגרפי נמצא לא רק במפות החבליות והפיזיות שבאטלס, אלא גם במפות העולמיות והנושאיות) כמו אקלים, אוכלוסייה, כלכלה).

רשום במחברתך את השם ואת שנת ההוצאה של כל אטלס שאתה משתמש בו (אטלס אוניברסיטאי חדש, אטלס כרטא).

מצורפת מפה סכמטית של המדינה בסוף הבחינה

עליך לענות על ארבע שאלות: על שאלה 1 - חובה, ועל שלוש מן השאלות 2-5.

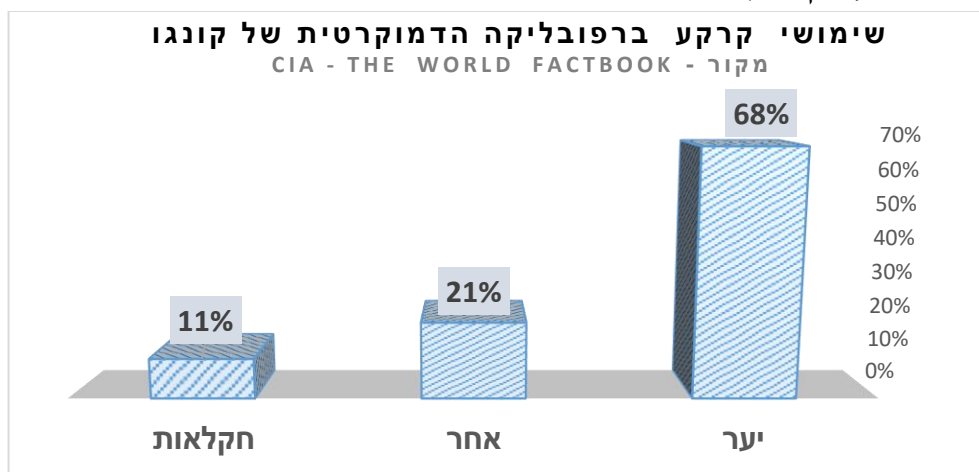
(לכל שאלה - 25 נקודות)

ענה על שאלה 1 (חובה)

1. מיקום ושימושי קרקע

א. תאר את מיקומה של הרפובליקה הדמוקרטית של קונגו בקווי אורך ובקווי רוחב, ציין את מיקומה ביבשת וציין את שמות כל המדינות הגובלות עמה. (9 נקודות)

ב. לפניך נתונים על התפלגות שימוש הקרקע ברפובליקה הדמוקרטית של קונגו.
 1) הסבר מדוע יערות מכסים שטח גדול במדינה. (4 נקודות)
 2) הבא יתרון אחד וחסרון אחד למדינת קונגו בהתייחס לשטחי היערות הנרחבים שבה. (8 נקודות)

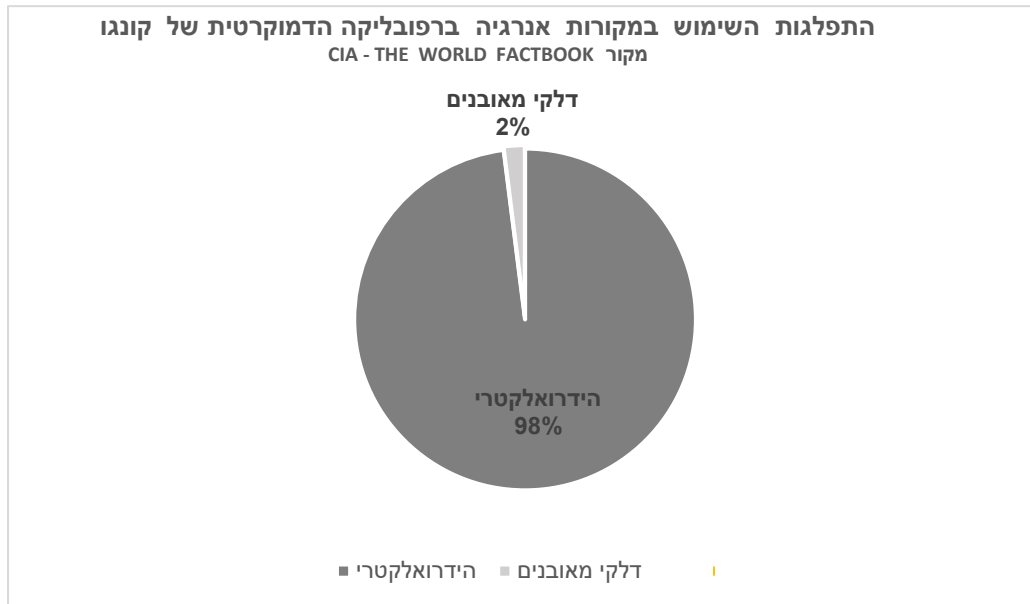


ג. שטח מדינת הרפובליקה הדמוקרטית של קונגו הוא 2,267,050 קמ"ר. רצועת החוף של המדינה היא 169 ק"מ בלבד. הסבר מדוע עובדה זו מהווה חסרון למדינה. (4 נקודות).

ענה על שלוש שאלות מן השאלות 2 – 5.

2. כלכלה

א. לפניך נתונים על התפלגות המקורות להפקת אנרגיה ברפובליקה הדמוקרטית של קונגו. הסבר את הגורם להתפלגות זו, והסבר במה התפלגות זו תואמת לעיקרון פיתוח בר קיימה. (13 נקודות)



ב. לפניך נתונים כלכליים של הרפובליקה הדמוקרטית של קונגו. ציין מהי רמת הפיתוח של המדינה, והסבר שלושה נימוקים לקביעתך מתוך הנתונים. (12 נקודות)

הערך ברפובליקה הדמוקרטית של קונגו	הנתון
\$800	תמ"ג שנתי לנפש
34%	אחוז מועסקים בחקלאות
21%	אחוז מועסקים בתעשייה
44%	אחוז מועסקים בשירותים

מקור נתונים - CIA - THE WORLD FACTBOOK

3. מיקום יישובים

א. לפניך שמות של שלוש ערים ברפובליקה הדמוקרטית של קונגו - קיסנגני, קינשסה, בוקבו. התבונן במפות באטלס וענה:

1) ציין מהו מאפיין המיקום המשותף לערים קיסנגני וקינשסה. הסבר שתי דרכים בהן מאפיין מיקום זה מהווה יתרון לכלכלת הערים. (9 נקודות)

2) הסבר במה מאפיין המיקום המשותף של קיסנגני וקינשסה מהווה חיסרון לשתי הערים, ומדוע חיסרון זה לא קיים לעיר בוקבו. (8 נקודות)

ב. 1) הסבר גורם גאוגרפי אפשרי ליתרון מיקומה של קינשסה כעיר בירה. (4 נקודות)

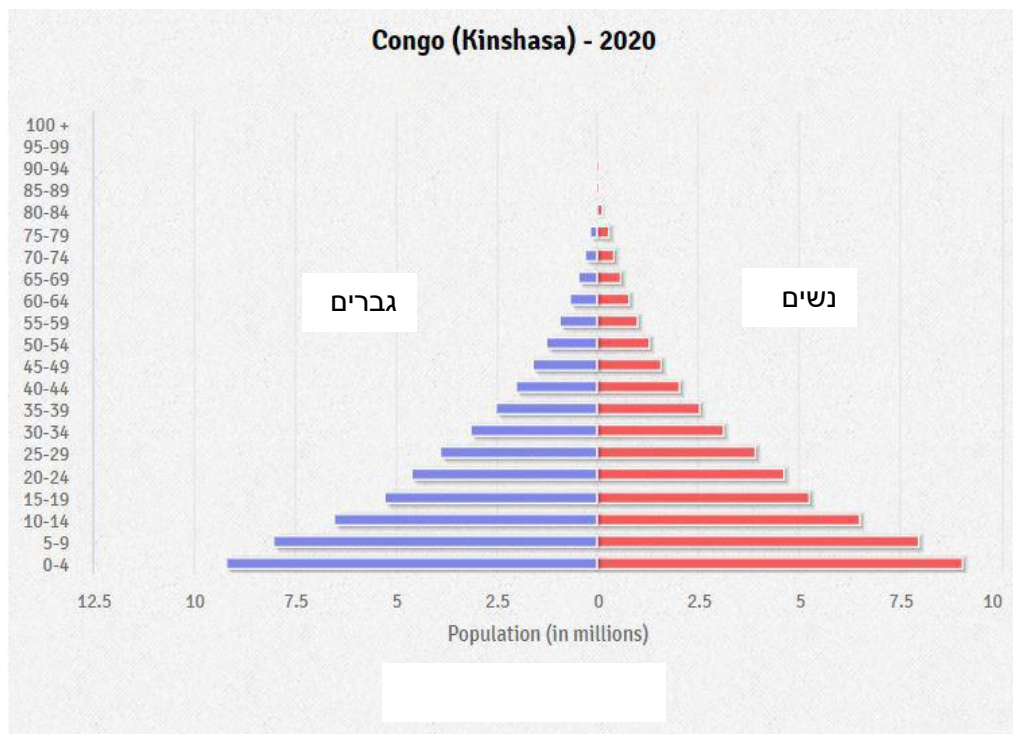
2) יש הטוענים כי מיקומה של קינשסה עלול להוות בעייה לתפקודה כעיר בירה. הסבר מדוע. (4 נקודות)

4. אוכלוסייה

א. לפניך פירמידת גילים של הרפובליקה הדמוקרטית של קונגו.

1) הסבר שני גורמים לגודל של כל אחת מקבוצות האוכלוסייה התלויה - סה"כ ארבעה גורמים. (12 נקודות)

2) הסבר מדוע מבנה הגילים המוצג מהווה נטל על כלכלת המדינה. (5 נקודות)



מקור - CIA – THE WORLD FACTBOOK

ב. תאר שתי דרכים שבעזרתן יכולה המדינה להתמודד עם הבעיות הדמוגרפיות שבה. (8 נקודות)

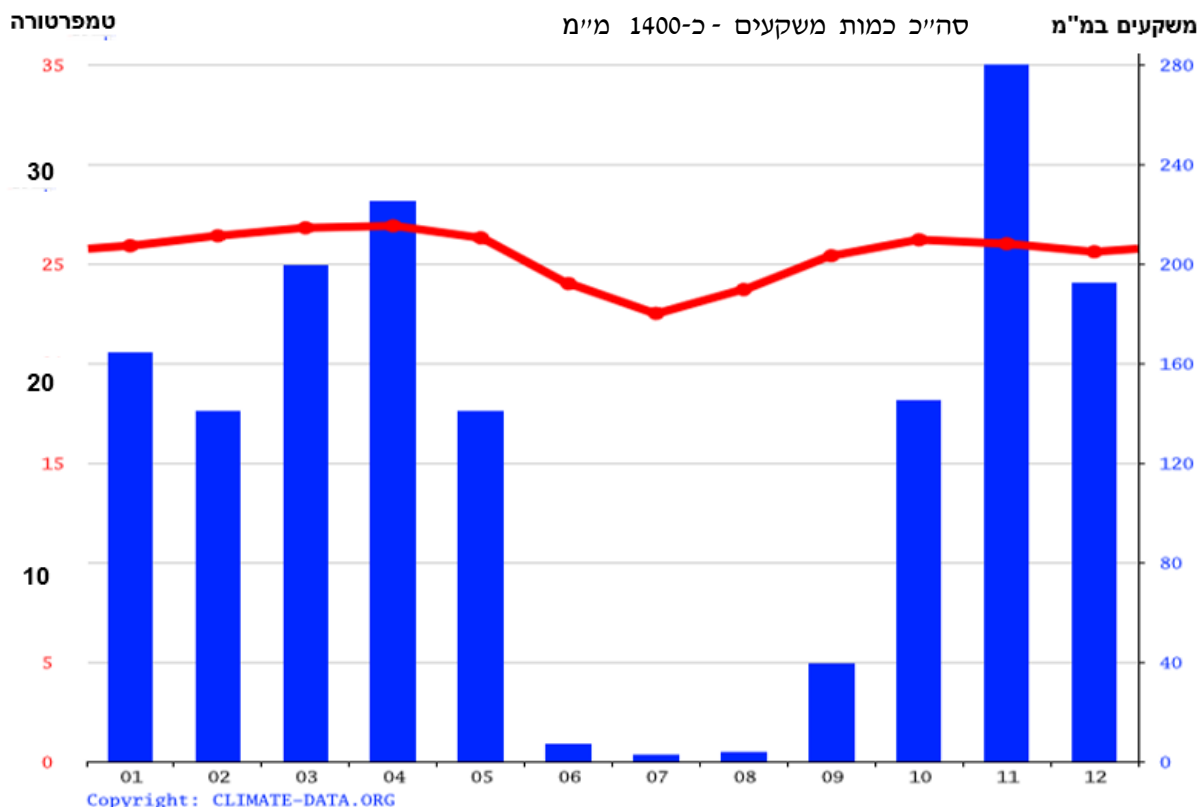
5. אקלים

א. לפניך קלימוגרף שמייצג את האקלים בקינשסה, עיר הבירה של קונגו, ובחלק גדול משטח המדינה.

1) ציין מהו סוג האקלים המתואר בקלימוגרף. נמק את קביעתך על פי שני מאפיינים הנראים בקלימוגרף - מאפיין אחד של הטמפרטורה ומאפיין אחד של המשקעים. (11 נקודות)

2) הסבר את הגורם העיקרי לסוג האקלים שציינת באזור זה. (6 נקודות)

ב. האם האקלים שציינת בסעיף א' מהווה יתרון או חסרון לאדם? הבא שני נימוקים לקביעתך. (8 נקודות)



בהצלחה!

זכות היוצרים שמורה למדינת ישראל
אין להעתיק או לפרסם אלא ברשות משרד החינוך

הרפובליקה הדמוקרטית של קונגו – מפה סכמטית

