

סוג הבחינה: א. בגרות לבתי ספר על-יסודיים
ב. בגרות לנבחנים אקסטרניים
מועד הבחינה: קיץ תשע"ב, 2012
מספר השאלון: 653, 917531
נספח: נוסחאות ונתונים בפזיקה ל-5 יח"ל

פזיקה מכניקה

לתלמידי 5 יחידות לימוד

הוראות לנבחן

- א. משך הבחינה: שעה ושלושה רבעים (105 דקות).
- ב. מבנה השאלון ומפתח ההערכה:
בשאלון זה חמש שאלות, ומהן עליך לענות על שלוש שאלות בלבד.
לכל שאלה — $33\frac{1}{3}$ נקודות; $33\frac{1}{3} \times 3 = 100$ נקודות
- ג. חומר עזר מותר בשימוש: (1) מחשבון.
(2) נספח נוסחאות ונתונים בפזיקה המצורף לשאלון.
- ד. הוראות מיוחדות:
- (1) ענה על מספר שאלות כפי שהתבקשת. תשובות לשאלות נוספות לא ייבדקו (התשובות ייבדקו לפי סדר הופעתן במחברת הבחינה).
 - (2) בפתרון שאלות שנדרש בהן חישוב, רשום את הנוסחאות שאתה משתמש בהן. כאשר אתה משתמש בסימן שאינו בדפי הנוסחאות, כתוב במילים את פירושו הסימן. לפני שאתה מבצע פעולות חישוב, הצב את הערכים המתאימים בנוסחאות. רשום את התוצאה שקיבלת ביחידות המתאימות. אי־רשום הנוסחה או אי־ביצוע ההצבה או אי־רשום יחידות עלולים להפחית נקודות מהציון.
 - (3) כאשר אתה נדרש להביע גודל באמצעות נתוני השאלה, רשום ביטוי מתמטי הכולל את נתוני השאלה או את חלקם; במידת הצורך אפשר להשתמש גם בקבועים בסיסיים, כגון תאוצת הנפילה החופשית g או קבוע הכבידה העולמי G .
 - (4) בחישוביך השתמש בערך 10 m/s^2 לתאוצת הנפילה החופשית.
 - (5) כתוב את תשובותיך בעט. כתיבה בעיפרון או מחיקה בטיפקס לא יאפשרו ערעור. מותר להשתמש בעיפרון לסרטוטים בלבד.

כתוב במחברת הבחינה בלבד, בעמודים נפרדים, כל מה שברצונך לכתוב כטיוטה (ראשי פרקים, חישובים וכדומה).
רשום "טיוטה" בראש כל עמוד טיוטה. רישום טיוטות כלשהן על דפים שמחוץ למחברת הבחינה עלול לגרום לפסילת הבחינה!

ההנחיות בשאלון זה מנוסחות בלשון זכר ומכוונות לנבחנות ולנבחנים כאחד.

בהצלחה!

/המשך מעבר לדף/

השאלות

ענה על שלוש מהשאלות 1-5.

(לכל שאלה — $3\frac{1}{3}$ נקודות; מספר הנקודות לכל סעיף רשום בסופו).

1. האסטרונוטיות אליס וקורל נחתו על כוכב לכת, וערכו שם ניסוי בנפילה חופשית. הן שחררו גוף מגובה מסוים מעל פני הכוכב ורשמו את מקומו האנכי ביחס לציר ה־y, שכיוונו החיובי כלפי מטה, כפונקציה של הזמן t. מהירות הגוף ברגע $t = 0$ אינה בהכרח אפס. תוצאות הניסוי מוצגות בטבלה שלפניך.

t (s)	0	0.08	0.16	0.24	0.32	0.4	0.48
y (m)	0.016	0.150	0.430	0.810	1.400	2.000	2.840
v (m/s)							

- א. העתק את הטבלה למחברתך. חשב בקירוב את מהירות הגוף בזמן $t = 0.24$ s.
- ב. פרט את חישוביך, וכתוב את התוצאה במקום המתאים בטבלה שבמחברתך. (8 נקודות)
- ג. חשב את מהירות הגוף בזמנים: $t(s) = 0.08, 0.16, 0.32, 0.4$ וכתוב את התוצאות במקומות המתאימים בטבלה שבמחברתך. אין צורך לפרט את חישוביך. (4 נקודות)
- ד. סרטט דיאגרמת פיזור (נקודות במערכת צירים) של מהירות הגוף כפונקציה של הזמן. הוסף לדיאגרמת הפיזור קו מגמה. (10 נקודות)
- ה. חשב את השיפוע של קו המגמה. מה מייצג גודל זה? הסבר. (6 נקודות)
- ו. נתון כי רדיוס הכוכב שווה לרדיוס של כדור הארץ. היעזר בתוצאות הניסוי וחשב את היחס בין מסת כוכב הלכת ובין מסת כדור הארץ. (5 $\frac{1}{3}$ נקודות)

2. גוף שמסתו m מחליק במהירות קבועה במורד מישור משופע שזווית נטייתו θ .

א. סרטט תרשים של הכוחות הפועלים על הגוף, וציין מהו כל כוח.

מהו הכוח השקול הפועל על הגוף? הסבר.

(8 נקודות)

בסעיפים שלפניך **בטא** את תשובותיך באמצעות הפרמטרים m, v_0, θ, t, F, g , בהתאם לצורך.

הגוף נע במעלה המישור ממהירות התחלתית v_0 שכיוונה מקביל למישור, ובשלב מסוים הוא נעצר ונשאר במקום.

ב. הסבר מדוע הגוף אינו מחליק מטה לאחר שהוא נעצר. (8 נקודות)

ג. איזה מרחק לאורך המישור עבר הגוף בתנועתו במעלה המישור? ($\frac{1}{3}g$ נקודות)

אחרי שהגוף נעצר מפעילים עליו במשך t שניות כוח קבוע F המקביל למישור, והגוף מתחיל לנוע במורד המישור.

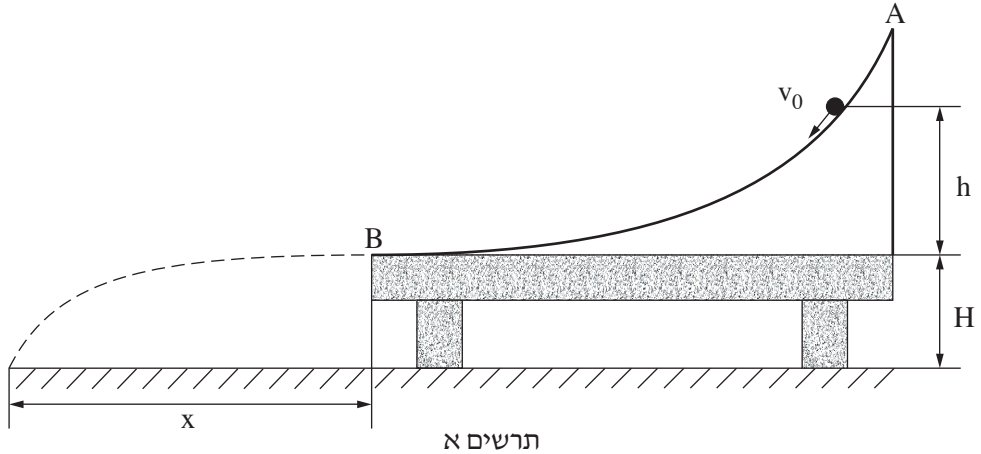
ד. (1) בטא את גודל המהירות שאליה יגיע הגוף כעבור פרק הזמן t . הנח שהגוף אינו מגיע לתחתית המישור בפרק הזמן t .

(2) האם הגוף יגיע לתחתית המישור במהירות שביטאת בתת-סעיף ד(1)? נמק.

(8 נקודות)

/המשך בעמוד 4/

3. אורי הידק מסילה חלקה AB לשולחן שגובהו H. הקצה התחתון של המסילה אופקי ומגיע בדיוק לקצה השולחן, כמתואר בתרשים א.

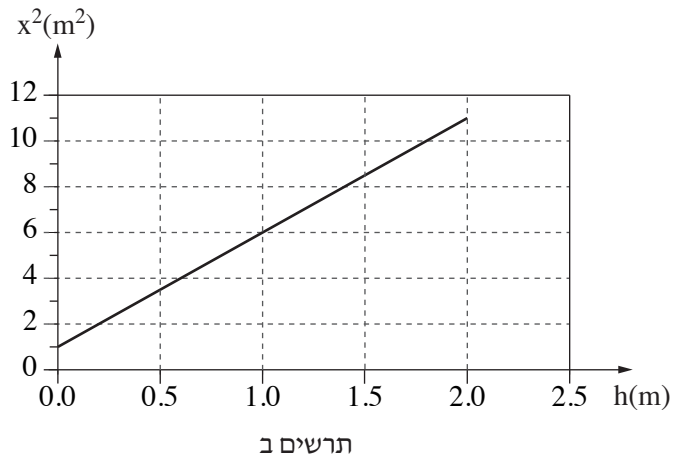


אורי ביצע ניסוי שבו הוא "ירה" כדור קטן על המסילה במהירות התחלתית שגודלה v_0 וכיוונה משיק למסילה.

הכדור נע לאורך המסילה עד שהגיע לקצה השולחן, B, והמשיך בתנועתו באוויר עד שפגע ברצפה.

אורי מדד את המרחק האופקי x מקצה השולחן עד נקודת הפגיעה (ראה תרשים א). אורי ביצע את הניסוי כמה פעמים, ובכל פעם הוא שינה את הגובה h שממנו "נורה" הכדור, אך גודל המהירות ההתחלתית v_0 נשאר קבוע (וכיוון המהירות משיק למסילה).

בתרשים ב מוצג גרף של x^2 כפונקציה של h.



(שים לב: סעיפי השאלה בעמוד הבא.)

א. הוכח כי הקשר בין x^2 (ריבוע המרחק האופקי) לבין h (הגובה מעל פני השולחן)

$$\text{נתון על ידי הביטוי } x^2 = \frac{2H}{g} v_0^2 + 4Hh \quad (10 \text{ נקודות})$$

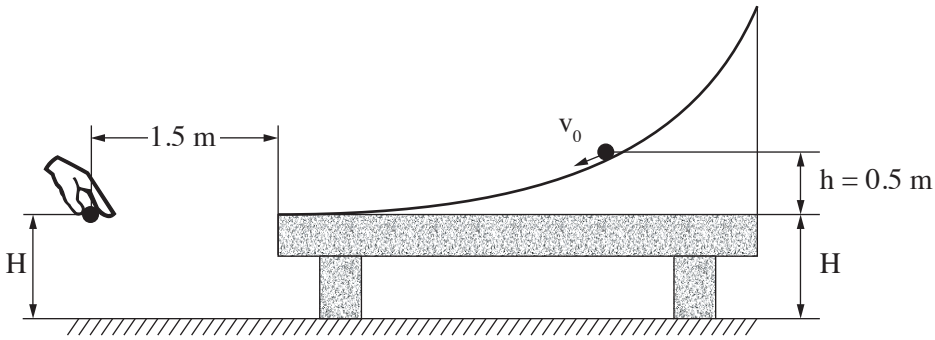
ב. הסבר מדוע $4H$ מייצג את שיפוע הגרף המוצג בתרשים ב. (4 נקודות)

ג. חשב את גובה השולחן H . (7 נקודות)

ד. חשב את גודל המהירות ההתחלתית v_0 (7 נקודות)

ה. באחת הפעמים ערך אורי את הניסוי כאשר הגובה היה $h = 0.5 \text{ m}$.

ברגע שהכדור עזב את קצה המסילה אורי שחרר ממנוחה כדור נוסף, מגובה H מעל הקרקע ובמרחק אופקי של 1.5 m מקצה השולחן, כמתואר בתרשים ג.



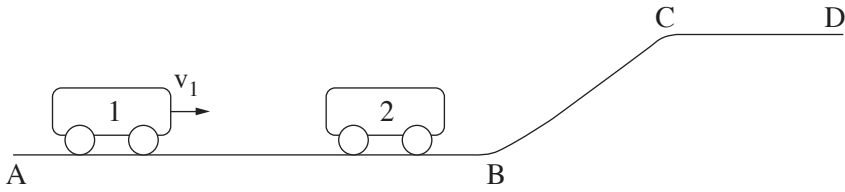
תרשים ג

הוכח שהכדורים ייפגשו לפני פגיעתם בקרקע. (5 $\frac{1}{3}$ נקודות)

/המשך בעמוד 6/

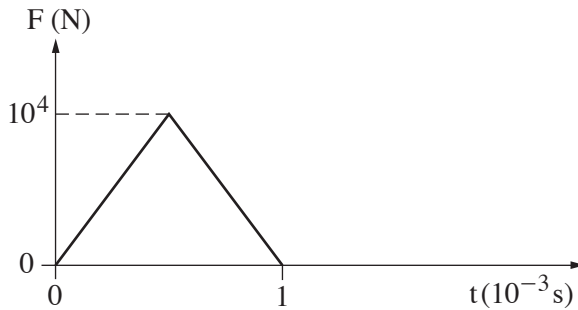
4. בתרשים א מוצגת מסילה חלקה ABCD.

קרונית 1 שמסתה $m_1 = 2\text{kg}$ נעה ימינה על קטע המסילה האופקי AB במהירות שגודלה v_1 .



תרשים א

קרונית 1 מתנגשת התנגשות מצח אלסטית (לחלוטין) בקרונית 2 הנמצאת במנוחה על קטע AB של המסילה. הנח שתרשים ב מתאר את הכוח F שהפעילה קרונית 1 על קרונית 2 במהלך ההתנגשות, כפונקציה של הזמן.



תרשים ב

א. איזה גודל פיזיקלי מייצג השטח הכלוא בין העקומה שבתרשים לבין ציר הזמן?

(6 נקודות)

ב. לאחר ההתנגשות קרונית 2 נעה ימינה במהירות $u_2 = 1.25 \left(\frac{\text{m}}{\text{s}}\right)$.

חשב את המסה m_2 של קרונית 2. (9 נקודות)

ג. כתוב שתי משוואות לחישוב המהירות של קרונית 1 לפני ההתנגשות, והצב במשוואות את

הערכים המתאימים. אין צורך לפתור את המשוואות. (7 נקודות)

(שים לב: המשך השאלה בעמוד הבא.)

/המשך בעמוד 7/

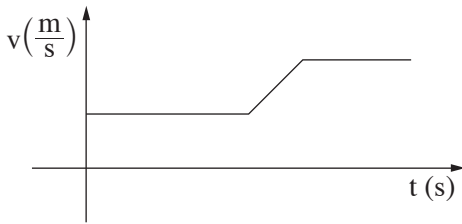
ד. העתק את תרשים ב למחברתך.

הוסף לתרשים עקומה המתארת את הכוח שקרונית 2 מפעילה על קרונית 1 במהלך ההתנגשות.
($6\frac{1}{3}$ נקודות)

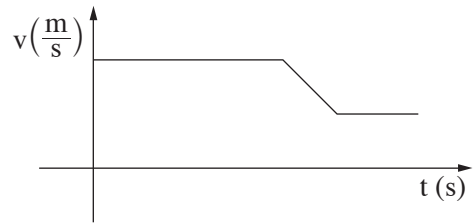
ה. בשלב מסוים של תנועתה, עולה קרונית 2 בקטע BC של המסילה, נעה לאורכו, וממשיכה לנוע על פני קטע CD של המסילה.

איזה מבין הגרפים (1)-(3) שלפניך מתאר נכון את גודל המהירות של קרונית 2 כפונקציה של הזמן, מהרגע שבו הסתיימה ההתנגשות עד הרגע שבו היא מגיעה לנקודה D? נמק.

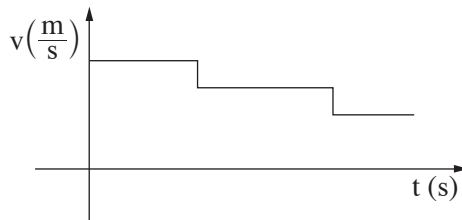
(5 נקודות)



(2)



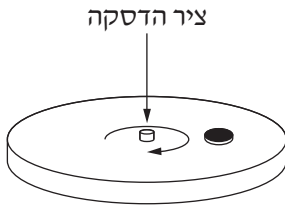
(1)



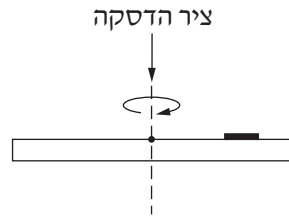
(3)

/המשך בעמוד 8/

5. דסקה מסתובבת במישור אופקי בתדירות קבועה של 90 סיבובים לדקה. על הדסקה מונח מטבע קטן שמסתו 5gr, המסתובב עם הדסקה (ראה תרשימים א, ב). מקדם החיכוך הסטטי בין הדסקה למטבע הוא $\mu_s = 0.6$.



תרשים ב



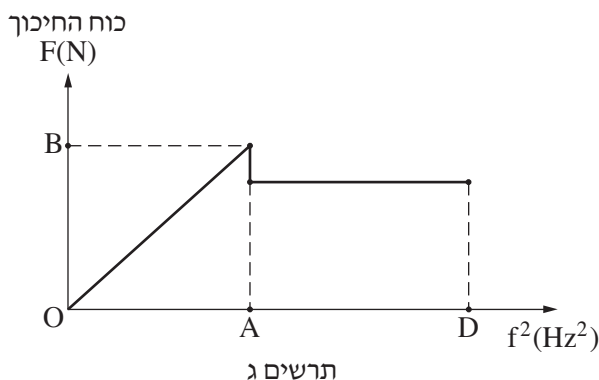
מבט צד

תרשים א

א. העתק למחברתך את תרשים א, והוסף לו סרטוט של כל הכוחות הפועלים על המטבע כשהדסקה מסתובבת. ציין ליד כל כוח את שמו ורשום מי מפעיל כל כוח. (9 נקודות)

ב. חשב את המרחק המרבי (מקסימלי) מציר הדסקה, שבו יכול המטבע להימצא במנוחה ביחס לדסקה בלי שהוא יחליק על פני הדסקה. (7 $\frac{1}{3}$ נקודות)

מניחים את המטבע על גבי הדסקה במרחק שחישבת בסעיף ב. מתחילים לסובב את הדסקה ומגדילים באטיות את תדירות הסיבוב שלה, החל מאפס סיבובים לדקה. בתרשים ג מוצג הגודל של כוח החיכוך הפועל על המטבע כפונקציה של ריבוע תדירות הסיבוב של הדסקה. בתחום התדירויות AD המטבע מחליק.



תרשים ג

ג. מצא את שיעורי הנקודות A ו-B. הסבר את תשובתך. (9 נקודות)

ד. אילו מסת המטבע הייתה גדולה מזו הנתונה, האם הגרף המוצג בתרשים ג היה משתנה?

נמק. (8 נקודות)

בהצלחה!