

הקדמה

החידון המתקיים כאן היום הוא שיאו של תהליך חינוכי שיוזמיו הם משרד החינוך התרבות והספורט - מינהל חברה ונוער והמועצה לשימור מבנים ואתרי התיישבות.

לשם ביצוע התהליך הזה הוכנה מקראה מיוחדת וניתנו הנחיות מפורטות לביצוע השלבים השונים. במהלך ההכנות לחידון ביקרו התלמידים באתרי ראשית ההתיישבות ולמדו באופן בלתי אמצעי את קורותיהם.

בשלב הבית ספרי עסק החידון בעיקר בתקופה שעד מלחמת העולם הראשונה - באירועים חשובים בתולדות היישוב אז, בתולדותיהן של המושבות הראשונות, באנשי הישוב הישן ועוד ועוד. השתתפו בו כ-15,000 תלמידים.

בשלב המחוזי עסק החידון גם בתקופה שנכללה בחידון הבית ספרי, אך גם בתקופות שאחריה והגיע כמעט עד לימינו אנו. לשלב זה עלו שני המצטיינים מכל בית ספר, ובסך הכול השתתפו בו כ-300 תלמידים.

בשלב הארצי משתתפים שני הראשונים מכל מחוז. הם עברו מבחן מוקדם בכתב ומגיעים אל החידון הפומבי עם הנקודות שצברו בשלב המוקדם.

כל התהליך המורכב הזה מכוון להשגת מטרות אלה:

1. לחזק את הזיקה למורשת העבר ולהמחיש את היותנו חוליה הממשיכה מורשת זו.
2. להעריך את פועלם וכושר עמידתם של ראשונים.
3. להכיר אתרי התיישבות בסביבה הקרובה למקום מגורי התלמידים.
4. להכיר פרקים בתולדות היישוב במקומות שבהם התרחשו האירועים.
5. להבין את החשיבות שבשימור אתרים אלה.

אנחנו מקווים שאכן מטרות אלו הושגו

בברכה

צוות היגוי החידון

**חידון ארצי לנוער בידיעת הארץ -
תולדות היישוב ואתרי ראשונים
שלב הגמר - המבחן בכתב**

שאלה מספר 1:

זיהוי אתרים ומיקומם על המפה

לפניך 12 צילומי אתרים. עליך לזהות אותם ולרשום את שמם ברשימה שבעמוד הבא. במפה האילמת המצורפת מסומנות 24 ספרות, אך רק 12 מתוכן מציינות את מיקומם של האתרים שזיהית.

עליך לרשום בטור השני (בהמשך לזיהוי האתר) איזה מספר מציין את מיקומו של האתר במפה.

אפשר להיעזר במפה האילמת ולרשום גם עליה את שם היישוב שזיהית, אך בכל מקרה יש לרשום את המספר בטור המתאים בדפים אלה!

כל זיהוי נכון של צילום יקנה לך נקודה ועבור ציון מיקומו הנכון תוענק לך נקודה נוספת, ובסך הכול אפשר לצבור בשאלה זו עד 24 נקודות.

מספרו במפה


זיהוי הצילום

_____	.1
_____	.2
_____	.3
_____	.4
_____	.5
_____	.6
_____	.7
_____	.8
_____	.9
_____	.10
_____	.11
_____	.12

זוהו את האתרים



2.



1.




4.




3.



.6




.5




.8



.7



.10



.9



.12



.11

