



ورقة عمل للمهّمة 6: قياسات الطول

البند أ
أمامك أزواج من أقلام الرصاص.
في كل بند، أخط بدايرة قلم الرصاص الأطول.
(استعين بخيط صوف إذا احتجت إلى ذلك)

1.



2.



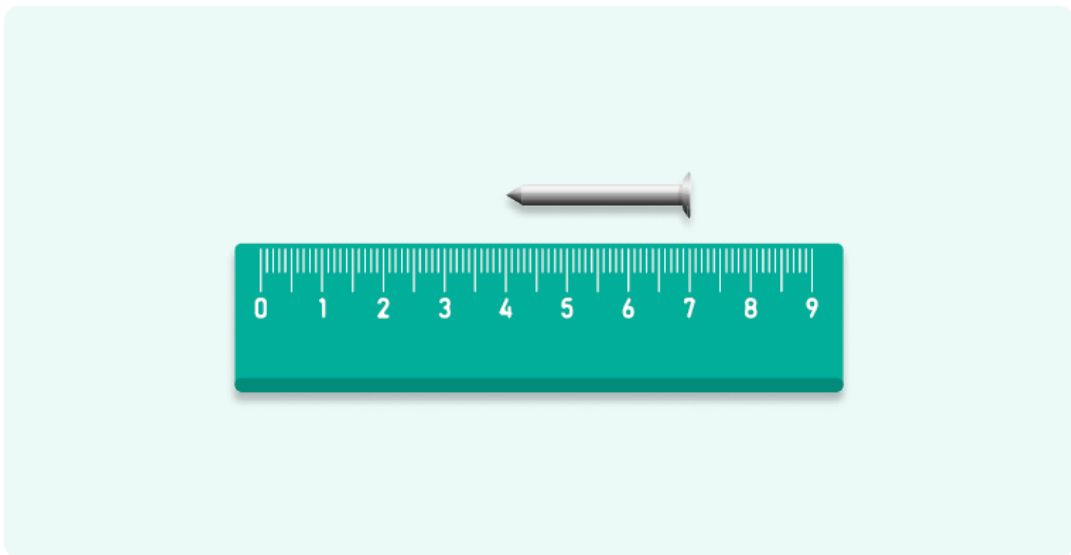
3.



البند ب
أَكْمِلْ:
طول فرشاة الأسنان __ سنتيمترات
(اِسْتَعِنْ بِالْمِسْطَرَّةِ)



البند ج
يَحْسَبِ الرَّسْمَةَ التَّالِيَةَ، مَا هُوَ طَوْلُ الْمِسْمَارِ؟



طول المِسمار __ سنتيمترات

ورقة عمل للمهمة 7: تمارين

أكمل الأعداد الناقصة في التمارين التالية:
(يُمكنُ الإستعانة بالأغصية أو الأقراص)

1. $4 + \square = 10$

2. $10 - \square = 7$

3. $5 - \square = 0$

4. $13 = \square + 3$

5. $\square - 3 = 4$

6. $1 + 4 + 9 = \square$

7. $6 + 3 = \square + 2$

8. $8 + 6 = \square$

9. $12 - 3 = \square$