



שמי: _____ הכיתה שלי: _____

פאזל ריבועי

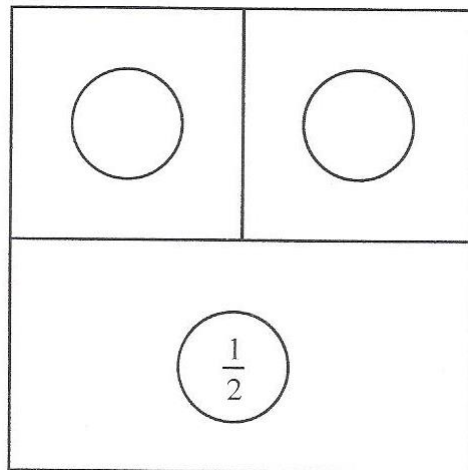
אביזרים דרושים: סרגלים

לפניכם סרטוט של פאזלים ריבועיים.

איזה חלק משטח הפאזל כולו תופס כל אחד מהחלקים של הפאזל?

השלימו את השברים המתאימים בעיגולים שבסרטוט.

1. דוגמה:



משרד החינוך, התרבות והספורט

הגופים המשתתפים בפרויקט:

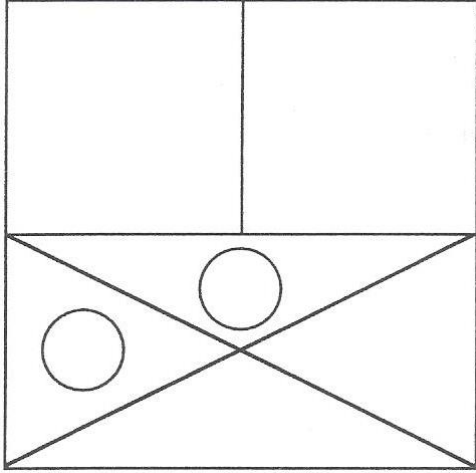
האגף הבכיר למיכון ומערכות מידע
חטיבת מערכות מידע בחינוך

לשכת ייצור
המדען הראשי

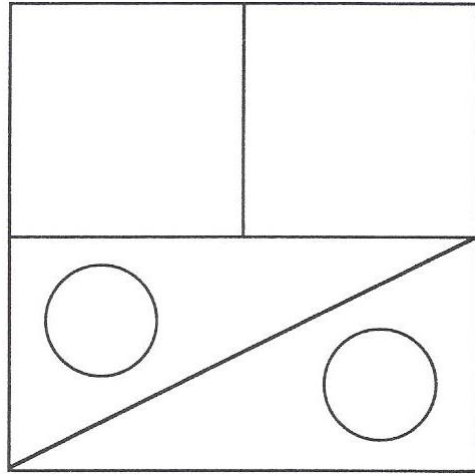
המינהל הפדגוגי
האגף לתכניות לימודים
המחלקה למחקר והערכה

משרד החינוך
 המזכירות הפדגוגית – אגף מדעים
 הפיקוח על הוראת המתמטיקה
 מאגר משימות הערכה

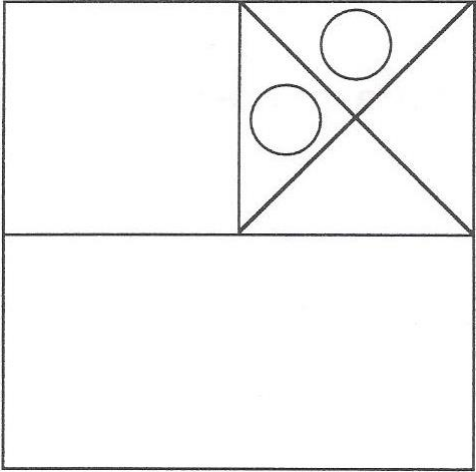
ב.



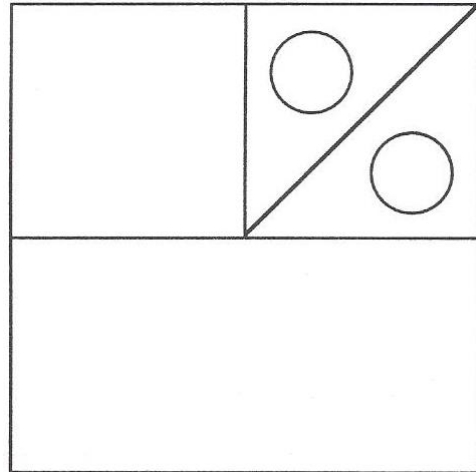
א.



ד.



ג.



משרד החינוך, התרבות והספורט

הגופים המשתתפים בפרויקט:

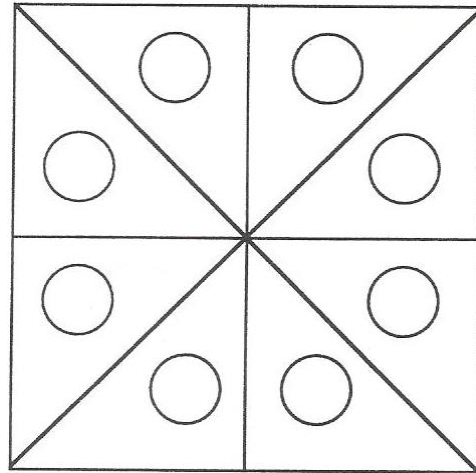
האגף הבכיר למיכון ומערכות מידע
 חטיבת מערכות מידע בחינוך

לשכת ייצוג
 המדען הראשי

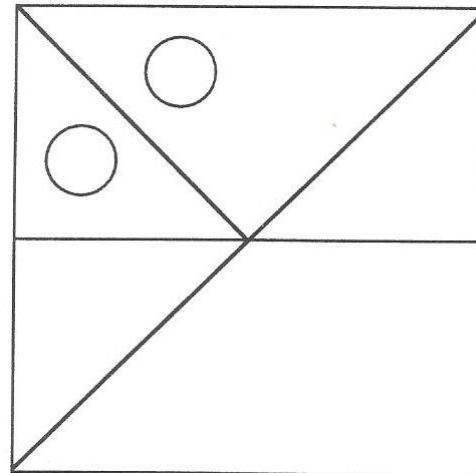
המינהל הפדגוגי
 האגף לתכניות לימודים
 המחלקה למחקר והערכה

משרד החינוך
 המזכירות הפדגוגית – אגף מדעים
 הפיקוח על הוראת המתמטיקה
 מאגר משימות הערכה

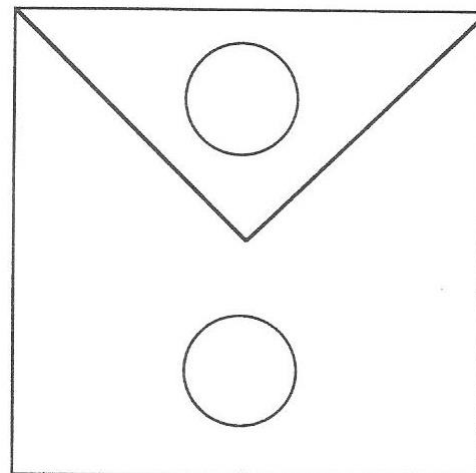
2. א.



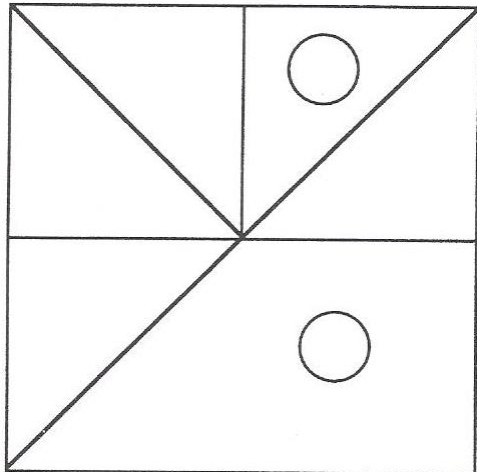
ג.



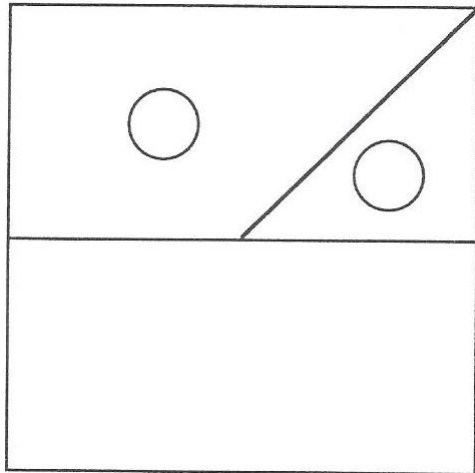
ה.



ב.



ד.



משרד החינוך, התרבות והספורט

הגופים המשתתפים בפרויקט:

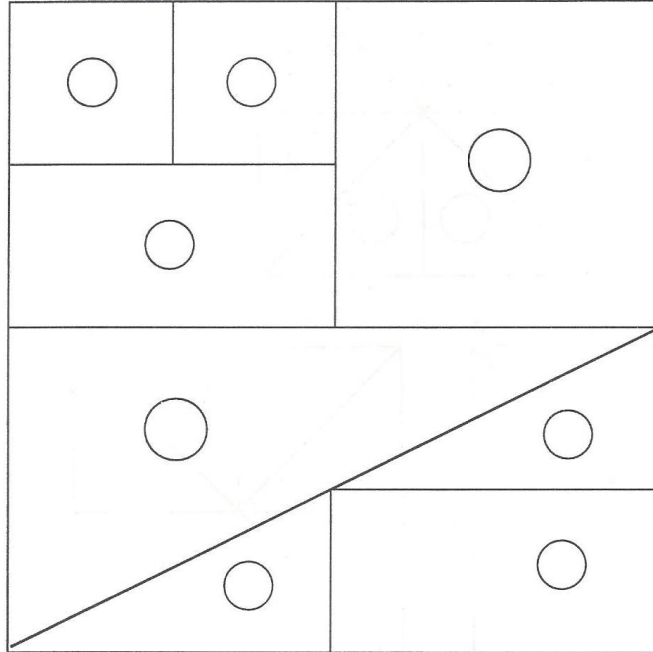
האגף הבכיר למיכון ומערכות מידע
 חטיבת מערכות מידע בחינוך

לשכת
 המדען הראשי


המינהל הפדגוגי
 האגף לתכניות לימודים
 המחלקה למחקר והערכה

משרד החינוך
 המזכירות הפדגוגית – אגף מדעים
 הפיקוח על הוראת המתמטיקה
 מאגר משימות הערכה

3.



4. א. לפניכם ריבוע. סרטטו בעזרת סרגל פאזל משלכם.
 ב. רשמו על כל חלק את השבר המתאים.



משרד החינוך, התרבות והספורט

הגופים המשתתפים בפרויקט:

האגף הבכיר למיכון ומערכות מידע
 חטיבת מערכות מידע בחינוך

לשכת ייצוג
 המדען הראשי

האגף לחינוך יסודי

המינהל הפדגוגי
 האגף לתכניות לימודים
 המחלקה למחקר והערכה