



שמי: _____ הכיתה שלי: _____

מיכלי חלב

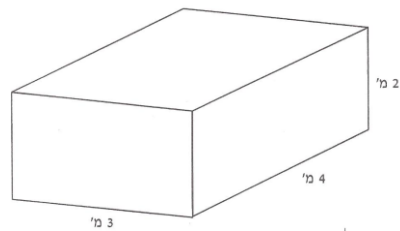
בעל רפת מאחסן את החלב במיכלים שצורתם תיבה.

1. לפניכם 4 מיכלי חלב.

רשמו ליד כל מיכל את נפחו במטרים מעוקבים (מ"ק)

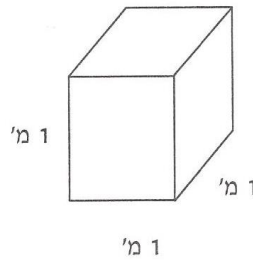
א.

_____ מטרים מעוקבים



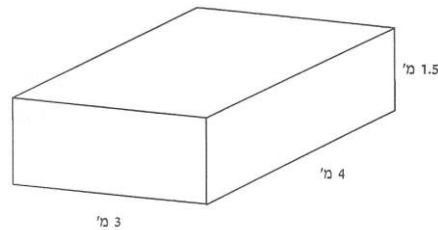
ב.

_____ מטרים מעוקבים



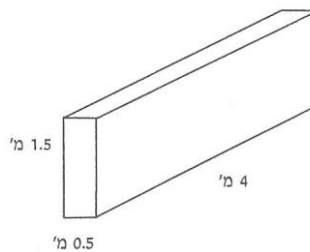
ג.

_____ מטרים מעוקבים



ד.

_____ מטרים מעוקבים



משרד החינוך, התרבות והספורט

הגופים המשתתפים בפרויקט:

האגף הבכיר למיכון ומערכות מידע
חטיבת מערכות מידע בחינוך

לשכת ייצוג
המדען הראשי

המינהל הפדגוגי
האגף לתכניות לימודים
המחלקה למחקר והערכה

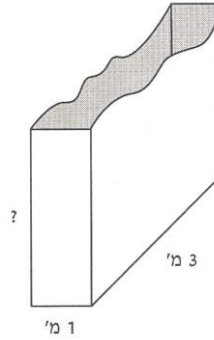
2. לפניכם בסיסים של מיכלי חלב.

רשמו ליד כל סרטוט מה צריך להיות גובה המיכל כדי שנפחו יהיה

12 מטרים מעוקבים.

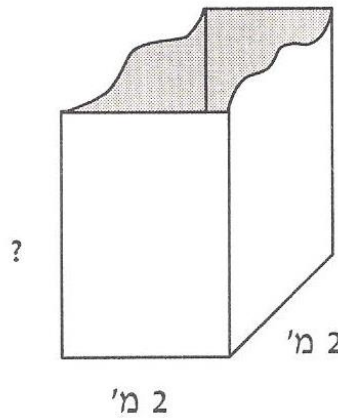
גובה _____

א.



גובה _____

ב.



3. מצאו שתי דוגמאות משלכם למיכלי חלב בעלי נפח של 8 מטרים מעוקבים.

רשמו מידות מתאימות.

דוגמה א': _____

דוגמה ב': _____

משרד החינוך, התרבות והספורט

הגופים המשתתפים בפרויקט:

האגף הבכיר למיכון ומערכות מידע
 חטיבת מערכות מידע בחינוך

לשכת ייצור
 המדען הראשי

המינהל הפדגוגי
 האגף לתכניות לימודים
 המחלקה למחקר והערכה

4. א. מצאו מידות של מיכל שנפחו 27 מטרים מעוקבים וצורתו קובייה.

ב. מצאו מידות של מיכל שנפחו 10 מטרים מעוקבים, בערך וצורתו קרובה ככל האפשר לצורת קובייה.

משרד החינוך, התרבות והספורט

הגופים המשתתפים בפרויקט:

האגף הבכיר למיכון ומערכות מידע
חטיבת מערכות מידע בחינוך

לשכת ייצור
המדען הראשי

האגף לחינוך יסודי

המינהל הפדגוגי
האגף לתכניות לימודים
המחלקה למחקר והערכה