


## סליחה, מה השעה?



בפעילות זאת נתייחס לשעונים המראים את השעה בספרות ולא בעזרת מחוגים, לדוגמה: 9:39.

■ לשעונים האלה קוראים שעונים דיגיטאליים. באנגלית, משמעות המילה digital היא ספרתי.

■ אם השעון מראה שעה חד-ספרתית, הוא אינו מציין 0 כספרת עשרות, לדוגמה: 2:21.

■ אם השעון מראה דקות חד-ספרתיות, הוא מציין אותן עם 0 כספרת העשרות, לדוגמה: 2:07.

■ בפעילות זאת, נעסוק בשעונים המראים את שעות אחרי הצהריים בעזרת מספרים שמעל 12, לדוגמה: 14:32.

## 1. הכירו! השעון הדיגיטאלי

א. מהי השעה (שעות ודקות) המוקדמת ביותר בשעון דיגיטאלי? \_\_\_\_\_

ב. מהי השעה המאוחרת ביותר בשעון דיגיטאלי? \_\_\_\_\_

ג. כמה זמן עובר משעה 5:30 ועד השעה 7:30? \_\_\_\_\_

ד. כמה זמן עובר משעה 20:00 ועד השעה 1:00? \_\_\_\_\_





ה. כמה זמן עובר מהשעה המוקדמת ביותר ועד השעה המאוחרת ביותר? \_\_\_\_\_

ו. כמה זמן עובר מהשעה המאוחרת ביותר ועד השעה המוקדמת ביותר? \_\_\_\_\_

ז. הסרט "הרפתקאות העכברון צ'יז" התחיל בשעה 19:30 והסתיים בשעה 21:18. מה אורכו של הסרט? \_\_\_\_\_

ח. הטיסה מתל-אביב ללונדון יצאה בשעה 23:12 והגיעה בשעה 4:24, לפי שעון ישראל. כמה זמן נמשכה הטיסה? \_\_\_\_\_


**2. שעת פלינדרום**

שעת פלינדרום היא שעה שניתן לקרוא אותה בשני הכיוונים, משמאל לימין ומימין לשמאל, באותה משמעות, לדוגמה: 9:39 (מסתכלים על השעה ללא הנקודות - 939).

א. לפניכם רשימת שעות. סמנו  $\sqrt{\quad}$  ליד שעות הפלינדרום.

0:08	2:21	3:33	10:00
10:10	10:01	1:00	16:16
21:12	21:21	4:24	14:41

ב. מהי שעת הפלינדרום המוקדמת ביותר בשעון דיגיטאלי? \_\_\_\_\_





ג. מהי שעת הפלינדרום המאוחרת ביותר בשעון דיגיטאלי? \_\_\_\_\_

ד. כמה זמן עובר בין שעת הפלינדרום המאוחרת ביותר ובין זו המוקדמת ביותר? \_\_\_\_\_

ה. כמה פעמים במהלך של יממה, משעה 0:00 ועד השעה 23:59, השעון מראה שעת פלינדרום? \_\_\_\_\_

הסבירו ופרטו: \_\_\_\_\_

---



---



---



---



---



---



---



---




---



---

ו. מהו הזמן הקצר ביותר שבין שתי שעות פלינדרום סמוכות? \_\_\_\_\_

ז. מהו הזמן הארוך ביותר שבין שתי שעות פלינדרום סמוכות? \_\_\_\_\_



מידות



## 3 תאריכי פלינדרום

תאריך פלינדרום הוא תאריך שניתן לקרוא אותו בשני הכיוונים, משמאל לימין ומימין לשמאל, באותה משמעות, לדוגמה: התאריך 4.06.04. הערות:

- מסתכלים על התאריך ללא נקודות - 40604.
- את מספר השנה ואת מספר החודש רושמים בשתי ספרות, כולל 0 משמאל למספר חד-ספרתי של שנה או חודש.
- אין רושמים 0 משמאל למספר חד-ספרתי של יום.

א. מצאו את כל תאריכי הפלינדרום בשנת 2008.

מצאו שנה נוספת שבין 2001 ל-2010 שבה יש אותו מספר של תאריכי פלינדרום, כמו בשנת 2008.

ב. מצאו את כל תאריכי הפלינדרום בשנת 2012.

מצאו שנה נוספת בין 2010 ל-2020 שבה יש אותו מספר של תאריכי פלינדרום, כמו בשנת 2012?

ג. מצאו שנה שבה אין אף תאריך פלינדרום.

ד. מצאו את כל תאריכי הפלינדרום בשנת 2021.