


# סדר במגירות



פעולות במספרים

## מסדרים את הכיתה

התלמידים בכיתה של המורה אלכסנדרה סידרו מגירות ורשמו על כל מגירה את תכולתה.

דוגמה:



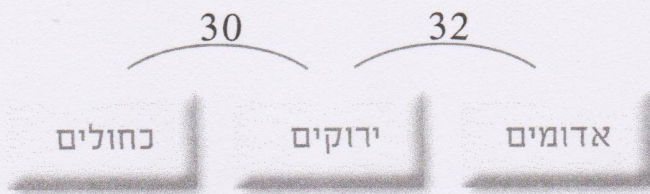
1. בכיתה 50 עטי טוש. יעל ודפנה סידרו אותם בשלוש מגירות.

בכל מגירה עטי טוש בצבע אחר.

דפנה אמרה: "יש 30 עטי טוש ירוקים וכחולים ביחד".

יעל אמרה: "יש 32 עטי טוש אדומים וירוקים ביחד".

עזרו לדפנה וליעל לרשום את מספר עטי הטוש בכל מגירה.

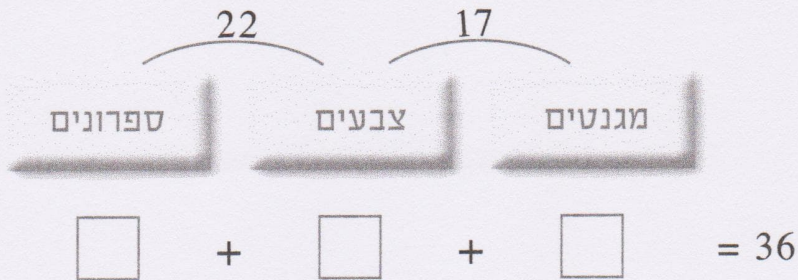


$$\square + \square + \square = 50$$

2. דני סידר 36 הפתעות. הוא הניח אותן ב-3 מגירות.

בכל מגירה הניח דני סוג אחר של הפתעות.

כמה הפתעות בכל מגירה?



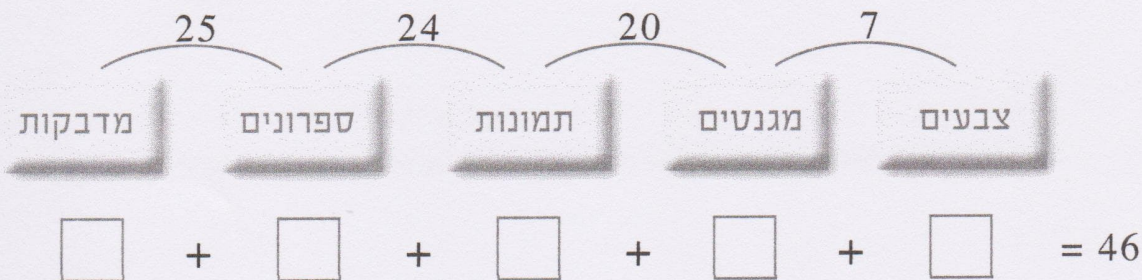
פעילות במספרים

3. לאחר שהמורה אלכסנדרה נתנה חלק מהפתעות וקנתה הפתעות נוספות

היו בכיתה 46 הפתעות מסודרות ב-5 מגירות.

המורה אמרה: "אומר לכם כמה הפתעות יש בכל שתי מגירות, ואתם תמצאו כמה הפתעות יש בכל מגירה. מי שימצא יקבל הפתעה".

עזרו לילדים לזכות בהפתעות.





### אוספים מכוניות

המורה פרידה ביקשה מהתלמידים לאסוף מכוניות לנושא "זהירות בדרכים". התלמידים סידרו את המכוניות ב-4 מגירות.

פעילות במספרים

4. שירה סידרה את המכוניות במגירות ואמרה: "מכוניות פרטיות ומשאיות יש ביחד 21, משאיות וג'פים יש ביחד 20, וג'פים ואוטובוסים יש ביחד 15".

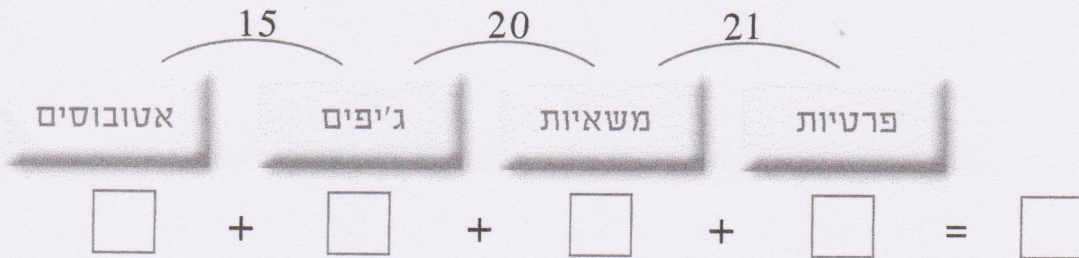
א. כמה מכוניות יש בכל המגירות ביחד? \_\_\_\_\_

הסבירו. \_\_\_\_\_

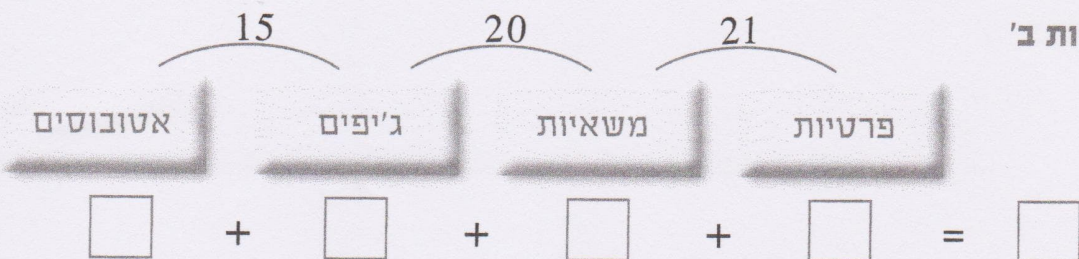
\_\_\_\_\_

ב. השלימו אפשרויות שונות למספר המכוניות בכל מגירה.

אפשרות א'



אפשרות ב'



## אפשרות ג'

$$\begin{array}{cccc}
 \text{15} & \text{20} & \text{21} & \\
 \text{אטובוסים} & \text{ג'פים} & \text{משאיות} & \text{פרטיות} \\
 \square & + \square & + \square & + \square = \square
 \end{array}$$

## אפשרות ד'

$$\begin{array}{cccc}
 \text{15} & \text{20} & \text{21} & \\
 \text{אטובוסים} & \text{ג'פים} & \text{משאיות} & \text{פרטיות} \\
 \square & + \square & + \square & + \square = \square
 \end{array}$$

פעילות במספרים

5. לאחר מספר ימים גדל מספר המכוניות ל-40. מעין מצאה, כי מספר המכוניות הפרטיות והמשאיות ביחד לא השתנה. גם מספר המשאיות והג'פים ביחד לא השתנה.

$$\begin{array}{cccc}
 \square & \text{20} & \text{21} & \\
 \text{אטובוסים} & \text{ג'פים} & \text{משאיות} & \text{פרטיות} \\
 \square & + \square & + \square & + \square = 40
 \end{array}$$

א. כמה ג'פים ואטובוסים יש במגירות ביחד? \_\_\_\_\_

ב. מה יש יותר, משאיות או אטובוסים? \_\_\_\_\_ בכמה? \_\_\_\_\_

הסבירו: \_\_\_\_\_