



פעילות 28 מלבני כרטיסים

גזרו מלבני כרטיסים הנמצאים בדפי הגזירה (בריסטול).
דנה מצמידה כרטיסים לאורך צלעות שלמות, וכך היא בונה מלבנים.



או




למשל:

המידות של כל כרטיס הן: 3 ס"מ x 4 ס"מ.

אסור לחבר שני כרטיסים כמו בציור, כי אין להם צלע משותפת שלמה.




או




למשל:

אסור לחבר כרטיסים כך, שההיצמדות אינה יוצרת מלבן.



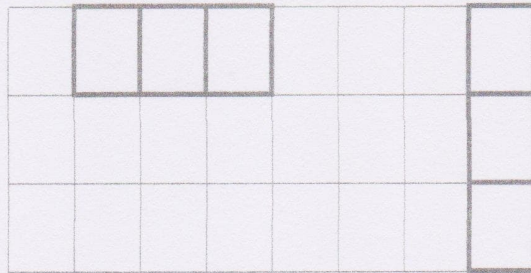
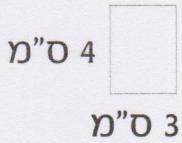
למשל:



1. לדנה שלושה כרטיסים. היא בונה בעזרתם שני מלבנים שונים.

על דף הרשת שלפניכם מסורטטים שני המלבנים של דנה.

בדף זה, כל משבצת מסמלת מלבן שמידותיו 3 ס"מ × 4 ס"מ



כתבו ליד כל אחד מהמלבנים את היקפו בס"מ.

2. כל אחד מילדי הכיתה קיבל מספר כרטיסים והתבקש לבנות בעזרתם את כל המלבנים שאפשר לבנות מכל הכרטיסים שקיבל.

והנה הכרטיסים שקיבל כל אחד:

- דני: 2 כרטיסים
- שי: 10 כרטיסים
- דפנה: 5 כרטיסים
- גבי: 8 כרטיסים
- גליה: 11 כרטיסים
- שחר: 6 כרטיסים

סרטטו עבור כל ילד את המלבנים שלו וחשבו את היקפיהם בסנטימטרים.

(זכרו: מידות כל כרטיס 3 ס"מ × 4 ס"מ.)

בכל קבוצה, הקיפו באדום את המלבן בעל ההיקף הגדול ביותר, והקיפו בכחול את המלבן בעל ההיקף הקטן ביותר.

מידות

גליה:

שחר:




3. לעדי 12 כרטיסים ודף מרושת. עזרו לו לסרטט מלבנים.

א. סרטטו את המלבן בעל ההיקף **הגדול ביותר**.

היקפו של מלבן זה: _____ ס"מ

ב. סרטטו את המלבן בעל ההיקף **הקטן ביותר**.

היקפו של מלבן זה: _____ ס"מ



מדדות

