



\_\_\_\_\_ שמי:

\_\_\_\_\_ הכיתה שלי:

### אגד הערים תל-אביב-יפו

אגד הערים ת"א - יפו הוא גוש עירוני גדול במרכז הארץ הכולל את העיר ת"א-יפו וערים רבות מסביב לה, היוצרות יחד רצף יישובי, שגבולותיו משתנים לפי החלטת המוסדות העירוניים.

1. בעמוד הבא נמצאת מפה של התפתחות אגד הערים תל-אביב-יפו. התבוננו במפה וכתבו:

א. אילו יישובים השתייכו לאגד הערים ב-1961?

01\_

\_\_\_\_\_

ב. אילו יישובים נוספו לאגד ב-1972?

02\_

\_\_\_\_\_

אילו יישובים נוספו לאגד ב-1983?

\_\_\_\_\_

ג. לאילו יישובים באגד יש גבול משותף עם תל-אביב?  
כתבו לפחות 5 יישובים.

03\_

\_\_\_\_\_





אילו יישובים באגד הערים מרוחקים מתל-אביב ואין להם גבול משותף עמה? כתבו לפחות 5 יישובים.

---

---

ד. כמה יישובים יש בחלק הצפוני של האגד?

04\_

---

כמה יישובים יש בחלק הדרומי של האגד?

---

כמה יישובים יש בחלק המזרחי של האגד?

---

ה. מהו המרחק ממרכז העיר תל-אביב (מסומן במעגל) ועד הקצה הדרומי של האגד?

05\_

---

מהו המרחק מן המרכז אל הקצה המזרחי?

---

מהו המרחק מן המרכז לקצה הצפוני של האגד? ולקצה הצפוני-מזרחי?

---


(לצורך המדידה תוכלו להשתמש בקנה-המידה הקווי שבתחתית המפה).

ו. סכמו במשפט את כיווני ההתפתחות של אגד הערים ת"א-יפו - לאילו כיוונים התפתח אגד הערים בכל אחד משלבי הגידול (על פי המפה)?

06\_

---

---



**גאוגרפיה**

03/03

ז. סכמו במשפט את קצב הגידול של אגד הערים בין השנים 1961-1983. כתבו את קצב הגידול הכללי ואת קצב הגידול בכל שלב. (כתבו: מהיר, בינוני, או איטי).

---

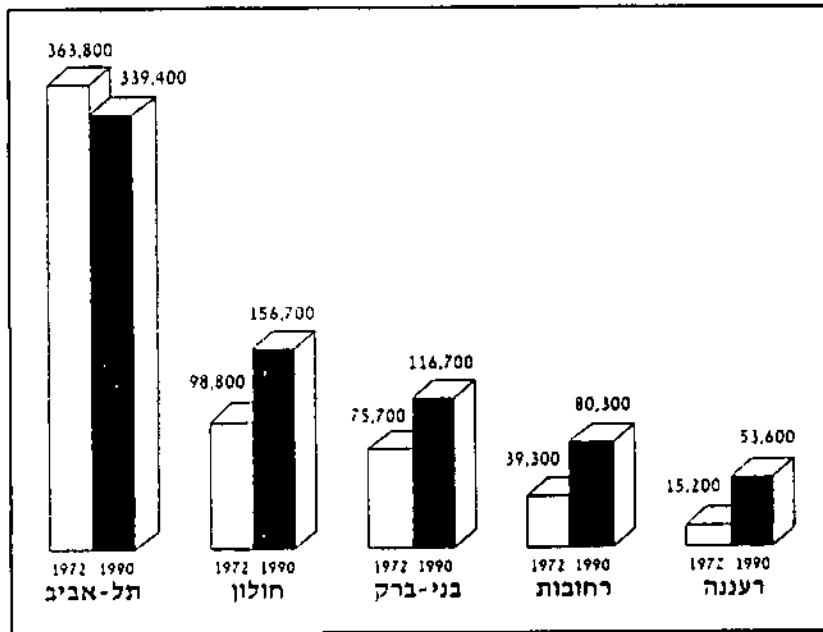


---



---

2. בדיאגרמה שלפניכם נראה שינוי במספר התושבים בתל-אביב ובכמה מערי האגד בין השנים 1972-1990.



מתוך: "מישור החוף התיכון והדרומי וצפון הארץ", הוצאת מטה, 1992, עמוד 201.

- א. מהי מגמת השינוי בתל-אביב? \_\_\_\_\_
- ב. מהי מגמת השינוי בערי האגד שבדיאגרמה? \_\_\_\_\_



ג. נסו להסביר את מגמת השינוי.

הסבירו: מהם היתרונות של מגורים בערי האגד לעומת המגורים במרכז העיר תל-אביב?

רשמו לפחות 3 יתרונות בכל טור.

יתרונות מגורים במרכז תל-אביב	יתרונות מגורים בערי האגד

ד. עיינו ברשימת היתרונות וכתבו: היכן, לדעתכם, יעדיפו לגור:

\_\_\_\_\_ צעירים -

\_\_\_\_\_ משפחות עם ילדים -

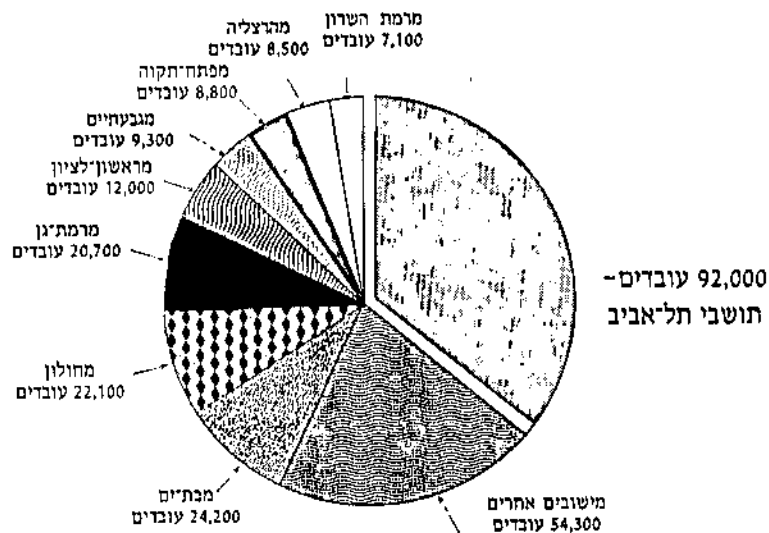
\_\_\_\_\_ מבוגרים -

הסבירו את תשובותיכם.



3. בתל-אביב עובדים מדי יום כ-260,000 איש. מרבית העובדים בעיר הם יוקמים (אנשים הגרים ביישוב אחד ומגיעים מדי יום ליישוב אחר כדי לעבוד בו).

לפניכם דיאגרמה המראה מאילו יישובים באים לת"א העובדים בה.



מתוך: "מישור החוף התיכון, הדרומי וצפון הארץ", הוצאת מטה, עמוד 202.

א. כמה מהעובדים בתל-אביב גרים בעיר עצמה?

\_\_\_\_\_

איזה חלק הם מכלל העובדים - שלישי? מחצית? יותר ממחצית?

\_\_\_\_\_

ב. מאילו יישובים באגד הערים באים עיקר העובדים בתל-אביב?

\_\_\_\_\_

\_\_\_\_\_

12

13



נסו לאפיין יישובים אלו במשפט מסכם: היישובים שמהם באים  
מרבית העובדים בתל-אביב הם:

ג. כמה יוממים מגיעים לתל-אביב?

14

ד. תופעות היוממות מביאה לעיר אלפי אנשים מדי יום, נוסף על תושבי  
העיר העובדים בה. אנשים אלו עובדים בענפי כלכלה מגוונים.

**טבלת המועסקים בעיר תל-אביב על פי ענפים**

ענף התעסוקה	המועסקים	אחוז המועסקים
חרושת - בתי חרושת ובתי מלאכה	47,600	15.5%
..... בינוי	15,500	5%
..... מסחר, שירותי אוכל והארוחה	56,400	18.4%
(חנויות, מסעדות, מלונות, תיירות)		
..... תחבורה, תקשורת ואחסנה	22,500	7.4%
(אטובוסים ומשאיות, מחסני סחורות)		
..... כספים ושירותים עסקיים	73,700	24.2%
(בנקים, חברות יצוא ויבוא)		
..... שירותים צבוריים	61,700	20.3%
(עירייה, משרדי ממשלה, משטרה דואר)		
..... שירותים אישיים	23,900	7.8%
(עורכי דין, אדריכלים, מנהלי חשבונות)		
..... אחרים	4,100	1.4%
סה"כ מועסקים	305,400	100

מתוך: "שנתון סטטיסטי של עיריית ת"א-יפו", 1994, עמוד 130.



גאוגרפיה

03/03

התבוננו בטבלה וכתבו:

באילו ענפי כלכלה עובדים תושבי העיר והיוממים?

רישמו את הענפים בסדר יורד על פי מספר המועסקים. הוסיפו משפטי

הסבר.

---

---

---

---

---

---

---

---

4. כניסתם של יוממים רבים לעיר תל-אביב משפיעה על החיים בעיר בתחומים אחדים.

א. כיצד, לדעתכם, משפיעה תופעת היוממות על התחומים האלה:

תחבורה- \_\_\_\_\_

---

מסחר- \_\_\_\_\_

---

מסעדות- \_\_\_\_\_

---

אתרי בילוי ובידור- \_\_\_\_\_

---





גאוגרפיה

03/03

ב. הוסיפו תחומים נוספים המושפעים, לדעתכם, מן היוממות, והסבירו את תשובתכם.

---

---


---

---

---

---

5. "תל-אביב - עיר ללא הפסקה" - כך אומרת סיסמת פרסומת המתייחסת לעיר תל-אביב.







03/03

## אגד הערים תל-אביב-יפו

### תוכן המשימה

המשימה עוסקת בתופעה האורבנית של אגד הערים תל-אביב-יפו בתהליך ההתפתחות של אגד הערים, בקצב התפתחותו, במאפיינים של אגד הערים, וביתרונות של מגורים במרכז האגד - ת"א, מול יתרונות המגורים בערי האגד.

המשימה מתייחסת לתופעות היוממות באגד הערים, נהירת אלפי עובדים מערי האגד לעבודה בתל-אביב, ובהשלכות של תופעה זו על מגוון תחומים בעיר תל-אביב. כמו כן, יש בדיקה של ענפי הכלכלה העיקריים באגד הערים.

המשימה בודקת את הסיסמה הרווחת "תל-אביב - עיר ללא הפסקה" ואת ההשלכות שיש לעיר ללא הפסקה על חיי תושביה, מגוון האפשרויות בעיר, והיתרונות והחסרונות של איכות החיים בעיר.

### מס' השאלה דרישה קוגניטיבית

1. א-ג. הפקת מידע ממפה על שלכי ההתפתחות של אגד הערים תל-אביב-יפו. מהו מספר היישובים שנוספו לאגד בכל שלב, לאילו יישובים יש גבול משותף עם תל-אביב ולאילו אין.
- 7.1. הפקת מידע ממפה על כיווני ההתפתחות של אגד הערים.
- 7.1. מדידת מרחקים באגד הערים תל-אביב-יפו בעזרת קנה-מידה קווי, וחישוב המרחקים במציאות.
- 1.1-ז. הסקת מסקנות מנתוני המפה לגבי כיווני ההתפתחות וקצב ההתפתחות של אגד הערים. סיכום מילולי של שני נושאים אלו.
2. א-ג. הפקת מידע מדיאגרמה לגבי מגמות שינוי במספר תושבים בעיר תל-אביב ובערי האגד. התייחסות לסדרת נתונים ולתהליך שינוי.
- 7.2. זיהוי הסיבות למגמות השינוי הנראות בדיאגרמה וארגון המידע בטבלה המשווה את יתרונות המגורים בעיר תל-אביב עם יתרונות המגורים בערי האגד, בהתייחס לכלל האוכלוסייה ולקבוצות מסוימות בה.
3. א-ג. הפקת מידע מדיאגרמת מעגל על מספרי העובדים בתל-אביב - מספר העובדים הגרים בעיר, לעומת מספר היוממים, והבחנה מאילו ערים בערי האגד באים עיקר היוממים.
- 7.3. הפקת מידע מטבלה לגבי ענפי הכלכלה בתל-אביב. דירוג הענפים בסדר יורד על-פי



03/03

מספר המועסקים; הוספת הסכר מילולי לדירוג המספרי.

4. א-ב. הסקת מסקנות מידע קודם לגבי השפעת תופעת היוממות על מגוון תחומים בעיר תל-אביב.

5. כתיבת חיבור המסכם את הידע שנלמד על העיר תל-אביב - יתרונות וקשיים בעיר ללא הפסקה; התייחסות למגוון האפשרויות של החיים בעיר, לקשיים המתעוררים בה ולממד הזמן (ללא הפסקה).

### תיאור הפעילות

בשלב ראשון התלמידים מתבקשים להפיק מידע מתוך מפה על שלכי ההתפתחות של אגד הערים, על כיווני ההתפתחות ועל קצב ההתפתחות. כמו כן, הם מתבקשים להשוות את מגמות השינוי במספר התושבים בעיר תל-אביב ובערי האגד, תוך התייחסות ליתרונות המגורים בעיר לעומת יתרונות המגורים בערי האגד. בשלבים הבאים התלמידים מתבקשים לזהות תופעות הקשורות באגד הערים - תופעת היוממות והשפעותיה על מגוון תחומים בעיר, סוגי הפרנסות העיקריות בעיר, ועוברת היות העיר "עיר ללא הפסקה" הן מבחינת האפשרויות הגלומות, הן מבחינת הפגיעה האפשרית באיכות החיים. התלמידים מתבקשים להפיק ידע ממפות, מדיאגרמות ומטבלאות, להשתמש בקנה מידה קווי, לערוך השוואות ולדרג נתונים וכן, לכתוב כתיבה אישית לגבי החיים בעיר גדולה.

### ממצאים וקשיים

השאלות שמקצת מן התלמידים התקשו בהן, קשורות לכיווני ההתפתחות של האגד ולמדירת מרחקים בקנה מידה קווי - מיומנויות מפה. מקצתם התקשו בארגון המידע בדרך של כתיבה אישית (חיבור מסכם).

### טווח זמן והכנה

המשימה מתאימה לשיעור כפול. ניתן להציע לתלמידים לעבוד בזוגות.



03/03

## מפתח תשובות

- מספר פריט: 01  
מספר שאלה: 1. א  
דרגת קושי: קל

### תשובות נכונות:

בת ים, חולון, אזור, רמת גן, גבעתיים, בני ברק

### מפתח ציונים:

- רשם לפחות 5 שמות נכונים - 2  
רשם לפחות 3 שמות נכונים - 1  
אחר, לא ענה - 0



- מספר פריט: 02  
מספר שאלה: 1. ב  
דרגת קושי: קל

### תשובות נכונות:

1972 - רמת השרון, הרצליה, כפר שמריהו, רעננה, גליל ים, פתח תקווה, גבעת שמואל

1983 - כפר סבא, כפר מלל, גבעת חן, רמות השבים, הוד השרון, ראש העין, גני תקווה, קריית אונו, כפר אור, גני יהודה, רמת אפעל, יהוד, סביון, אור יהודה, לוד, רמלה, ראשון לציון, נס ציונה, רחובות, מזכרת בתיה, קריית עקרון, נחלת יהודה, בית דגן.

### מפתח ציונים:

- רשם לפחות 5 שמות נכונים בכל סעיף - 2  
רשם לפחות 3 שמות נכונים בכל סעיף - 1  
אחר, לא ענה - 0





03/03

**מספר פריט: 03**

**מספר שאלה: 1.1 ג**

**דרגת קושי: קל**

**תשובות נכונות:**

גבול משותף עם ת"א

בת ים, חולון, רמת גן, גבעתיים, בני ברק, פתח תקוה, רמת השרון, הרצליה

אין גבול משותף עם ת"א

ראשון לציון, רחובות, נס ציונה, לוד, רמלה, כפר שמריהו, רעננה, כפר סבא, הוד השרון, גבעת שמואל,

קריית אונו, רמת אפעל, אור יהודה, יהוד

**מפתח ציונים:**

רשם לפחות 5 שמות נכונים בכל סעיף - 2

רשם לפחות 3 שמות נכונים בכל סעיף - 1

אחר, לא ענה - 0



**מספר פריט: 04**

**מספר שאלה: 1.1 ד**

**דרגת קושי: קשה**

**תשובות נכונות:**

● בחלק הצפוני - 9 יישובים (טווח תשובה מתקבל - 7-10)

● בחלק הדרומי - 13 יישובים (טווח תשובה מתקבל - 10-13)

● בחלק המזרחי - 12 יישובים (טווח תשובה מתקבל - 9-12)

**מפתח ציונים:**

ענה תשובה מדויקת - 2

ענה תשובה בטווח המתקבל - 1

אחר, לא ענה - 0





03/03

מספר פריט: 05

מספר שאלה: 1.1 ה

דרגת קושי: קשה

#### תשובות נכונות:

- המרחק לקצה הדרומי - 28-26 ק"מ
- המרחק לקצה המזרחי - 18-16 ק"מ
- המרחק לקצה הצפוני - 16-14 ק"מ
- המרחק לקצה הצפוני-מזרחי - 20-16 ק"מ

#### מפתח ציונים:

ענה תשובה נכונה בטווח הרשום - 2

ענה חלקית - 1

אחר, לא ענה - 0



מספר פריט: 06

מספר שאלה: 1.1 ו

דרגת קושי: בינוני

#### תשובות נכונות:

כיווני ההתפתחות של אגד הערים -

בשלב הראשון - יישובים שיש להם גבול משותף עם ת"א לכיוון דרום ומזרח.

בשלב השני - יישובים הנמצאים צפונה ומזרחה מת"א, בחלקם עם גבול משותף עם ת"א ואילו אחרים - מרוחקים יותר.

בשלב השלישי - יישובים שאין להם גבול משותף עם ת"א בכיוונים דרום, מזרח וצפון-מזרח.

#### תשובות חלקיות:

כיווני התפתחות של אגד הערים - מתפתח לכיוונים שונים

מתפתח למזרח, צפון ודרום (כמערכ יש)

לצפון, לדרום ובעיקר למזרח

לצפון, למזרח ולדרום - עם רשימת יישובים

מתפשט הכי הרבה לדרום והכי פחות לצפון

#### תשובות שגויות

כונים כתים חדשים

הגרלה בבנייה וצמחייה



03/03

כל כמה שנים הערים התרחבו והתפתחו / ת"א התפשטה לצד מערב העיר ת"א הולכת וגדלה במהירות / הצטרפה לערים אחרות ובגלל זה קוראים לה ת"א יפו

#### מפתח ציונים:

- ענה תשובה נכונה - 2
- ענה תשובה חלקית - 1
- אחר, לא ענה - 0



מספר פריט: 07

מספר שאלה: 1.1

דרגת קושי: בינוני

#### תשובות נכונות:

קצב הגידול של אגד הערים  
סה"כ קצב גידול בינוני - מהיר - 34 יישובים נוספו לאגד הערים ב-22 שנה  
ב-1961 נוספו 6 ערים לאגד  
עד 1972 נוספו עוד 7 יישובים  
עד 1983 גידול מהיר: נוספו 21 יישובים ב-10 שנים

#### דוגמות לתשובות נכונות:

קצב הגידול מהיר מאוד - הרבה יישובים נוספו ב-22 שנים  
קצב גידול מהיר - פי 4 ממה שהיה ב-1961  
בשנים הראשונות קצב גידול אטי, ובשנים האחרונות קצב גידול מהיר ביותר.  
היה גידול מהיר, כמעט כל היישובים מרכזו מישור החוף הצטרפו לאגד הערים בין השנים 1961-1983.

#### תשובות שגויות:

ת"א התחברה לערים אחרות ונהייתה גדולה.

#### מפתח ציונים:

- ענה תשובה נכונה - 2
- אחר, לא ענה - 0







03/03

מספר פריט: 08  
מספר שאלה: 2. א  
דרגת קושי: בינוני

**תשובות נכונות:**

מגמת השינוי בת"א - ירידה במספר התושבים  
ב-1990 היו פחות תושבים מאשר ב-1972

**מפתח ציונים:**

ענה תשובה נכונה - 2  
אחר, לא ענה - 0



מספר פריט: 09  
מספר שאלה: 2. ב.  
דרגת קושי: בינוני

**תשובות נכונות:**

מגמת השינוי בערי האגד - עלייה במספר התושבים  
ב-1990 היו יותר תושבים מאשר ב-1972  
פירוט השינוי בערי האגד מתקבל כתשובה נכונה

**תשובות שגויות:**

פירוט ערי האגד בסעיף של ת"א / רשם את ההפרש במספר מבלי לציין אם זו עלייה או ירידה.

**מפתח ציונים:**

ענה תשובה נכונה - 2  
אחר, לא ענה - 0





03/03

מספר פריט: 10  
מספר שאלה: 2. ג  
דרגת קושי: קשה

### תשובות נכונות:

#### יתרונות מגורים בערי האגד

- מגורים באזור מרווח, שקט ונעים
- דירות זולות
- בתים יפים, פרטיים
- מקומות פחות צפופים מת"א / יותר צמחייה
- פחות אנשים ובכל זאת קרוב לת"א
- אין הרבה מכוניות
- אין עשן מכוניות ותעשייה
- אין רעש כמו בת"א
- פחות זיהום אוויר
- אפשר לעבוד בת"א ולגור בסביבה איכותית יותר
- גם בערי האגד יש חנויות ואתרי בילוי

#### יתרונות מגורים בת"א

- הרבה מקומות לתעסוקה
- הרבה אתרי בילוי
- אזורי תעשייה - מקור לפרנסה
- הרבה מרכזי קניות
- עיר גדולה ומפותחת / עיר יפה
- קרוב לכל דבר / לכל מקום
- הרבה כיף בת"א למרות הרעש
- יותר שירותים - מוסדות חינוך, בתי חולים
- עיר שבאים אליה אנשים חשובים
- לת"א יש חוף ים
- לת"א מגיעים תיירים רבים

### תשובות שגויות:

הייתה להם התקדמות רבה, היא ירדה בשנים האחרונות  
יש סביבה נקייה

### מפתח ציונים:

רשם לפחות 3 יתרונות בכל טור - 2  
רשם 1-2 יתרונות בכל טור או 3-4 יתרונות בטור אחד - 1  
אחר, לא ענה - 0



**מספר פריט:** 11  
**מספר שאלה:** 2. ד  
**דרגת קושי:** קל

**תשובות נכונות:**

**צעירים**

יעדיפו לגור בת"א, קרוב למרכזי הקניות והבילוי  
הרעש והצפיפות אינם מפריעים להם  
יעדיפו לגור בערי האגד כי שם הדירות יותר זולות ובכל זאת אינם רחוקים מת"א

**משפחות עם ילדים**

יעדיפו לגור בערי האגד, בסביבה איכותית, פתוחה ומרווחת, גנים ורשאים כמקום משחק ובילוי לילדים,  
רחוק מצפיפות, מזיהום ומרעש  
אפשרות לגור בבית פרטי  
יעדיפו לגור בת"א כי יש בה מבחר של בתי ספר טובים / הילדים יכולים להגיע לכד לכל מקום בלי שיסיעו אותם

**מבוגרים**

יעדיפו את ערי האגד בגלל השקט, או שיעדיפו את העיר ת"א כדי להיות קרובים לכל דבר, לעבודה,  
לבילויים. שתי האפשרויות מתאימות להם.  
יעדיפו את ת"א כי אינם זקוקים לדירות גדולות

**מפתח ציונים:**

כל תשובה שבצדה הסבר הגיוני - מתקבלת  
תשובה עם הסבר הגיוני - 2  
אחר, לא ענה - 0



**מספר פריט:** 12  
**מספר שאלה:** 3. א  
**דרגת קושי:** קל

**תשובות נכונות:**

92,600 מהעובדים גרים בת"א והם מהווים שליש מכלל העובדים בעיר



03/03

### תשובות שגויות:

מחצית

### מפתח ציונים:

ענה תשובה נכונה - 2

אחר, לא ענה - 0



מספר פריט: 13

מספר שאלה: 3. ב

דרגת קושי: בינוני

### תשובות נכונות:

עיקר העובדים באים מבת ים, רמת גן, חולון.

המאפיין המשותף - יישובים שיש להם גבול משותף עם ת"א, שייכים לאגד הערים מאז 1961

### תשובות שגויות:

מת"א, מיישובים אחרים

המאפיין המשותף - חזרה על שמות היישובים, יוממים, מת"א

### מפתח ציונים:

ענה תשובה נכונה על שני הסעיפים - 2

ענה תשובה נכונה רק על הסעיף הראשון - 1

אחר, לא ענה - 0



מספר פריט: 14

מספר שאלה: 3. ג

דרגת קושי: בינוני - קשה

### תשובות נכונות:

מספר היוממים המגיעים לת"א - 150,000-170,000



03/03

### תשובות שגויות:

92,600

### מפתח ציונים:

ענה תשובה בטוח הנכון - 2

אחר, לא ענה - 0

מספר פריט: 15

מספר שאלה: 3.7

דרגת קושי: בינוני

### תשובות נכונות:

ענפי הכלכלה בעיר - בסדר יורד של מספר מועסקים

● כספים ושירותים עסקיים

● שירותים ציבוריים

● מסחר, שירותי אוכל והארוחה

● חרושת

● שירותים אישיים

● תחבורה, תקשורת ואחסנה

● בינוי

● אחרים

### תשובות שגויות:

העתיק את רשימת ענפי הכלכלה על פי הסדר בטבלה

### מפתח ציונים:

רשם את הענפים בסדר יורד - 2

רשם את הענפים בסדר עולה - 1

אחר, לא ענה - 0





03/03

**מספר פריט:** 16

**מספר שאלה:** 4 א

**דרגת קושי:** בינוני-קשה

**תשובות נכונות:**

השפעת היוממות על -

#### **תחבורה:**

כניסת אנשים רבים העירה בכלי רכב גורמת לפקקים, לקשיים בתעבורה ולבעיות חנייה, וכן לרעש, לצפיפות ולזיהום.

#### **תשובות שגויות:**

אנשים שבאים לעבודה באים בתחבורה

#### **מסחר**

כניסת אנשים רבים לעיר משפיעה לטובה על המסחר. אנשים שעובדים בעיר, נוטים לערוך קניות בעיר. המוצרים בחנויות נמכרים יותר מהר.

#### **תשובות שגויות:**

עסקי המסחר ירודים / יש הרבה / מזהם את האוויר

#### **מסעדות**

העובדים הרבים זקוקים למסעדות כדי לאכול ולשתות במשך יום העבודה. מסעדות רבות הוקמו באזורי תעשייה, מסחר ועסקים / מסעדות מעלות מחירים

#### **תשובות שגויות:**

יש הרבה מסעדות / יש אנשים שבאים לעיר בשביל לאכול במסעדה

#### **אתרי בילוי ובידור**

אנשים העובדים בעיר ומכירים את אפשרויות הבילוי והבידור שבה, יעדיפו גם לבלות בעיר בתום יום העבודה, ולכן אתרי הבילוי בעיר יהיו מלאים / יצליחו / הולך להם / המחירים גבוהים יותר

#### **תשובות שגויות:**

יש הרבה אתרי בילוי / יש אנשים שבאים לת"א בשביל בילוי / מקומות ציבוריים בעיר

#### **מפתח ציונים:**

רשם תשובה לארבעה סעיפים ובכל אחד ציין סוג אחד לפחות של השפעה - 2

רשם תשובה כנ"ל ל-3-1 סעיפים - 1

אחר, לא ענה - 0



מספר פריט: 17

מספר שאלה: 4 ב

דרגת קושי: בינוני - קל

**תשובות נכונות:**

כניסתם של יוממים רבים העירה משפיעה על -

- איכות החיים בעיר
- המצאות אנשים רבים בעיר גורמת לצפיפות בכבישים, ברחובות, במשרדים, בחנויות וכדומה, וכן לרעש ולזיהום הרחובות.
- אפשרויות יותר מגוונות של פרנסה בענפים שונים.
- ככלל, כל תשובה הגיונית המתייחסת לאחד מן התחומים העירוניים המושפעים מריכוז היוממים בעיר - מתקבלת.

**מפתח ציונים:**

רשם תשובה מנומקת לפחות לגבי שני תחומים עירוניים - 2

רשם תשובה מנומקת לגבי תחום עירוני אחד, או רשם תחומים המושפעים מן היוממות בלי הסבר - 1

אחר, לא ענה - 0



מספר פריט: 18

מספר שאלה: 5

דרגת קושי: קשה מאוד

**תשובות נכונות:**

ת"א - עיר ללא הפסקה - חיבור (התייחסות לאפשרויות ולמגבלות בעיר ללא הפסקה)

חיבור שעונה לדרישות -

- מתייחס לחסרונות העיר, כמו: זיהום, צפיפות, פקקים, יוקר מחיה;
- מתייחס לאפשרויות של העיר, כמו: מקומות תעסוקה, מסחר, בילוי, בידור, חוף ים, מפגש עם הרבה אנשים;
- מתייחס לממד הזמן - סדר יום של.... ביום..... כלילה.... בבוקר.... בצהריים..... בערב..... הזמן רץ... הזמן מתבזבז בפקקים.... לא מספיקים....

**מפתח ציונים:**

כתב חיבור שמתייחס לכל שלושת התחומים הנ"ל - 2

כתב חיבור שמתייחס לאחד או לשניים מן התחומים הנ"ל - 1

אחר, לא ענה - 0