

















לוחיידה מכפלות

איזה מספר מייצגת כל תמונה בלוח אם
המספרים מימין לשורות הם מכפלות המספרים בכל שורה;
והמספרים בתחתית הטורים הם מכפלות המספרים בכל טור?

| | | | | |
|--|---|---|--|-----|
|  |  |  |  | 90 |
|  |  |  |  | 240 |
|  |  |  |  | 40 |
|  |  |  |  | 240 |
| 72 | 48 | 625 | 96 | |

רשמו את התרגילים שהובילו אתכם לפתרון.