

## נושא מס' 8: כלי רכב דו-גלגלי – אופניים חשמליים



**8.1 על פי החוק, האם אופניים עם מנוע עזר נחשבים לכלי רכב?**

- א. לא.
- ב. כן.
- ג. כן, בתנאי שהרוכב עליהם בעל רישיון נהיגה.
- ד. כן, בתנאי שלמנוע העזר שמוטקן בהם יש הספק של יותר מ-250 וואט.

**8.2 על פי החוק, האם רוכב אופניים עם מנוע עזר נחשב לעובר דרך?**

- א. לא.
- ב. כן.
- ג. כן, בתנאי שהוא רוכב בכביש.
- ד. כן, בתנאי שהוא בעל רישיון נהיגה שדרגתו B לפחות.

**8.3 מה הם "אופניים עם מנוע עזר"?**

- א. תלת-אופן.
- ב. כלי רכב שלו שני גלגלים, המורכבים זה אחרי זה, ומותקן בו מנוע חשמלי.
- ג. כל כלי רכב שלו שני גלגלים, המורכבים זה אחרי זה, ומונע במנוע בנזין.
- ד. כל כלי רכב שלו שני גלגלים, המורכבים זה אחרי זה, שרשאי לנוע בכביש.

**8.4 האם רוכב אופניים עם מנוע עזר חייב לציית לתמרורים?**

- א. לא.
- ב. כן.
- ג. כן, בתנאי שמלאו לו 18 שנים.
- ד. כן, בתנאי שיש לו רישיון נהיגה.

**8.5 האם מותר לחצות מעבר חצייה להולכי רגל ברכיבה על אופניים עם מנוע עזר?**

- א. לא, אבל מותר לרוכב להוביל את האופניים על מעבר החצייה.
- ב. כן, בתנאי שלרוכב יש רישיון נהיגה.
- ג. כן, בתנאי שלרוכב מלאו 18 שנים.
- ד. לא, אלא אם כן אין הולכי רגל במעבר החצייה.

**8.6 האם רוכב על אופניים עם מנוע עזר חייב לתת זכות קדימה להולכי רגל החוצים במעבר החצייה?**

- א. כן.
- ב. לא.
- ג. כן, בתנאי שיש לו רישיון נהיגה.
- ד. כן, בתנאי שמלאו לו 18 שנים.

**8.7 מאיזה גיל מותר לרכוב על אופניים עם מנוע עזר?**

- א. מגיל 16 שנים.
- ב. מגיל 14 שנים.
- ג. מגיל 12 שנים.
- ד. מגיל 18 שנים.

**8.8 האם מותר לרכוב על אופניים חשמליים שאינם עומדים בדרישות התקן לאופניים עם מנוע עזר?**

- א. כן.
- ב. לא.
- ג. כן, בתנאי שהנסיעה קצרה.
- ד. לא, אלא אם כן הרכיבה היא על המדרכה בלבד.

**8.9 האם מותר להסיע נוסע נוסף באופניים עם מנוע עזר?**

- א. כן, בתנאי שמלאו לרוכב 16 שנים.
- ב. כן, בתנאי שהאופניים מיועדים לכך.
- ג. כן, בתנאי שהרוכבים חובשים קסדות.
- ד. כן, בתנאי שהאופניים מצוידים במנוע בעל הספק מקסימלי.

**8.10 היכן בכביש על רוכב האופניים עם מנוע עזר לנסוע?**

- א. במרכז הכביש.
- ב. קרוב ככל האפשר לצידו השמאלי של הכביש.
- ג. קרוב ככל האפשר לצידו הימני של הכביש.
- ד. אין חשיבות למקום הנסיעה.

**8.11 האם מותר לאדם שנמצא במצב של חוסר שליטה באופניים לרכוב על אופניים עם מנוע עזר?**

- א. לא, אלא אם כן הרכיבה היא על המדרכה בלבד.
- ב. לא, הרכיבה במצב כזה אסורה לחלוטין.
- ג. כן, למרחק נסיעה קצר ורק הביתה.
- ד. כן, אבל רק לצורך בדיקת האופניים.

**8.12 האם שוטר רשאי לדרוש מרוכב אופניים עם מנוע עזר לעבור בדיקת דם כדי לבדוק אם יש בדמו אלכוהול או סמים?**

- א. רק בתנאי שבידי השוטר צו של בית משפט המתיר דרישה כזו.
- ב. שוטר אינו רשאי בשום מצב לדרוש מן הרוכב לעבור בדיקה מכל סוג שהוא.
- ג. שוטר רשאי לדרוש מן הרוכב לעבור בדיקת דם אם יש לו חשד סביר שהוא רוכב בהשפעת אלכוהול או סמים.
- ד. שוטר רשאי לדרוש ממנו לעבור בדיקה לקביעת רמת אלכוהול אך אינו רשאי לדרוש ממנו לעבור בדיקה לסמים.

**8.13 כיצד משפיעה המהירות על השליטה באופניים החשמליים?**

- א. השליטה באופניים החשמליים טובה יותר כשרוכבים במהירות סבירה.
- ב. השליטה באופניים החשמליים משתפרת ככל שהמהירות גדלה.
- ג. השליטה באופניים החשמליים אינה תלויה במהירות הנסיעה.
- ד. השליטה באופניים החשמליים תלויה בתנאי הכביש בלבד ואינה תלויה ברוכב או באופניים.

**8.14 האם מותר לרכוב באופניים עם מנוע עזר על מדרכה?**

- א. כן.
- ב. לא.
- ג. לא, אלא אם אין הולכי רגל על המדרכה.
- ד. כן, אבל רק אם הכביש חסום.

**8.15 בכניסה לדרך מוצב התמרור הזה**



**האם הכניסה לדרך זו מותרת לאופניים?**

- א. כן, אבל הרכיבה מותרת בשולי הדרך בלבד.
- ב. הכניסה לדרך זו אסורה לאופניים.
- ג. הכניסה לדרך זו מותרת לאופניים, ובלבד שהרוכב יקפיד על רכיבה זהירה.
- ד. כן, הכניסה לדרך זו מותרת לאופניים.

**8.16 איזה מן האביזרים האלה אינו חייב להימצא על אופניים חשמליים בעת רכיבה בלילה?**

- א. פנס קבוע מלפנים המפיץ אור לבן הנראה ממרחק של 150 מטר.
- ב. פנס קבוע מאחור המפיץ אור אדום.
- ג. מחזירי אור על דוושות האופניים הזוהרים בצבע צהוב.
- ד. מחזירי אור על גלגלי האופניים.

**8.17 איזה מן המשפטים שלפניך נכון בנוגע לאביזרי החובה לאופניים חשמליים?**

- א. חובה לצייד אופניים חשמליים בפעמון, בבלם ובמחזיר אור אחורי.
- ב. חובה לצייד אופניים חשמליים ב"סבל" אחורי, במראה ובפנס קדמי.
- ג. חובה לצייד אופניים חשמליים בפעמון, במחווני איתות ובמחזיר אור הזוהר בצבע אדום.
- ד. חובה לצייד אופניים חשמליים ברגלית, בפעמון ובמחזיר אור הזוהר בצבע צהוב.

**8.18 באיזה מקרה רוכב אופניים עם מנוע עזר חייב לאותת?**

- א. כאשר הוא מתכוון לסטות מנתיב נסיעתו.
- ב. כאשר הוא מגיע לעלייה ארוכה.
- ג. כאשר הוא מגיע לירידה תלולה.
- ד. כאשר הוא מתקרב למפגש מסילת ברזל הכולל מחסום.

**8.19 מהי המהירות שמעליה החוק מחייב ניתוק של המנוע באופניים עם מנוע עזר?**

- א. 20 קמ"ש.
- ב. 40 קמ"ש בדרך עירונית ו-60 קמ"ש בדרך שאינה עירונית.
- ג. 25 קמ"ש.
- ד. 25 קמ"ש בדרך עירונית, 40 קמ"ש בדרך שאינה עירונית ו-60 קמ"ש בדרך שבה שטח הפרדה בנוי.

**8.20 כיצד על רוכב אופניים עם מנוע עזר לנהוג כאשר הוא מתקרב לצומת שבו מוצב רמזור שאורו הצהוב מהבהב?**

- א. עליו לעצור בכל מקרה לפני הכניסה לצומת.
- ב. עליו להאיץ לפני שהאור ברמזור יתחלף לאדום.
- ג. עליו להאט, ואף לעצור אם צריך, על פי החוק ותנאי הדרך.
- ד. עליו להאט ולתת זכות קדימה רק לכלי רכב הבאים משמאל.


8.21 באיזה מן הדרכים האלה אסור לאופניים עם מנוע עזר לנסוע?

- א. בדרך עירונית.
- ב. בדרך מהירה.
- ג. בשביל אופניים.
- ד. בדרך שאינה עירונית.

8.22 האם התקנות והתמורות המיועדים לנוהגים בכלי רכב מחייבים גם רוכבי אופניים חשמליים?

- א. כן, אבל רק בנסיעה בדרך עירונית.
- ב. כן, אבל רק אם לרוכב מלאו 18 שנים ויש לו רישיון נהיגה.
- ג. כן, בכל מקרה.
- ד. לא.

8.23 אתה רוכב על אופניים חשמליים ובנתיב שמימינך מסומן על גבי הכביש התמרוך שלפניך. כיצד עליך לנהוג?



- א. עליך לעבור לנסיעה בנתיב המסומן בתמרוך זה.
- ב. עליך להתעלם מן התמרוך כי הוא מיועד רק לרוכבי אופנוע.
- ג. עליך לבחור בנתיב הפנוי ביותר.
- ד. עליך להמשיך בנסיעה בנתיב הנוכחי.

8.24 האם שוטר רשאי לעצור נסיעה של אופניים חשמליים כאשר הרוכב אינו מציית להוראות החוק?

- א. שוטר אינו רשאי לעצור נסיעה של אופניים חשמליים אם לרוכב יש רישיון נהיגה.
- ב. רק קצין משטרה מדרגת מפקח ומעלה רשאי לעצור את הנסיעה של אופניים חשמליים.
- ג. כן, והוא אף רשאי להוציא את האוויר מגלגלי האופניים כדי למנוע המשך רכיבה.
- ד. שוטר רשאי לעצור נסיעה של אופניים חשמליים רק אם מלאו לרוכב 18 שנים.



**8.25 לרוחב הכביש מסומן הסימון שלפניך. מה משמעותו?**

- א. מעבר חצייה לרוכבי אופניים.
- ב. מעבר חצייה לרוכבי אופניים ולהולכי רגל.
- ג. קו עצירה לפני צומת.
- ד. נתיב לתחבורה ציבורית.

**8.26 מהו הרווח שעל רוכב אופניים עם מנוע עזר לשמור מכלי רכב הנוסע לפניו?**

- א. עליו לשמור על רווח של שני מטרים לפחות בין האופניים ובין כלי הרכב שנוסע לפניו.
- ב. אין חשיבות לרווח שרוכב אופניים חשמליים צריך לשמור מכלי הרכב שנוסע לפניו.
- ג. רווח שיאפשר לרוכב לעצור בבטחה במקרה שכלי הרכב שנוסע לפניו יעצור.
- ד. רווח שיאפשר לרוכב לראות את הנעשה לפני כלי הרכב שנוסע לפניו.

**8.27 כאשר רוכבים על אופניים עם מנוע עזר, מה היתרון בשמירה על רווח צד בין הרוכב ובין כלי רכב חונים?**

- א. שמירה על רווח צד מאפשרת לרוכב לפנות ימינה בצורה בטוחה יותר.
- ב. אין כל יתרון בשמירה על רווח צד. להפך, בטוח יותר לרכוב בצד הימני ביותר של הנתיב, קרוב ככל האפשר למכונות שחונות.
- ג. שמירה על רווח צד מאפשרת לכלי רכב חונים לצאת מן החניה במהירות.
- ד. שמירה על רווח צד מאפשרת לרוכב להימנע מפגיעה שעלולה להתרחש אם נהג או נוסע יפתחו בפתאומיות את דלת כלי רכבם.

**8.28 כאשר רוכבים בירידה תלולה על אופניים עם מנוע עזר, איזו סכנה עלולה להיווצר בעת בלימה פתאומית?**

- א. אין כל סכנה בבלימה פתאומית, למעט בתנאי מזג אוויר קיצוניים.
- ב. בלמים שהתחממו יתר על המידה עלולים לתפקד באופן לקוי במקרה של בלימה פתאומית.
- ג. הגלגלים עלולים להתפרק ולגרום לרוכב לאבד שליטה על האופניים.
- ד. אין כל סכנה בבלימה פתאומית, למעט בבלימה בתוך עקומה בדרך.



8.29 למה תגרום בלימה חזקה בזמן פנייה ברכיבה כאשר רוכבים על אופניים עם מנוע עזר?

- א. לנזק למנגנון הבלימה.
- ב. להגברת המהירות של האופניים.
- ג. להרמת הגלגל הקדמי באוויר.
- ד. להחלקת הגלגל האחורי.

8.30 כיצד יש לנהוג כדי להימנע מהחלקה של אופניים עם מנוע עזר בשעת הרכיבה?

- א. יש לסובב את הכידון ימינה לייצוב האופניים.
- ב. יש ללחוץ לחיצה חזקה וממושכת על דוושת הבלם הקדמי.
- ג. יש לנסוע במהירות סבירה, תוך שימוש נכון ומבוקר בבלמים והאצה מבוקרת.
- ד. יש לנסוע במהירות הדומה למהירותם של כלי הרכב האחרים בדרך.

8.31 לפניך מוצב התמרור הזה:



מה משמעותו?

- א. לפניך שביל לאופניים בלבד.
- ב. לפניך נתיב חד-סטרי לאופניים.
- ג. היזהר, תנועת אופניים בדרך.
- ד. לפניך קצה הנתיב לאופניים.

8.32 לפניך מוצב התמרור הזה:



מה משמעותו?

- א. לפניך שביל לרוכבי אופניים בלבד. אין מעבר להולכי רגל.
- ב. הכניסה לכביש מותרת לאופניים ולהולכי רגל.
- ג. לפניך מעבר חצייה לרוכבי אופניים ולהולכי רגל.
- ד. לפניך שבילים נפרדים לאופניים ולהולכי רגל.

**8.33 כיצד יש לרכוב על אופניים עם מנוע עזר בכביש רטוב?**

- א. כמו בכביש יבש. אין הבדל.
- ב. יש להאט ולנסוע במהירות המתאימה, לפי הנסיבות.
- ג. יש ללחוץ לסירוגין על דוושת הבלם.
- ד. יש להגביר את מהירות הנסיעה עד לסיום הקטע הרטוב.

**8.34 באיזה מקרה גדלה סכנת ההחלקה וההתהפכות כאשר רוכבים על אופניים חשמליים בכביש רטוב?**

- א. ככל שהמהירות גבוהה יותר, הסכנה של החלקה והתהפכות של האופניים גדלה.
- ב. ככל שהמהירות נמוכה יותר, הסכנה של החלקה והתהפכות של האופניים גדלה.
- ג. ברכיבה בכביש דו־סטרי, הסכנה של החלקה והתהפכות של האופניים גדלה.
- ד. יש סכנה של החלקה והתהפכות רק ברכיבה על קורקינט חשמלי ולא ברכיבה על אופניים.



**8.35 לפיכך מוצב התמרור הזה:**

**מה משמעותו?**

- א. הכניסה לאופניים אסורה.
- ב. הכניסה לאופניים עם מנוע עזר אסורה.
- ג. הכניסה לאופנוע אסורה.
- ד. הכניסה מותרת לאופנועים בלבד.



**8.36 על הכביש מסומן התמרור הזה:**

**מה משמעותו?**

- א. מקום חנייה לאופניים.
- ב. הכניסה אסורה לאופניים עם מנוע עזר.
- ג. נתיב חד־סטרי לתנועת אופניים.
- ד. נתיב לתנועת אופניים ולהולכי רגל.

8.37 לפניך מוצב התמרור הזה:

מה משמעותו?



- א. מקום חנייה לאופניים.
- ב. הכניסה לאופניים עם מנוע עזר אסורה.
- ג. שביל משותף לאופניים ולהולכי רגל.
- ד. נתיב לתנועת אופניים ולהולכי רגל.

8.38 לפניך מוצב התמרור הזה:

מה משמעותו?



- א. הכניסה לאופניים אסורה.
- ב. הכניסה מותרת לאופניים עם מנוע עזר בלבד.
- ג. הכניסה לאופנוע אסורה.
- ד. הכניסה מותרת לאופניים בלבד.

8.39 לפניך מוצב התמרור הזה:

מה משמעותו?



- א. מקום חנייה לאופניים.
- ב. הכניסה לאופניים עם מנוע עזר אסורה.
- ג. נתיב חד-סטרי לתנועת אופניים.
- ד. שביל או נתיב המיועדים לאופניים בלבד.

### 8.40 לפניך איור של רמזור פועל.

מה מסמן הרמזור?



- א. המשך בנסיעתך: האור האדום יתחלף מייד באור ירוק.
- ב. אל תתחיל בחציית הכביש, ואם אתה כבר נמצא בכביש – פנה אותו מייד.
- ג. הגבר את מהירות נסיעתך לפני הצומת כדי שתוכל לעבור אותו לפני שהאור ברמזור יתחלף.
- ד. אתה רשאי להמשיך בנסיעתך לאחר שבדקת כי הצומת פנוי.

### 8.41 באיזה מן התצלומים האלה נראה רוכב החוצה את הכביש במעבר חצייה לאופניים



ב. תמונה 2



א. תמונה 1



ד. תמונה 4



ג. תמונה 3

8.42 איזה מן התצלומים האלה אינן מראה מקום רכיבה שנועד לאופניים בלבד?



ב. תמונה 2



א. תמונה 1



ד. תמונה 4



ג. תמונה 3

8.43 לפניך איור של רמזור פועל.

מה מסמן הרמזור?



- א. מקום חנייה לאופניים.
- ב. הכניסה לאופניים עם מנוע עזר אסורה.
- ג. מותר לחצות את הכביש בזהירות.
- ד. התנועה בנתיב שלפניך מותרת לאופניים ולהולכי רגל.

8.44 איזה מן התמרורים האלה אוסר את הכניסה של אופנים חשמליים?



ב. תמרור 218



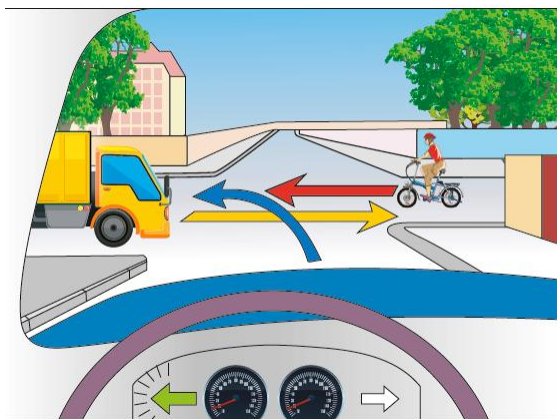
א. תמרור 424



ד. תמרור 418



ג. תמרור 407

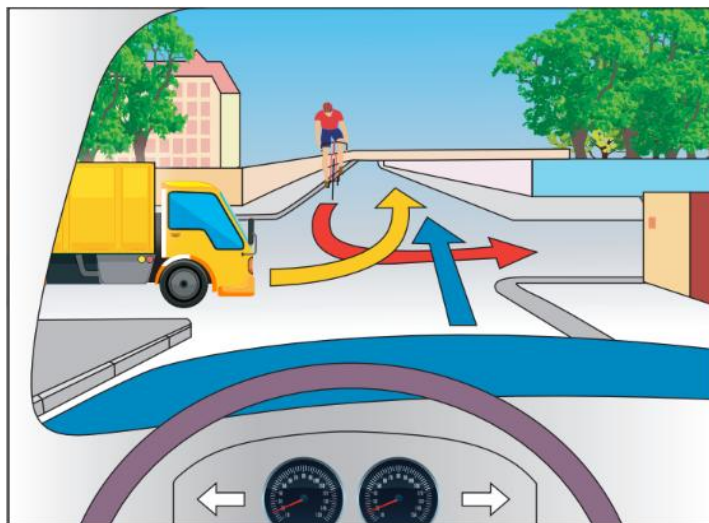


8.45

אופניים חשמליים, משאית והמכונית שבה אתה נוהג הגיעו באותו הזמן אל צומת, כפי שמתואר באיור שלפניך. מה צריך להיות סדר הכניסה של כלי הרכב אל הצומת?

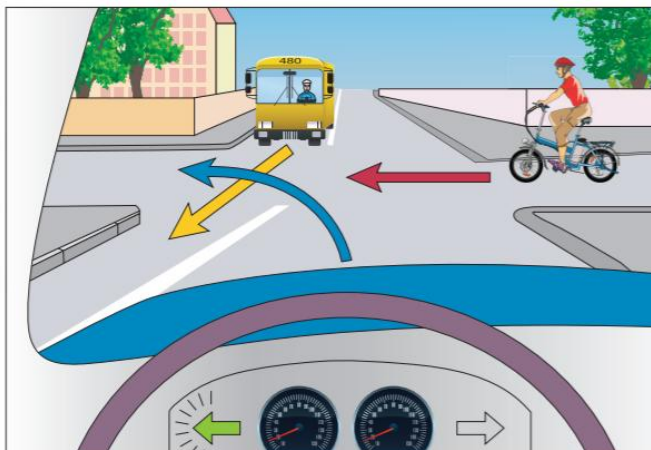
- א. האופניים החשמליים ייכנסו ראשונים, אחריהם המכונית שבה אתה נוהג, ולבסוף המשאית.
- ב. המכונית שבה אתה נוהג תיכנס ראשונה, אחריה האופניים החשמליים, ולבסוף המשאית.
- ג. המשאית תיכנס ראשונה, אחריה האופניים החשמליים, ולבסוף המכונית שבה אתה נוהג.
- ד. האופניים החשמליים ייכנסו ראשונים, אחריהם המשאית, ולבסוף תיכנס המכונית שבה אתה נוהג.

8.46 אופניים חשמליים, משאית והמכונית שאתה נוהג בה הגיעו באותו הזמן אל צומת, כפי שמתואר באיור שלפניך. מה צריך להיות סדר הכניסה של כלי הרכב לצומת?



- א. המכונית שבה אתה נוהג תיכנס ראשונה, אחריה המשאית, ולבסוף האופניים החשמליים.
- ב. המכונית שבה אתה נוהג תיכנס ראשונה, אחריה האופניים החשמליים, ולבסוף המשאית.
- ג. המשאית תיכנס ראשונה, אחריה המכונית שבה אתה נוהג, ולבסוף האופניים החשמליים.
- ד. האופניים החשמליים ייכנסו ראשונים, אחריהם המשאית, ולבסוף המכונית שבה אתה נוהג.

8.47 אופניים חשמליים, אוטובוס והמכונית שבה אתה נוהג הגיעו באותו הזמן אל צומת, כפי שמתואר באיור שלפניך. מה צריך להיות סדר הכניסה של כלי הרכב אל הצומת?



- א. האופניים החשמליים ייכנסו ראשונים, אחריהם המכונית שבה אתה נוהג, ולבסוף האוטובוס.
- ב. המכונית שבה אתה נוהג תיכנס ראשונה, אחריה האוטובוס, ולבסוף האופניים החשמליים.
- ג. האוטובוס ייכנס ראשון, אחריו האופניים החשמליים, ולבסוף המכונית שבה אתה נוהג.
- ד. המכונית שבה אתה נוהג תיכנס ראשונה, אחריה האופניים החשמליים, ולבסוף האוטובוס.



8.48 אופניים חשמליים, משאית והמכונית שבה אתה נוהג הגיעו באותו הזמן אל צומת, כפי שמתואר באיור שלפניך. מה צריך להיות סדר הכניסה של כלי הרכב לצומת?



- א. המכונית שבה אתה נוהג תיכנס ראשונה, אחריה האופניים החשמליים, ולבסוף המשאית.
- ב. האופניים החשמליים ייכנסו ראשונים, אחריהם המכונית שבה אתה נוהג, ולבסוף המשאית.
- ג. האופניים החשמליים ייכנסו ראשונים, אחריהם המשאית, ולבסוף המכונית שבה אתה נוהג.
- ד. המשאית תיכנס ראשונה, אחריה האופניים החשמליים, ולבסוף המכונית שבה אתה נוהג.

**8.49 אתה רוכב על אופניים חשמליים בכביש דו־סטרי ורוצה לעקוף משאית שעצרה לפרוק את מטענה וחוסמת את נתיב נסיעתך. היכן תרכב כאשר אתה עוקף אותה?**

- א. במרכז הנתיב השמאלי.
- ב. מצידה הימני של המשאית.
- ג. מצידה השמאלי של המשאית ובצמוד לה.
- ד. אסור בשום אופן לעקוף משאית חונה.

**8.50 אתה רוכב על אופניים חשמליים בכביש שבו יש שני נתיבי נסיעה בכל כיוון, והגעת לצומת שבו אתה רוצה לפנות שמאלה. היכן עליך לרכוב כאשר אתה נכנס לצומת?**

- א. בצד השמאלי של הנתיב השמאלי.
- ב. במרכז הנתיב השמאלי.
- ג. בצד השמאלי של הנתיב הימני.
- ד. בצד הימני של הנתיב הימני.

**8.51 באילו מן התנאים האלה מותר לרכוב שמלאו לו 16 שנים לרכוב על אופניים חשמליים?**

- א. עליו לרכוב במהירות של עד 25 קמ"ש בכל מקום שיבחר, לחבוש קסדה, ולא להרכיב אדם שגילו מעל 4 שנים.
- ב. עליו לרכוב בכביש במהירות של עד 40 קמ"ש ולחבוש קסדה, אלא אם כן לאופניים החשמליים יש רישיון כלי רכב.
- ג. עליו לרכוב בשביל אופניים או בכביש בכל מהירות שיבחר, ובלבד שהוא מצויד בקסדה ובמגיני ברכיים, ואינו מרכיב אדם שגילו מעל 4 שנים.
- ד. עליו לרכוב במהירות של עד 25 קמ"ש בשביל אופניים או בכביש, לחבוש קסדה, ולשמור על חוקי התנועה.

**8.52 האם מותר לכלי רכב דו-גלגלי לנוע לצידו של כלי רכב דו-גלגלי אחר?**

- א. מותר לו לנוע לצד כלי רכב דו-גלגלי אחר בדרך עירונית בלבד.
- ב. אסור תמיד לכלי רכב דו-גלגלי לנוע לצד כלי רכב דו-גלגלי אחר.
- ג. מותר תמיד לכלי רכב דו-גלגלי לנוע לצד כלי רכב דו-גלגלי אחר.
- ד. מותר לו לנוע לצד כלי רכב דו-גלגלי אחר רק לצורך עקיפתו או מעבר על פניו.

**8.53 האם מותר לרכוב על מדרכה באופניים עם מנוע עזר?**

- א. כן.
- ב. לא.
- ג. מותר, בתנאי שאין הולכי רגל על המדרכה.
- ד. מותר, בתנאי שהכביש חסום.

**8.54 לא ינהג אדם על אופניים אלא אם הם מצוידים בכל עת:**

- א. בפעמון.
- ב. באור בלימה אחורי.
- ג. במחווני איתות.
- ד. במנוע עזר.

**8.55 האם ההוראות בתקנות ובתמרורים החלות על נהגי כלי רכב ממונעים חלות גם על רוכבי אופניים חשמליים?**

- א. כן, אבל רק בנסיעה בכביש.
- ב. כן, אבל רק אם לרוכב מלאו 18 שנים.
- ג. כן, בכל מקרה.
- ד. לא.

**8.56 מדוע יש סיכון ברכיבה על אופניים עם מנוע עזר?**

- א. כי כאשר רוכבים על אופניים עם מנוע עזר מרכז הכובד נמוך.
- ב. כי שדה הראייה של רוכב האופניים עם מנוע עזר מוגבל ביותר.
- ג. כי ברכיבה על אופניים עם מנוע עזר יש סכנה שהרוכב יאבד את שיווי משקלו ויחליק.
- ד. כי לאופניים עם מנוע עזר יש בלמים חלשים.

**8.57 כאשר רוכבים על אופניים עם מנוע עזר, מהי הסכנה שעלולה להיווצר בעת בלימה פתאומית בירידה תלולה?**

- א. נעילת הגלגלים ואיבוד שליטה על האופניים.
- ב. בלאי מואץ של הבלמים ובלימה חלשה מהרגיל.
- ג. התפרקות הגלגל הקדמי והתהפכות הרוכב.
- ד. ירידה ביכולת הבלימה בשל הירידה בהספק המנוע.

**8.58 איזה סכנה קיימת ברכיבה על אופניים בכביש רטוב?**

- א. סטייה מנתיב הרכיבה בשל השתקפות האופניים בכביש.
- ב. התהפכות האופניים במקרה שהרוכב נאלץ ללחוץ בפתאומיות על ידית הבלם.
- ג. אובדן יכולת הבלימה בשל חדירת מים למערכות החשמליות.
- ד. החלקה ואיבוד שליטה על האופניים.

**נושא מס' 8: כלי רכב דו-גלגלי – אופניים חשמליים מחוון תשובות**

שאלה	תשובה נכונה	שאלה	תשובה נכונה	שאלה	תשובה נכונה
39	ד	20	ג	1	ב
40	ב	21	ב	2	ב
41	ג	22	ג	3	ב
42	ד	23	א	4	ב
43	ג	24	ג	5	א
44	ב	25	א	6	א
45	א	26	ג	7	א
46	א	27	ד	8	ב
47	ג	28	ב	9	ב
48	ב	29	ד	10	ג
49	א	30	ג	11	ב
50	א	31	ג	12	ג
51	ד	32	ד	13	א
52	ד	33	ב	14	ב
53	ב	34	א	15	ב
54	א	35	ג	16	ד
55	ג	36	ג	17	א
56	ג	37	ג	18	א
57	א	38	א	19	ג
58	ד				