

מתמטיקה

2 יחידות לימוד
השלמה ל-3 יחידות לימוד

הוראות לנבחן

א. משך הבחינה: שלוש שעות.

ב. מבנה השאלון ומפתח ההערכה: בשאלון זה שלושה פרקים.

פרק שני	—	45	נקודות
פרק שלישי	—	(20×2)	40 נקודות
פרק רביעי	—	(15×1)	15 נקודות
סה"כ	—	100	נקודות

ג. חומר עזר מותר בשימוש:

- (1) מחשבון לא גרפי. אין להשתמש באפשרויות התכנות במחשבון הניתן לתכנות. שימוש במחשבון גרפי או באפשרויות התכנות במחשבון עלול לגרום לפסילת הבחינה.
- (2) דפי נוסחאות (מצורפים).

ד. הוראות מיוחדות:

- (1) אל תעתיק את השאלה; סמן את מספרה בלבד.
- (2) התחל כל שאלה בעמוד חדש. רשום במחברת את שלבי הפתרון, גם כאשר החישובים מתבצעים בעזרת מחשבון. הסבר את כל פעולותיך, כולל חישובים, בפירוט ובצורה ברורה ומסודרת. חוסר פירוט עלול לגרום לפגיעה בציון או לפסילת הבחינה.
- (3) לטיוטה יש להשתמש במחברת הבחינה או בדפים שקיבלת מהמשגיחים. שימוש בטיוטה אחרת עלול לגרום לפסילת הבחינה.

ההנחיות בשאלון זה מנוסחות בלשון זכר ומכוונות לנבחנות ולנבחנים כאחד.

בהצלחה!

/המשך מעבר לדף/

+

- 2 -

מתמטיקה, חורף תשס"ה, מס' 035204
+ נספח

+

ה ש א ל ו ת

פרק שני (45 נקודות)

בפרק זה שבע שאלות. תשובה מלאה לשאלה מזכה ב- $11\frac{1}{4}$ נקודות. מותר לך לענות באופן מלא או חלקי על מספר שאלות כרצונך, אך סך הנקודות שתוכל לצבור בפרק זה לא יעלה על 45.

אלגברה

7. בשעה מסוימת יצא רוכב אופניים מעיר A לכיוון עיר B, ורכב במהירות של 18 ק"מ לשעה.

שעה אחת לאחר שיצא רוכב האופניים הראשון, יצא רוכב אופניים שני מהעיר A לכיוון העיר B, ורכב במהירות של 24 ק"מ לשעה.

כמה זמן עבר מרגע שיצא הרוכב הראשון עד שנפגשו שני רוכבי האופניים?

8. נתונות הנקודות: $A(1, 2)$, $B(-1, 6)$.

מצא את:

א. השיפוע של הישר AB.

ב. משוואת הישר העובר דרך הנקודה $C(2, -3)$ ומקביל לישר AB.

חשבון דיפרנציאלי ואינטגרלי

9. נתונה הפונקציה $f(x) = x^3 - 3x^2 + 5$ בקטע סגור $[-\frac{1}{2}; 4]$.

מצא את המקסימום המוחלט ואת המינימום המוחלט של הפונקציה

בקטע הסגור $[-\frac{1}{2}; 4]$.

10. נתונה הפונקציה $y = x^2 - 1 + \frac{4}{x}$ ($x \neq 0$).

מעבירים משיק לגרף הפונקציה בנקודה שבה $x = 2$.

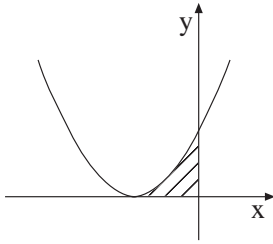
א. חשב את שיפוע המשיק.

ב. מצא את משוואת המשיק.

/המשך בעמוד 3/

+

+



11. נתונה הפונקציה $y = (x + 2)^2$ (ראה ציור).
חשב את השטח המוגבל על ידי גרף הפונקציה
ועל ידי הצירים (השטח המקווקו בציור).

טריגונומטריה במרחב

12. בתיבה $ABCD A'B'C'D'$ נתון:

$AB = 12$ ס"מ , $BC = 10$ ס"מ (ראה ציור).

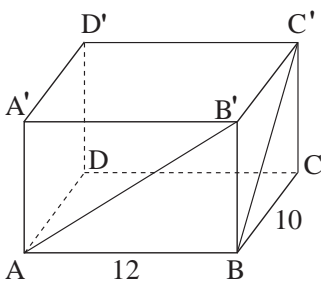
הזווית שבין האלכסון AB'

ובין הבסיס $ABCD$ היא 35° .

א. חשב את גובה התיבה, BB' .

ב. חשב את BC' , אלכסון הפאה $B'CC'$.

ג. חשב את הזווית שבין BC' ובין הבסיס $ABCD$.



סטטיסטיקה

13. הציונים של תלמידים במבחן במתמטיקה היו 6, 7, 8 בלבד.

9 תלמידים קיבלו את הציון 7, 5 תלמידים קיבלו את הציון 6,

ו- 5 תלמידים קיבלו את הציון 8.

3 תלמידים שנעדרו מהמבחן נבחנו במועד אחר.

כל אחד משלושת התלמידים שנעדרו קיבל את הציון 7. המורה צירף את ציוניהם

לציונים של שאר התלמידים, וחישב את הממוצע החדש ואת סטיית התקן החדשה.

א. חשב את ממוצע הציונים במבחן שבו נעדרו שלושה תלמידים.

ב. האם ממוצע הציונים החדש גדל, קטן או לא השתנה? נמק.

ג. האם סטיית התקן החדשה גדלה, קטנה או לא השתנתה? נמק.

/המשך בעמוד 4/

פרק שלישי (40 נקודות)

בפרק זה ארבע שאלות. ענה על שתיים מהן (לכל שאלה – 20 נקודות).
אם תענה על יותר משתי שאלות, ייבדקו רק שתי התשובות הראשונות שבמחברתך.

אלגברה

14. במפעל פועלות שלוש מכונות: M_1 , M_2 , M_3 , המשמשות להכנת שני סוגים של מוצרים.

כל אחד מהמוצרים חייב לעבור עיבוד בכל אחת משלוש המכונות.

במחזור ייצור אחד אפשר להפעיל את המכונה M_1 14 שעות לכל היותר,

את המכונה M_2 אפשר להפעיל 30 שעות לכל היותר,

ואת המכונה M_3 – 125 שעות לכל היותר.

הזמן הדרוש לעיבוד 1 ק"ג מוצר מכל סוג בכל אחת מהמכונות, והרווח הנקי ממכירתו

של 1 ק"ג מוצר נתונים בטבלה שלפניך:

רווח נקי (שקלים)	M_3 (שעות)	M_2 (שעות)	M_1 (שעות)	
70	4	3	1	מוצר ראשון
100	10	1	1	מוצר שני

א. רשום את מערכת האילוצים, וסרטט את התחום האפשרי של הבעיה.

ב. מצא את הכמות בק"ג שיש לייצר מכל סוג מוצר במחזור ייצור אחד,

כדי לקבל רווח מקסימלי.

חשבון דיפרנציאלי ואינטגרלי

15. נתונה הפונקציה $y = \sqrt{x} + \frac{A}{x}$, $x > 0$ (A הוא פרמטר).

לפונקציה יש נקודת קיצון אחת בנקודה שבה $x = 4$.

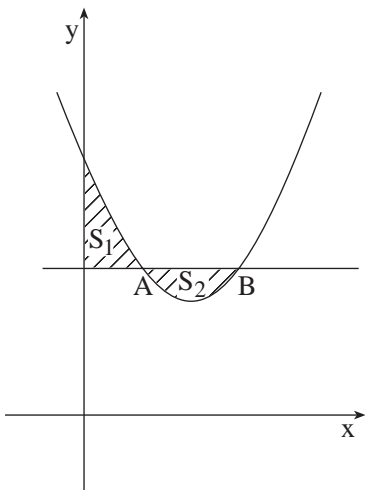
א. מצא את הערך של A.

ב. הצב את הערך של A שמצאת בסעיף א, ומצא את:

(1) שיעור ה- y של נקודת הקיצון הנתונה.

(2) סוג הקיצון.

ג. סרטט סקיצה של גרף הפונקציה בתחום ההגדרה שלה.



16. נתונה הפונקציה $y = x^2 - 4x + 7$.

הישר $y = 4$ חותך את גרף הפונקציה

בנקודות A ו-B (ראה ציור).

א. מצא את שיעורי ה- x של הנקודות A ו-B.

ב. S_1 הוא השטח המוגבל על ידי גרף הפונקציה,

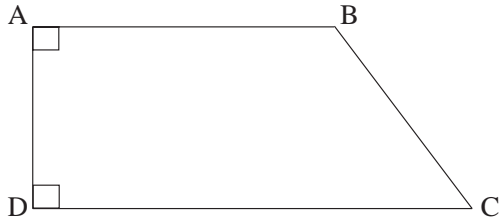
על ידי הישר $y = 4$ ועל ידי ציר ה- y .

S_2 הוא השטח המוגבל על ידי גרף הפונקציה

ועל ידי הישר $y = 4$ (ראה ציור).

הראה כי $S_1 = S_2$.

טריגונומטריה



17. בטרפז ישר-זווית ABCD (ראה ציור)

נתון: $AB = a$

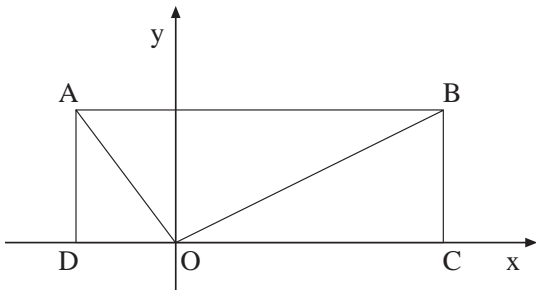
$BC = 5$ ס"מ

$\angle BCD = 37^\circ$

- א. חשב את גובה הטרפז.
ב. הבע באמצעות a את שטח הטרפז.
ג. שטח הטרפז הוא 24 סמ"ר. חשב את a .

פרק רביעי (15 נקודות)

בפרק זה שתי שאלות. ענה על אחת מהן.
אם תענה על יותר משאלה אחת, תיבדק רק התשובה הראשונה שבמחברתך.



18. במלבן ABCD הצלע DC נמצאת

על ציר ה- x (ראה ציור).

שיעורי קדקוד B הם $(8, 4)$.

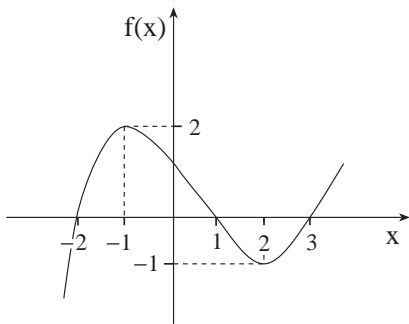
א. חשב את גודל הזווית BOC

(O – ראשית הצירים).

ב. נתון גם כי $\angle AOD$ גדולה פי 2 מ- $\angle BOC$.

מצא את שיעורי קדקוד D.

ג. חשב את שטח המשולש AOB.



19. נתון הגרף של הפונקציה $f(x)$ (ראה ציור).

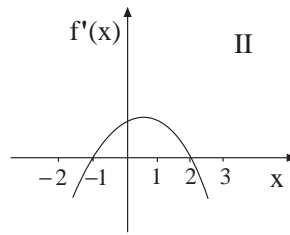
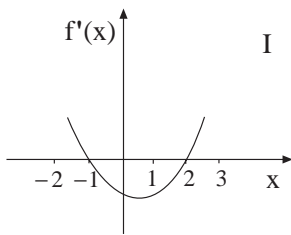
א. בהסתמך על הגרף, מצא את:

(1) שיעורי ה- x שבהם $f'(x) = 0$.

(2) התחומים שבהם $f'(x) > 0$,

והתחום שבו $f'(x) < 0$.

ב. איזה מבין הגרפים I-II שלפניך יכול לתאר את $f'(x)$? נמק.



ג. העבירו שני משיקים לגרף הפונקציה $f(x)$: משיק בנקודת המינימום של הפונקציה,

ומשיק בנקודת המקסימום שלה.

בהסתמך על הגרף של הפונקציה $f(x)$, מצא את המרחק בין שני המשיקים.

בהצלחה!

נוסחאון מתמטיקה

3 יחידות לימוד (החל מקיץ תשנ"ז)

אלגברה

$$(a \pm b)^2 = a^2 \pm 2ab + b^2 \quad (a-b) \cdot (a+b) = a^2 - b^2$$

נוסחאות הכפל

$$x_{1,2} = \frac{-b \pm \sqrt{b^2 - 4ac}}{2a} \quad \text{השורשים: } (a \neq 0) \quad ax^2 + bx + c = 0 \quad \text{משוואה ריבועית}$$

מערכת צירים

$$m = \frac{y_2 - y_1}{x_2 - x_1} \quad \text{שיפוע ישר דרך } (x_1, y_1) \text{ ו- } (x_2, y_2)$$

$$y - y_1 = m(x - x_1) \quad \text{משוואת ישר דרך } (x_1, y_1)$$

$$x_M = \frac{x_1 + x_2}{2} \quad \text{נקודת אמצע M של קטע שקצותיו הם } A(x_1, y_1) \text{ ו- } B(x_2, y_2) \text{ מקיימת:}$$

$$y_M = \frac{y_1 + y_2}{2}$$

$$d^2 = (x_2 - x_1)^2 + (y_2 - y_1)^2 \quad \text{המרחק d בין הנקודות } A(x_1, y_1) \text{ ו- } B(x_2, y_2) \text{ מקיים:}$$

$$m_1 \cdot m_2 = -1 \quad \text{הישרים: } y = m_1x + n_1 \text{ , } y = m_2x + n_2 \text{ מאונכים זה לזה אם ורק אם}$$

$$(x-m)^2 + (y-n)^2 = r^2 \quad \text{משוואת מעגל שמרכזו } (m, n) \text{ ורדיוסו } r$$

סדרות

סדרה הנדסית	סדרה חשבונית	
$a_n = a_1 q^{n-1}$	$a_n = a_1 + (n-1)d$	איבר n-י:
$S_n = \frac{a_1(q^n - 1)}{q - 1}$	$S_n = \frac{n}{2}(a_1 + a_n)$ $S_n = \frac{n}{2}[2a_1 + (n-1)d]$	סכום:

$$a^x b^x = (ab)^x$$

$$a^x a^y = a^{x+y}$$

חזקות ולוגריתמים

$$e^x = a \Leftrightarrow x = \ln a$$

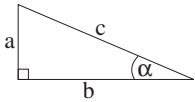
$$(a^x)^y = a^{xy}$$

טריגונומטריה

זהויות

$$\begin{array}{llll} \sin(180^\circ - \alpha) = \sin \alpha & \sin(90^\circ - \alpha) = \cos \alpha & \cos(-\alpha) = \cos \alpha & \sin^2 \alpha + \cos^2 \alpha = 1 \\ \cos(180^\circ - \alpha) = -\cos \alpha & \cos(90^\circ - \alpha) = \sin \alpha & \sin(-\alpha) = -\sin \alpha & \operatorname{tg} \alpha = \frac{\sin \alpha}{\cos \alpha} \end{array}$$

פונקציות טריגונומטריות במשולש ישר-זווית



$$\sin \alpha = \frac{a}{c}$$

$$\cos \alpha = \frac{b}{c}$$

$$\operatorname{tg} \alpha = \frac{a}{b}$$

$$S = \frac{1}{2} a \cdot b \cdot \sin \gamma$$

שטח משולש

הנדסת המישור

שטחים והיקפים

$S = \pi r^2$ שטח עיגול: $(a - h \text{ גובה לצלע } a)$ $S = \frac{a \cdot h}{2}$ שטח משולש:

$S = \frac{\pi r^2 \alpha^\circ}{360^\circ}$ שטח גזרת עיגול: $(a - h \text{ גובה לצלע } a)$ $S = a \cdot h$ שטח מקבילית:

$\ell = 2\pi r$ היקף מעגל: $(a, b - \text{בסיסי הטרפז, } h - \text{גובה})$ $S = \frac{(a+b)h}{2}$ שטח טרפז:

$\ell = \frac{\pi r \alpha^\circ}{180^\circ}$ אורך קשת מעגל:

תכונות של מצולעים

משולש שווה-שוקיים: חוצה זווית הראש, התיכון לבסיס והגובה לבסיס מתלכדים.

מקבילית: האלכסונים חוצים זה את זה.

מלבן: האלכסונים חוצים זה את זה ושווים זה לזה.

מעוין: האלכסונים חוצים זה את זה וניצבים זה לזה.

טרפז שווה-שוקיים: הזוויות ליד אותו בסיס שוות זו לזו, והאלכסונים שווים זה לזה.

הנדסת המרחב

$P = 4\pi R^2$	<u>שטח פנים</u>	<u>כדור:</u>	$V = B \cdot h$	<u>נפח</u>	<u>מנסרה וגליל:</u>
$V = \frac{4}{3}\pi R^3$	<u>נפח</u>		שטח הבסיס	—	B
			גובה הגוף	—	h
$V = \frac{B \cdot h}{3}$	<u>נפח</u>	<u>פירמידה וחרוט:</u>	$M = P \cdot h$	<u>שטח מעטפת</u>	
שטח הבסיס	—	B	היקף הבסיס	—	P
גובה הגוף	—	h	גובה הגוף	—	h

חשבון דיפרנציאלי ואינטגרלי

נגזרות

$(uv)' = u'v + uv'$ נגזרת של מכפלת פונקציות:

$(x^n)' = nx^{n-1}$

כלל השרשרת:

$(e^x)' = e^x$

נגזרת של פונקציה מורכבת $F(u(x))$ היא: $F'(u) \cdot u'(x)$,

$(\sqrt{x})' = \frac{1}{2\sqrt{x}}$

כאשר $u'(x)$ היא נגזרת של u לפי x

ו- $F'(u)$ היא נגזרת של F לפי u .

$(\frac{1}{x})' = -\frac{1}{x^2}$

אינטגרלים (מידים)

$\int x^n dx = \frac{x^{n+1}}{n+1} + C \quad (n \neq -1)$

$\int e^x dx = e^x + C$

$\int f(x) dx = F(x) + C \Rightarrow \int f(ax + b) dx = \frac{1}{a} F(ax + b) + C$

סטטיסטיקה והסתברות

$$\bar{x} = \frac{x_1 f_1 + x_2 f_2 + \dots + x_n f_n}{N}$$

ממוצע

x_n, \dots, x_2, x_1 השכיחויות של f_n, \dots, f_2, f_1

$$f_1 + f_2 + \dots + f_n = N$$

$$S = \sqrt{\frac{(x_1 - \bar{x})^2 f_1 + (x_2 - \bar{x})^2 f_2 + \dots + (x_n - \bar{x})^2 f_n}{N}}$$

סטיית תקן

הסתברויות

$p(A \cup B) = p(A) + p(B) - p(A \cap B)$ ההסתברות של A או B (A, B – מאורעות):

$p(A \cap B) = p(A) \cdot p(B)$ ההסתברות של A וגם B, כאשר A ו-B הם מאורעות בלתי תלויים:

$p(\bar{A}) = 1 - p(A)$ הסתברות המאורע המשלים ל-A :

טבלת התפלגות נורמלית (0,1) מצטברת, כוללת ערכי z שליליים

Z	0	1	2	3	4	5	6	7	8	9
-3.0	0.0013	0013	0013	0012	0012	0011	0011	0011	0010	0010
-2.9	0.0019	0018	0017	0017	0016	0016	0015	0015	0014	0014
-2.8	0.0026	0025	0024	0023	0023	0022	0021	0021	0020	0019
-2.7	0.0035	0034	0033	0032	0031	0030	0029	0028	0027	0026
-2.6	0.0046	0045	0044	0043	0041	0040	0039	0038	0037	0036
-2.5	0.0062	0060	0059	0057	0055	0054	0052	0051	0049	0048
-2.4	0.0082	0080	0078	0075	0073	0071	0069	0068	0066	0064
-2.3	0.0107	0104	0102	0099	0096	0094	0091	0089	0087	0084
-2.2	0.0139	0135	0132	0129	0125	0122	0119	0116	0113	0110
-2.1	0.0179	0174	0170	0166	0162	0158	0154	0150	0146	0143
-2.0	0.0227	0222	0217	0212	0207	0202	0197	0192	0188	0183
-1.9	0.0287	0281	0274	0268	0262	0256	0250	0244	0238	0233
-1.8	0.0359	0350	0344	0336	0329	0322	0314	0307	0301	0294
-1.7	0.0446	0436	0427	0418	0409	0401	0392	0384	0375	0367
-1.6	0.055	054	053	052	0505	0495	0485	0475	0465	0455
-1.5	0.067	065	064	063	062	061	059	058	057	056
-1.4	0.081	079	078	076	075	074	072	071	069	068
-1.3	0.097	095	093	092	090	089	087	085	084	082
-1.2	0.115	113	111	109	107	106	104	102	100	098
-1.1	0.136	134	131	129	127	125	123	121	119	117
-1.0	0.159	156	154	152	149	147	145	142	140	138
-0.9	0.184	181	179	176	174	171	168	166	163	161
-0.8	0.212	209	206	203	200	198	195	192	189	187
-0.7	0.242	239	236	233	230	227	224	221	218	215
-0.6	0.274	271	268	264	261	258	255	251	248	245
-0.5	0.308	305	301	298	295	291	288	284	281	278
-0.4	0.345	341	337	334	330	326	323	319	316	312
-0.3	0.382	378	375	371	367	363	359	356	352	348
-0.2	0.421	417	413	409	405	401	397	394	390	386
-0.1	0.460	456	452	448	444	440	436	432	429	425
-0.0	0.500	496	492	488	484	480	476	472	468	464
0.0	0.500	504	508	512	516	520	524	528	532	536
0.1	0.540	544	548	552	556	560	564	568	571	575
0.2	0.579	583	587	591	595	599	603	606	610	614
0.3	0.618	622	625	629	633	637	641	644	648	652
0.4	0.655	659	663	666	670	674	677	681	684	688
0.5	0.692	695	699	702	705	709	712	716	719	722
0.6	0.726	729	732	736	739	742	745	749	752	755
0.7	0.758	761	764	767	770	773	776	779	782	785
0.8	0.788	791	794	797	800	802	805	808	811	813
0.9	0.816	819	821	824	826	829	832	834	837	839
1.0	0.841	844	846	848	851	853	855	858	860	862
1.1	0.864	866	869	871	873	875	877	879	881	883
1.2	0.885	887	889	891	893	894	896	898	900	902
1.3	0.903	905	907	908	910	911	913	915	916	918
1.4	0.919	921	922	924	925	926	928	929	931	932
1.5	0.933	935	936	937	938	939	941	942	943	944
1.6	0.945	946	947	948	9495	9505	9515	9525	9535	9545
1.7	0.9554	9564	9573	9582	9591	9599	9608	9616	9625	9633
1.8	0.9641	9650	9656	9664	9671	9678	9686	9693	9699	9706
1.9	0.9713	9719	9726	9732	9738	9744	9750	9756	9762	9767
2.0	0.9773	9778	9783	9788	9793	9798	9803	9808	9812	9817
2.1	0.9821	9826	9830	9834	9838	9842	9846	9850	9854	9857
2.2	0.9861	9865	9868	9871	9875	9878	9881	9884	9887	9890
2.3	0.9893	9896	9898	9901	9904	9906	9909	9911	9913	9916
2.4	0.9918	9920	9922	9925	9927	9929	9931	9932	9934	9936
2.5	0.9938	9940	9941	9943	9945	9946	9948	9949	9951	9952
2.6	0.9954	9955	9956	9957	9959	9960	9961	9962	9963	9964
2.7	0.9965	9966	9967	9968	9969	9970	9971	9972	9973	9974
2.8	0.9974	9975	9976	9977	9977	9978	9979	9979	9980	9981
2.9	0.9981	9982	9983	9983	9984	9984	9985	9985	9986	9986
3.0	0.9987	9987	9987	9988	9988	9989	9989	9989	9990	9990
Z	0	1	2	3	4	5	6	7	8	9