

סוג הבחינה: בגרות לבתי-ספר על-יסודיים

מועד הבחינה: קיץ תשס"א, 2001

מספר השאלון: 035306

נספח: דפי נוסחאות ל-4 ול-5 יחידות לימוד

מתמטיקה

3 יחידות לימוד מתוך 5 יחידות לימוד

(תכנית חדשה)

הוראות לנבחן

- א. משך הבחינה: שלוש שעות.
- ב. מבנה השאלון ומפתח ההערכה: בשאלון זה שני פרקים.
- פרק ראשון – הנדסת המישור, אלגברה – $(16 \frac{2}{3} \times 3)$ – 50 נקודות
- פרק שני – חשבון דיפרנציאלי ואינטגרלי, טריגונומטריה – $(16 \frac{2}{3} \times 3)$ – 50 נקודות
- סה"כ – 100 נקודות
- ג. חומר עזר מותר בשימוש:
1. מחשבון לא גרפי. אין להשתמש באפשרויות התכנות במחשבון הניתן לתכנות. שימוש במחשבון גרפי או באפשרויות התכנות במחשבון עלול לגרום לפסילת הבחינה.
 2. דפי נוסחאות (מצורפים).
- ד. הוראות מיוחדות:
1. אל תעתיק את השאלה; סמן את מספרה בלבד.
 2. התחל כל שאלה בעמוד חדש. רשום במחברת את שלבי הפתרון, גם כאשר החישובים מתבצעים בעזרת מחשבון.
 3. הסבר את כל פעולותיך, כולל חישובים, בפירוט ובצורה ברורה ומסודרת. חוסר פירוט עלול לגרום לפסילת הבחינה או לפגיעה בציון.
 3. כטייטה יש להשתמש רק במחברת הבחינה או בדפים שקיבלת מהמשגיחים. שימוש בטייטה אחרת עלול לגרום לפסילת הבחינה.

ההנחיות בשאלון זה מנוסחות בלשון זכר ומכוונות לנבחנות ולנבחנים כאחד.

בהצלחה!

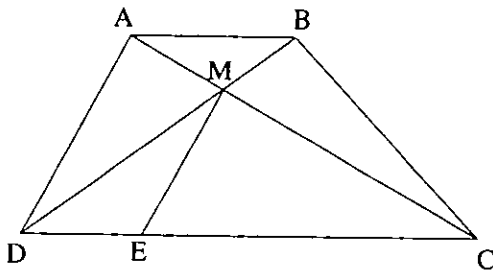
/המשך מעבר לדף/

ה ש א ל ו ת

פרק ראשון – הנדסת המישור, אלגברה (50 נקודות)

פתור שלוש מהשאלות 1-4 (לכל שאלה – $16\frac{2}{3}$ נקודות).

הנדסת המישור



1. ABCD טרפז שבו: $AB \parallel CD$.

אלכסוני הטרפז נפגשים ב- M (ראה ציור).

נתון: $\frac{AM}{MC} = \frac{1}{3}$

$ME \parallel AD$

א. מצא מהו יחס השטחים $\frac{S_{ADC}}{S_{MEC}}$.

ב. הוכח כי: $S_{ADC} = 3 \cdot S_{ABC}$.

אלגברה

2. נתונות שתי מערכות משוואות, II-I:

$$I \begin{cases} x - 2y + 3z = 5 \\ 3x + y - 2z = 0 \end{cases}$$

$$II \begin{cases} 5x - y - z = 2 \\ 4x + y - 5z = -5 \end{cases}$$

א. מצא את הפתרון הכללי של כל אחת מהמערכות.

ב. מצא פתרון משותף לשתי המערכות.

3. הוכח באינדוקציה (או בכל דרך אחרת) כי לכל n טבעי מתקיים:

$$\frac{1}{n+3} + \frac{1}{n+4} + \dots + \frac{1}{2n+4} > \frac{1}{2}$$

4. בסדרה $\{a_n\}$ נתון כי היחס בין כל שני איברים עוקבים שווה להפרש ביניהם.

א. בטא את a_{n+1} באמצעות a_n ($n \geq 1$).

ב. ידוע כי $a_3 = \frac{81}{14}$. מצא את a_1 .

פרק שני – חשבון דיפרנציאלי ואינטגרלי, טריגונומטריה (50 נקודות)

פתור שלוש מהשאלות 9-5 (לכל שאלה – $16\frac{2}{3}$ נקודות).

5. נתונה הפונקציה $f(x) = \frac{2x}{b\sqrt{x} - 3}$.

שיפוע המשיק בנקודה שבה $x = 1$ הוא $-\frac{5}{4}$.

א. מצא את שני הערכים של b .

ב. הצב ב־ $f(x)$ את הערך הקטן משני הערכים של b שקיבלת בסעיף א,

וחקור את $f(x)$:

(i) מצא את תחום ההגדרה.

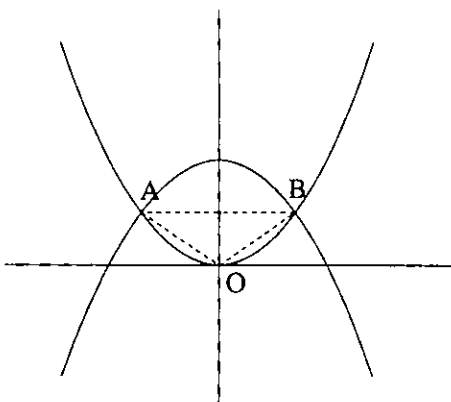
(ii) מצא את נקודות החיתוך עם הצירים.

(iii) מצא את תחומי העלייה ותחומי הירידה.

(iv) מצא את נקודות הקיצון.

(v) מצא את האסימפטוטה האנכית.

(vi) סרטט סקיצה של גרף הפונקציה.



6. הגרפים של הפונקציות

$$y = -x^2 + 1$$

$$(1 < a) \quad y = (a^2 - 1)x^2$$

נחתכים בנקודות A ו-B.

הנקודה O היא ראשית הצירים.

מה צריך להיות הערך של a, שעבורו יהיה

שטח המשולש AOB מקסימלי?

7. השטח הכלוא בין הגרף של $y = ax - x^2$ ובין ציר ה-x מתחלק על-ידי הישר

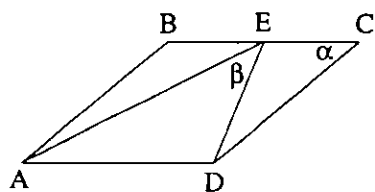
$$y = (a - 2)x \quad S_1 \text{ ו- } S_2 \quad (2 < a).$$

מצא את S_1 ו- S_2 (אם יש צורך, הבע באמצעות a).

8. א. הוכח כי: $\sin(2\arcsin x) = 2x\sqrt{1-x^2}$.

ב. מצא את תחום ההגדרה של הפונקציה: $\arccos(x^2 - 7x + 11)$.

9. במעוין ABCD הנקודה E היא אמצע הצלע BC.



$$\angle BCD = \alpha$$

$$\angle AED = \beta \quad (\text{ראה ציור}).$$

הוכח כי: $\cos \beta = \frac{3}{\sqrt{25 - 16\cos^2 \alpha}}$.

בהצלחה!

זכות היוצרים שמורה למדינת ישראל
 אין להעתיק או לפרסם אלא ברשות משרד החינוך

נוסחאון מתמטיקה

5-4 יחידות לימוד (חחל מקיץ תשי"ן)

אלגברה

$$a^n - b^n = (a-b)(a^{n-1} + a^{n-2}b + \dots + a^{n-3}b^2 + \dots + b^{n-1})$$

פירוק לגורמים

$$(a+b)^n = a^n + \binom{n}{1} a^{n-1} \cdot b + \dots + \binom{n}{k} a^{n-k} \cdot b^k + \dots + b^n$$

בינום ניוטון

$$\binom{n}{k} = \frac{n!}{k!(n-k)!}$$

$$x_1 + x_2 = -\frac{b}{a}$$

$$x_1 \cdot x_2 = \frac{c}{a}$$

נוסחאות וייטה

$$x_{1,2} = \frac{-b \pm \sqrt{b^2 - 4ac}}{2a}$$

x_1, x_2 שורשי משוואה ריבועית.

סדרות

סדרה הנדסית	סדרה חשבונית	
$a_n = a_1 q^{n-1}$	$a_n = a_1 + (n-1)d$	האיבר ה-n י :
$S_n = \frac{a_1(q^n - 1)}{q - 1}$	$S_n = \frac{n}{2} [2a_1 + (n-1)d]$	הסכום:

$$z = a + bi = r(\cos\theta + i \sin\theta)$$

מספרים מרוכבים

$$z_1 z_2 = r_1 r_2 [\cos(\theta_1 + \theta_2) + i \sin(\theta_1 + \theta_2)]$$

מכפלה בהצגה קוטבית:

$$(\cos\theta + i \sin\theta)^n = \cos n\theta + i \sin n\theta$$

משפט דה-מואבר:

$$z_k = \sqrt[n]{r} \left[\cos\left(\frac{\alpha}{n} + \frac{2\pi k}{n}\right) + i \sin\left(\frac{\alpha}{n} + \frac{2\pi k}{n}\right) \right]$$

שורשי המשוואה $z^n = r(\cos\alpha + i \sin\alpha)$ הם:

$$k = 0, 1, \dots, n-1$$

קומבינטוריקה

$$P_n = n!$$

מספר התמורות של n עצמים (בלי חזרות):

מספר התמורות של n עצמים כשמתוכם יש n_1, n_2, \dots, n_k עצמים שווים ביניהם:

$$P_n = \frac{n!}{n_1! \cdot n_2! \cdot \dots \cdot n_k!}$$

$$A_n^k = \frac{n!}{(n-k)!}$$

מספר החליפות של k מתוך n עצמים (בלי חזרות):

$$\binom{n}{k} = C_n^k = \frac{n!}{k!(n-k)!}$$

מספר הצירופים של k מתוך n עצמים (בלי חזרות):

וקטורים

מישור דרך קצות הווקטורים $\vec{a} = \vec{OA}$, $\vec{b} = \vec{OB}$, $\vec{c} = \vec{OC}$:
 $\vec{x} = \vec{a} + t(\vec{b} - \vec{a}) + s(\vec{c} - \vec{a})$
 מכפלה סקלרית: $(\vec{x}, \vec{y}) = \vec{x} \cdot \vec{y} = x_1 y_1 + x_2 y_2 + x_3 y_3 = |\vec{x}| \cdot |\vec{y}| \cdot \cos \alpha$
 ניצבות: $\vec{x} \cdot \vec{y} = 0$
 אורך של וקטור: $|\vec{x}| = \sqrt{\vec{x} \cdot \vec{x}} = \sqrt{x_1^2 + x_2^2 + x_3^2}$

מרחק בין $\vec{z} = (z_1, z_2, z_3)$ למישור $\vec{a} \cdot \vec{x} + c = 0$:
 $\frac{|\vec{a} \cdot \vec{z} + c|}{|\vec{a}|}$

זווית בין הישר $t\vec{b} + d$ למישור $\vec{a} \cdot \vec{x} + c = 0$:
 $\sin \beta = \frac{|\vec{a} \cdot \vec{b}|}{|\vec{a}| \cdot |\vec{b}|}$

זווית בין המישורים $\vec{a} \cdot \vec{x} + c = 0$, $\vec{b} \cdot \vec{x} + d = 0$:
 $\cos \alpha = \frac{|\vec{a} \cdot \vec{b}|}{|\vec{a}| \cdot |\vec{b}|}$

חוקות ולוגריתמים
 $a^{\log_a x} = \log_a (a^x) = x$ $\log_a x = \frac{\log_b x}{\log_b a}$

טריגונומטריה

זהויות

$\sin(\alpha \pm \beta) = \sin \alpha \cos \beta \pm \cos \alpha \sin \beta$ $\cos(\alpha \pm \beta) = \cos \alpha \cos \beta \mp \sin \alpha \sin \beta$

$\operatorname{tg}(\alpha \pm \beta) = \frac{\operatorname{tg} \alpha \pm \operatorname{tg} \beta}{1 \mp \operatorname{tg} \alpha \operatorname{tg} \beta}$ $\operatorname{tg} \frac{\alpha}{2} = \frac{\sin \alpha}{1 + \cos \alpha}$

$\sin \frac{\alpha}{2} = \pm \sqrt{\frac{1 - \cos \alpha}{2}}$ $\cos \frac{\alpha}{2} = \pm \sqrt{\frac{1 + \cos \alpha}{2}}$

$\sin \alpha + \sin \beta = 2 \sin \frac{\alpha + \beta}{2} \cos \frac{\alpha - \beta}{2}$ $\cos \alpha + \cos \beta = 2 \cos \frac{\alpha + \beta}{2} \cos \frac{\alpha - \beta}{2}$

$\sin \alpha - \sin \beta = 2 \sin \frac{\alpha - \beta}{2} \cos \frac{\alpha + \beta}{2}$ $\cos \alpha - \cos \beta = -2 \sin \frac{\alpha + \beta}{2} \sin \frac{\alpha - \beta}{2}$

משפט הסינוס: $c^2 = a^2 + b^2 - 2ab \cos \gamma$ משפט הסינוס: $\frac{a}{\sin \alpha} = 2R$
 שטח גורח: $\frac{1}{2} r^2 \alpha$ אורך קשת של α רדיאנים: $r \alpha$

הנדסת המרחב

נפח כדור: $V = \frac{4}{3} \pi R^3$ נפח תרוט ופרימידה (B - שטח הבסיס): $V = \frac{B \cdot h}{3}$
 שטח פנים של כדור: $P = 4\pi R^2$ שטח מעטפת תרוט: $M = \pi R \ell$

אנליזה (חשבון דיפרנציאלי ואינטגרלי)

נגזרות

$(uv)' = u'v + uv'$ $(x^n)' = nx^{n-1}$ $\sin' x = \cos x$ $\arcsin' x = \frac{1}{\sqrt{1-x^2}}$
 $\left(\frac{u}{v}\right)' = \frac{vu' - v'u}{v^2}$ $(a^x)' = a^x \ln a$ $\cos' x = -\sin x$ $\arccos' x = \frac{-1}{\sqrt{1-x^2}}$
 $\log_a' x = \frac{1}{x \ln a}$ $\operatorname{tg}' x = \frac{1}{\cos^2 x}$ $\operatorname{arc} \operatorname{tg}' x = \frac{1}{1+x^2}$
 כלל השרשרת: $f'(x) = v'(u) \cdot u'(x)$

$$\int f(ax+b) dx = \frac{1}{a} F(ax+b) + C \quad \text{אינטגרלים}$$

$$\int_a^b f(x) dx = \frac{h}{2} [f(a) + 2f(x_1) + \dots + 2f(x_{n-1}) + f(b)] \quad \text{כלל הטורפוי}$$

פונקציות

פונקציה זוגית: $f(x) = f(-x)$ פונקציה אי-זוגית: $f(-x) = -f(x)$

נקודת פיתול: נקודת מעבר בין קמירות לקעירות פונקציה קמורה: U

סטטיסטיקה וחסתברות

$$S = \sqrt{\frac{(x_1 - \bar{x})^2 f_1 + (x_2 - \bar{x})^2 f_2 + \dots + (x_n - \bar{x})^2 f_n}{N}} \quad \text{סטיית תקן}$$

f_1, f_2, \dots, f_n השכיחויות של x_1, x_2, \dots, x_n

\bar{x} ממוצע הנתונים ; $f_1 + f_2 + \dots + f_n = N$

נוסחת ברנולי: ההסתברות ל k הצלחות ב n נסיונות בהתפלגות בינומית עם הסתברות p :

$$p_n(k) = \binom{n}{k} p^k (1-p)^{n-k}$$

לוח של התפלגות נורמלית (0,1) מצטברת

u	0	1	2	3	4	5	6	7	8	9
0.0	0.500	504	508	512	516	520	524	528	532	536
0.1	0.540	544	548	552	556	560	564	568	571	575
0.2	0.579	583	587	591	595	599	603	606	610	614
0.3	0.618	622	625	629	633	637	641	644	648	652
0.4	0.655	659	663	666	670	674	677	681	684	688
0.5	0.692	695	699	702	705	709	712	716	719	722
0.6	0.726	729	732	736	739	742	745	749	752	755
0.7	0.758	761	764	767	770	773	776	779	782	787
0.8	0.788	791	794	797	800	802	805	809	811	813
0.9	0.816	819	821	824	826	829	832	834	837	839
1.0	0.841	844	846	848	851	853	855	858	860	862
1.1	0.864	866	869	871	873	875	877	879	881	883
1.2	0.885	887	889	891	893	894	896	898	900	902
1.3	0.903	905	907	908	910	911	913	915	916	918
1.4	0.919	921	922	924	925	926	928	929	931	932
1.5	0.933	935	936	937	938	939	941	942	943	944
1.6	0.945	946	947	948	9495	9505	9515	9525	9535	9545
1.7	0.9554	9564	9573	9582	9591	9599	9608	9616	9625	9633
1.8	0.9641	9650	9656	9664	9671	9678	9686	9693	9699	9706
1.9	0.9713	9719	9726	9732	9738	9744	9750	9756	9762	9767
2.0	0.9773	9778	9783	9788	9793	9798	9803	9808	9812	9817
2.1	0.9821	9826	9830	9834	9838	9842	9846	9850	9854	9857
2.2	0.9861	9865	9868	9871	9875	9878	9881	9884	9887	9890
2.3	0.9893	9896	9898	9901	9904	9906	9909	9911	9913	9916
2.4	0.9918	9920	9922	9925	9927	9929	9931	9932	9934	9936
2.5	0.9938	9940	9941	9943	9945	9946	9948	9949	9951	9952
2.6	0.9954	9955	9956	9957	9959	9960	9961	9962	9963	9964
2.7	0.9965	9966	9967	9968	9969	9970	9971	9972	9973	9974
2.8	0.9974	9975	9976	9977	9977	9978	9979	9979	9980	9981
2.9	0.9981	9982	9983	9983	9984	9984	9985	9985	9986	9986
3.0	0.9987	9987	9987	9988	9988	9989	9989	9989	9990	9990

חנדסה אנליטית

קו ישר

$$y - y_1 = m(x - x_1)$$

משוואת ישר דרך (x_1, y_1) ששיפועו m :

$$\operatorname{tg} \alpha = \left| \frac{m_1 - m_2}{1 + m_1 m_2} \right|$$

נוסחה לזווית α שבין הישרים $y = m_2 x + n_2$, $y = m_1 x + n_1$:

$$m_1 \cdot m_2 = -1$$

ניצבות הישרים $y = m_2 x + n_2$, $y = m_1 x + n_1$:

$$d = \pm \frac{Ax_0 + By_0 + C}{\sqrt{A^2 + B^2}}$$

מרחק הנקודה $(x_0; y_0)$ מהישר $Ax + By + C = 0$:

$$\left(\frac{\ell x_1 + k x_2}{k + \ell}, \frac{\ell y_1 + k y_2}{k + \ell} \right) : (A(x_1, y_1); B(x_2, y_2)) \quad k : \ell \text{ ביחס } AB \text{ הקטע}$$

מעגל

משוואת המשיק למעגל $(x - a)^2 + (y - b)^2 = R^2$ בנקודה $(x_0; y_0)$:

$$(x_0 - a) \cdot (x - a) + (y_0 - b) \cdot (y - b) = R^2$$

$$\frac{x^2}{a^2} - \frac{y^2}{b^2} = 1 \quad \text{היפרבולה}$$

$$y = \pm \frac{b}{a} x$$

האסימפטוטות:

$$c = \sqrt{a^2 + b^2}$$

מרחק המוקד מהראשית:

$$\frac{x x_0}{a^2} - \frac{y y_0}{b^2} = 1$$

משיק להיפרבולה בנקודה $(x_0; y_0)$:

$$n^2 = m^2 a^2 - b^2$$

התנאי שהישר $y = mx + n$ ישיק להיפרבולה:

$$y^2 = 2px \quad \text{פרבולה}$$

$$y y_0 = p(x + x_0)$$

משיק לפרבולה בנקודה $(x_0; y_0)$:

$$n = \frac{p}{2m}$$

התנאי שהישר $y = mx + n$ ישיק לפרבולה: