



מדינת ישראל
משרד החינוך



מערכת שידורים לאומית

נשעור מתמטיקה לכתות א-ב

נושא הנשעור: חיבור וחסור עשרות ויחידות

עם המורה: יסמין קלין




מָה נִלְמַד הַיּוֹם?

• נַעֲזֹר לְגִיל לְסֵדֵר אֶת חֲנוּת הַשּׁוּקוּלָד שְׁלוֹ.

• נִכְיִן בְּעֵצְמֵנוּ עֲשָׂרוֹת וַיְחִידוֹת מִדֶּף נִרְ.

• נִגְרִיל מְסֻפְרִים בְּעֵזְרַת גִּלְגַּל הַמַּזַּל וְקִבִּיוֹת, וְנִפְתֹּר תַּרְגִּילִים בְּעֵזְרַת הָעֲשָׂרוֹת וְהַיְחִידוֹת.







מָה לְהַבִּיאַ לְשֵׁעוֹר?



מִתְחִילִים בְּכִיף: חֲנוּת הַשּׁוּקוּלָד נֶשֶׁל גִּיל




מִתְחִילִים בְּכִיף: חֲנוּת הַשּׁוּקוֹלָד נֶשֶׁל גִּיל




שוקולד

מִתְחִילִים בְּכִיף: חֲנוּת הַשּׁוֹקוֹלָד נֶשֶׁל גִּיל




מִתְחִילִים בְּכִיף: חֲנוּת הַשּׁוּקוֹלָד נֶשֶׁל גִּיל



שוקולד

מִתְחִילִים בְּכִיף: חֲנוּת הַשּׁוּקוֹלָד נֶשֶׁל גִּיל



שוקולד,

שוקולד,

מִתְחִילִים בְּכִיף: חֲנוּת הַשּׁוֹקוֹלָד נֶשֶׁל גִּיל



שוקולד,

שוקולד,

מִתְחִילִים בְּכִיף: חֲנוּת הַשּׁוֹקוֹלָד נֶשֶׁל גִּיל



שוקולד,

שוקולד,

שוקולד,

מִתְחִילִים בְּכִיף: חֲנוּת הַשּׁוֹקוֹלָד נֶשֶׁל גִּיל

36 קוביות שוקולד



מִתְחִילִים בְּכִיף: חֲנוּת הַשּׁוֹקוֹלָד נֶשֶׁל גִּיל

אָכִין עוֹד קָצֵת שּׁוֹקוֹלָד,
וְאֵז אֶפְתַּח אֶת הַחֲנוּת!



36 קְבִיּוֹת שּׁוֹקוֹלָד




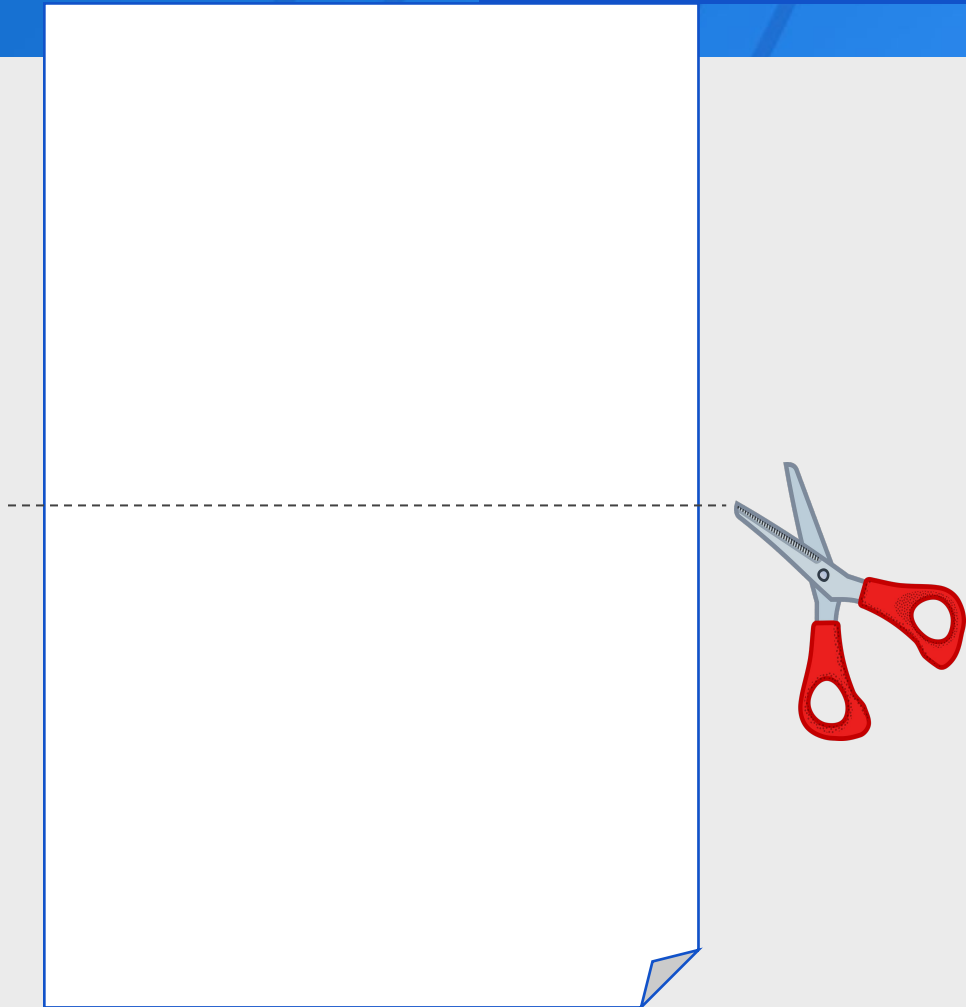
שּׁוֹקוֹלָד

שּׁוֹקוֹלָד

שּׁוֹקוֹלָד



מִתְחִילִים בְּכִיף : יוֹצְרִים עֲשָׂרוֹת יַחֲדוֹת

קחו דף נייר.
גזרו ממנו רצועות.





מִתְחִילִים בְּכִיף : יוֹצְרִים עֲשָׂרוֹת וַיְחִידוֹת

קָחוּ דָף נֶיֶר.
גְּזְרוּ מִמֶּנּוּ רְצוּעוֹת.




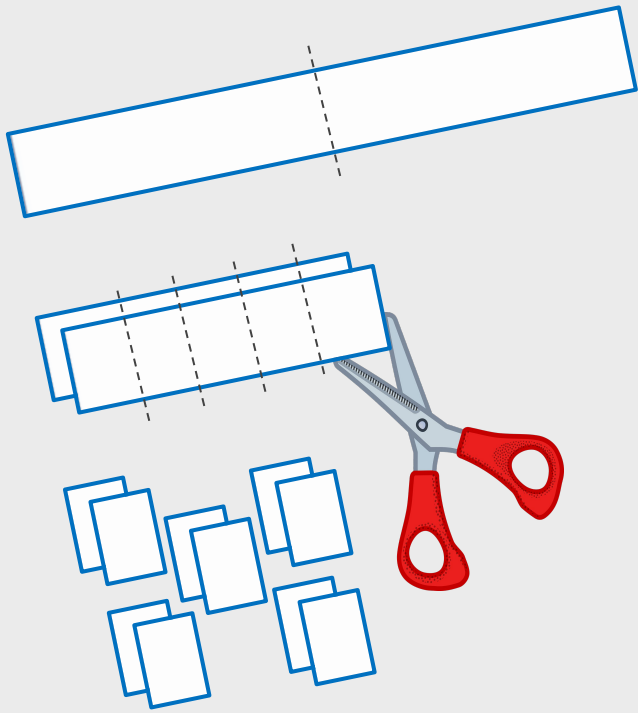
מִתְחִילִים בְּכִיף : יוֹצְרִים עֲשָׂרוֹת וַיְחִידוֹת

קָחוּ דָף נֶיֶר.
גְּזְרוּ מִמֶּנּוּ רְצוּעוֹת.




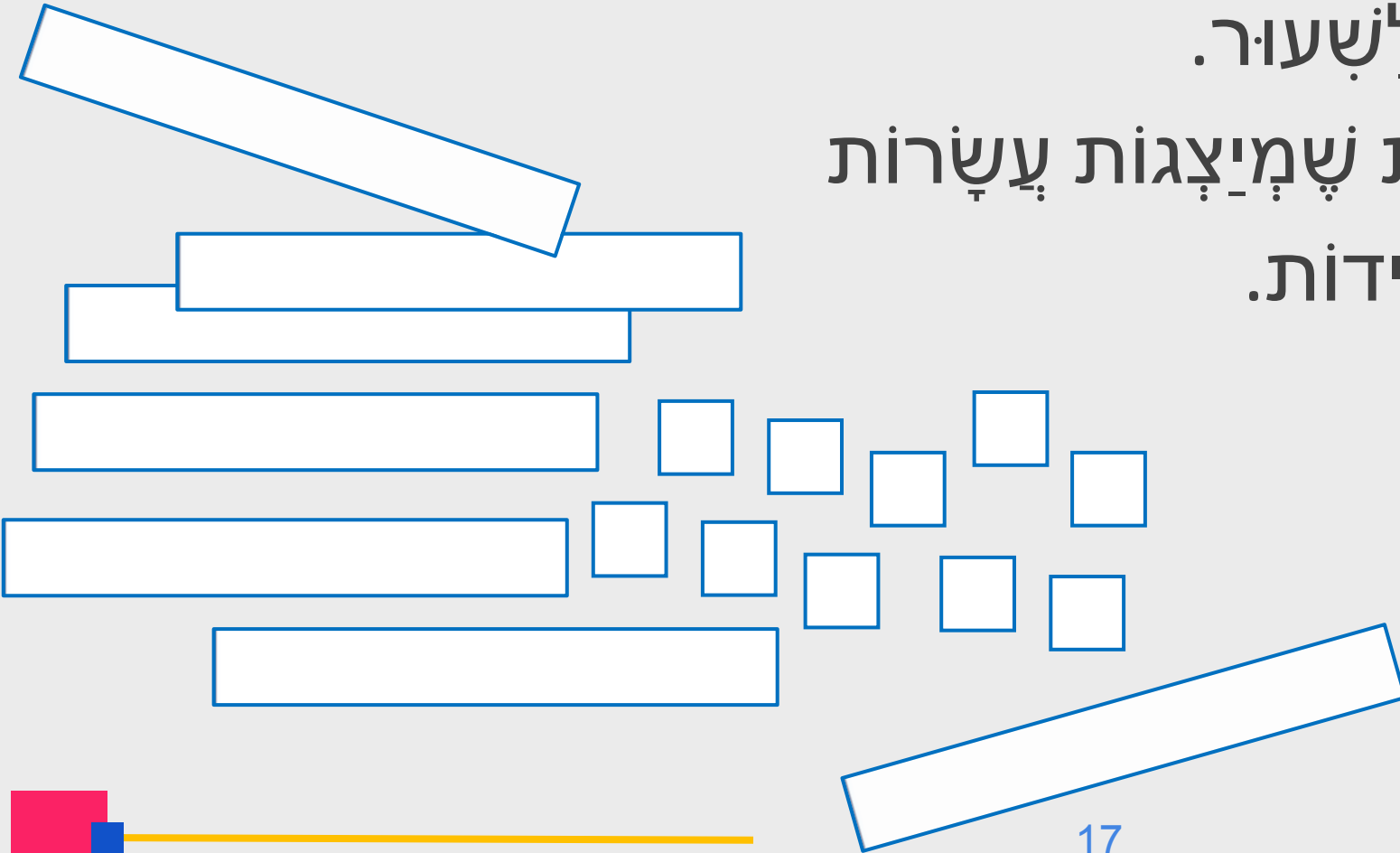
מִתְחִילִים בְּכִיף : יוֹצְרִים עֲשָׂרוֹת וַיְחִידוֹת

קחו רצועה אחת מתוך הרצועות שגזרתם,
וגזרו אותה ל-10 רבועים, כפי:



מִתְחִילִים בְּכִיף : יוֹצְרִים עֲשָׂרוֹת יַחֲדוֹת

עֲכָשׂוּ אֲנַחְנוּ מוֹכְנִים לְשִׁעוֹר.
יֵשׁ לָנוּ רְצוּעוֹת אֲרָכּוֹת שְׁמִיֲצָגוֹת עֲשָׂרוֹת
וְרַבּוּעִים שְׁמִיֲצָגִים יַחֲדוֹת.



חנות השוקולד של גיל

הציגו בַּעֲזָרַת הַעֲשָׂרוֹת וְהַיְחִידוֹת שְׂגֵזְרָתָם אֶת הַשּׁוֹקוֹלָדִים
שֶׁל גִּיל.

36 קביות שוקולד



חנות השוקולד של גיל

36 קביות שוקולד



הכנתי עוד שוקולד!



חנות השוקולד של גיל

כמה קביות שוקולד נוספות הכין גיל?
כמה קביות שוקולד יש עכשו בחנות?



חנות השוקולד של גיל

36

+

42



חנות השוקולד של גיל

שוקולד

שוקולד

שוקולד

שוקולד

שוקולד

שוקולד

שוקולד

$$36 + 42 = 78$$

חֲנֻת הַשׁוֹקוֹלָד שֶׁל גִּיל

78 קְבִיּוֹת שׁוֹקוֹלָד

שׁוֹקוֹלָד

שׁוֹקוֹלָד

שׁוֹקוֹלָד

שׁוֹקוֹלָד

שׁוֹקוֹלָד

שׁוֹקוֹלָד

שׁוֹקוֹלָד

הַחֲנֻת פְּתוּחָה!



חנות השוקולד של גיל

78 קביות שוקולד

שוקולד

שוקולד

שוקולד

שוקולד


שוקולד

שוקולד

שוקולד

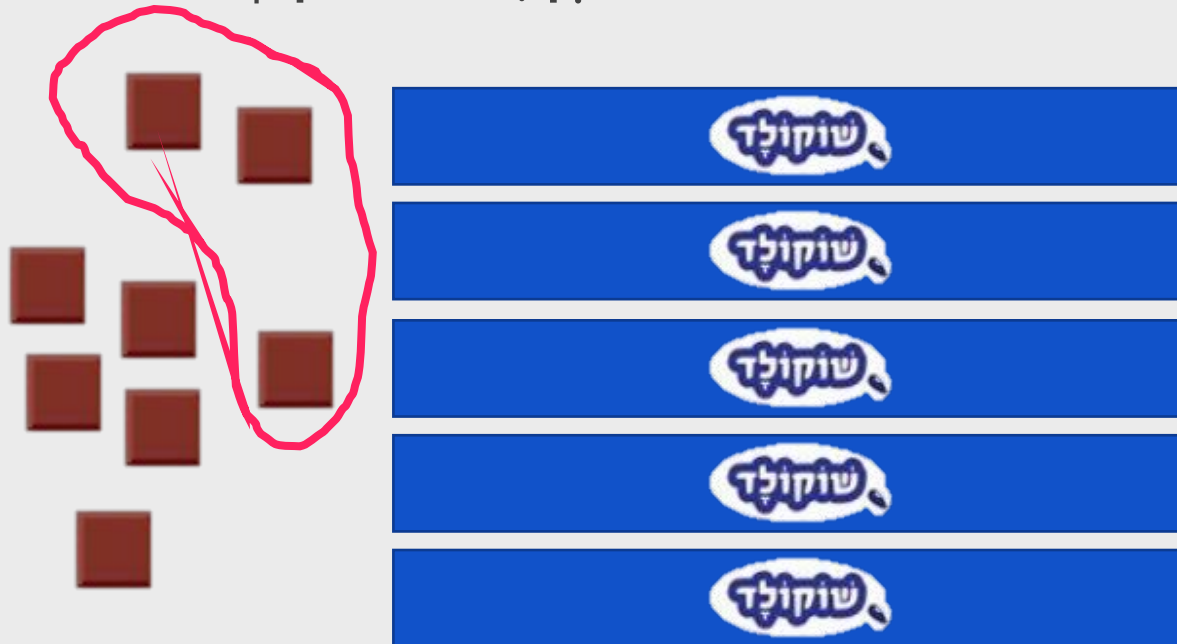
$$78 - 20 = 58$$

20 שוקולדים
בבקשה!



חנות השוקולד של גיל

58 קביות שוקולד



$$58 - 3 = 55$$

3 שוקולדים
בבקשה!



חנות השוקולד של גיל

האם השוקולד בחנות יספיק לשלשת הקונים?
אם כן, כמה שוקולדים ישארו?

55 קביות שוקולד



30 שוקולדים
בבקשה!

4 שוקולדים
בבקשה!

20 שוקולדים
בבקשה!

חנות השוקולד של גיל

$$55 - 30 = 25$$




30 שוקולדים
בבקשה

4 שוקולדים
בבקשה

20 שוקולדים
בבקשה

חנות השוקולד של גיל

$$25 - 4 = 21$$



4 שוקולדים
בבקשה

20 שוקולדים
בבקשה

חנות השוקולד של גיל

$$21 - 20 = 1$$



20 שוקולדים
בבקשה

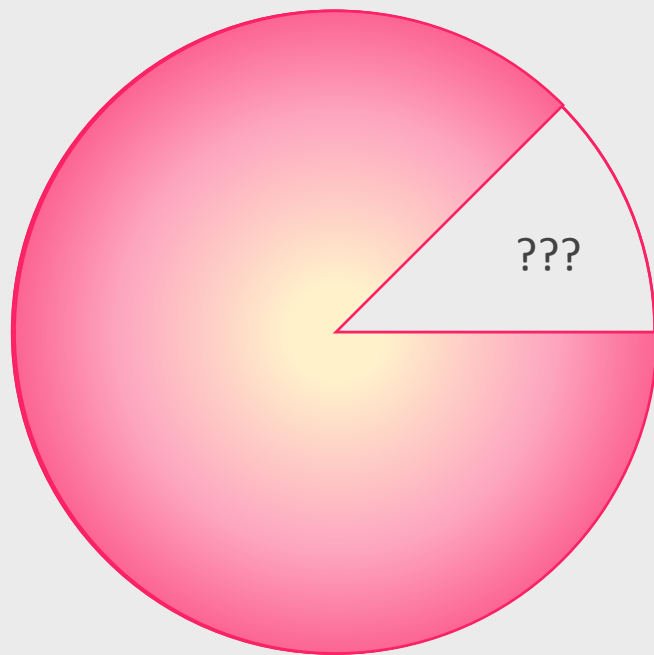
חנות השוקולד של גיל



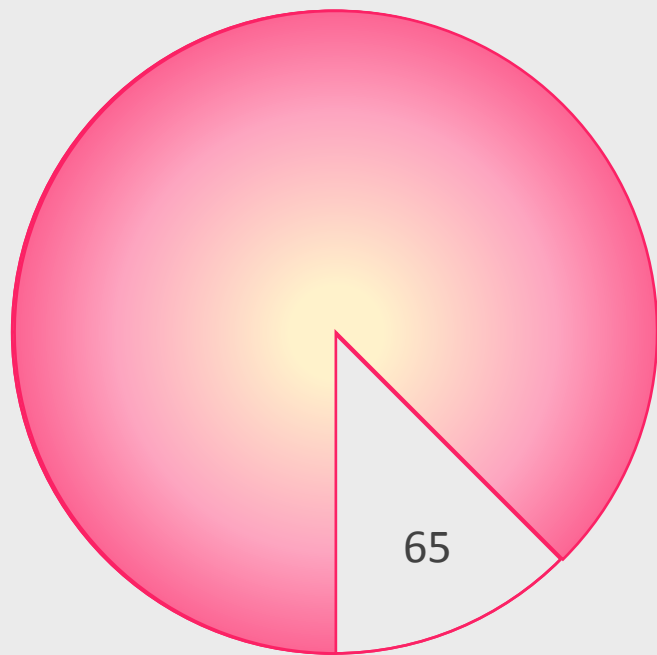
ואמיו!


תרגול: בונים מספרים

הציגו בעזרת העשרות והיחידות שגזרתם את המספר שגלגל המזל מראה.



תרגול: מחברים עשרות ויחידות

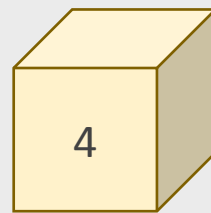




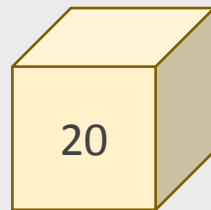
תרגול: מחברים עשרות ויחידות

הוסיפו את המספר שנקבית מראה.

$$65 + 4 = 69$$

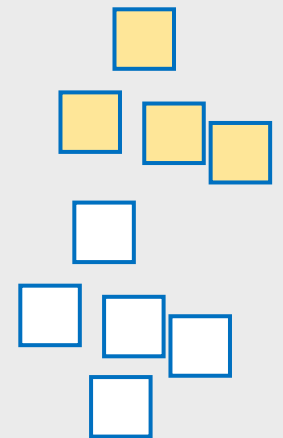


$$65 + 20 = 85$$



Two yellow horizontal bars representing the tens and ones digits of the number 64.

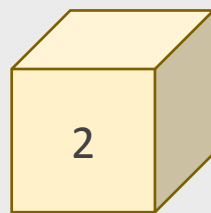
Five white horizontal bars with blue outlines, intended for writing the number 85.



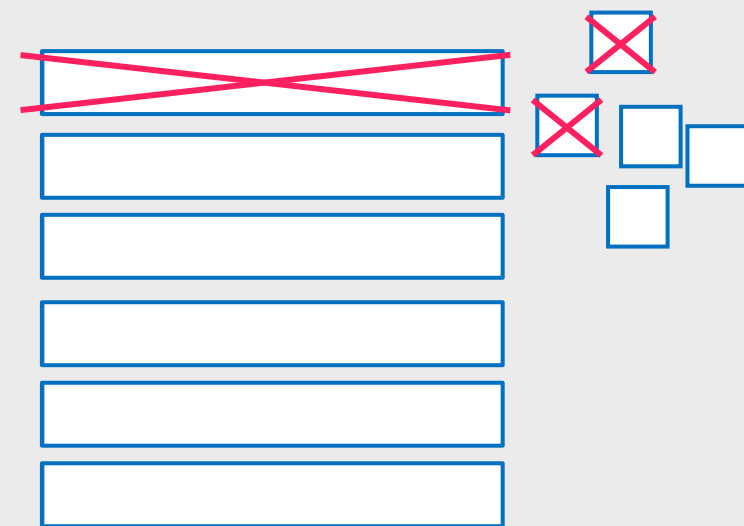
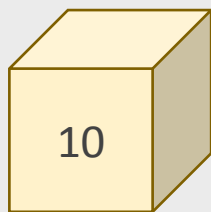
תרגול: מחסרים עשרות ויחידות

החסירו את המספר שנקבית מראו.

$$65 - 2 = 63$$

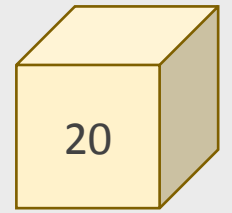
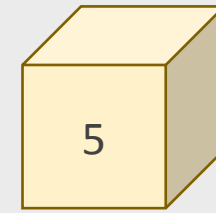
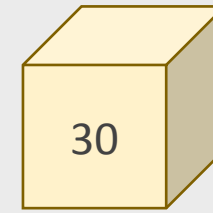
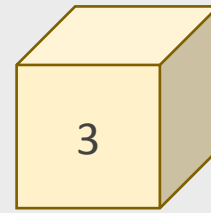


$$65 - 10 = 55$$



תרגול: מחברים ומחסרים עשרות ויחידות

השתמשו במספרים שציל הקביות,
השלימו את התרגילים ופתרו אותם.



$$65 + \underline{\quad} =$$

$$65 - \underline{\quad} =$$

$$65 + \underline{\quad} =$$

$$65 - \underline{\quad} =$$

A vertical stack of six empty rectangular boxes for writing answers. To the right of the stack is a cluster of five small empty squares arranged in a cross-like pattern.

תרגול: מחברים ומחסרים עשרות ויחידות

אילו מהתוצאות האלה קבלתם?

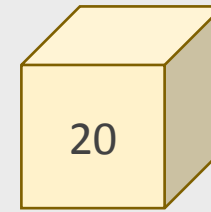
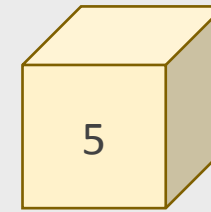
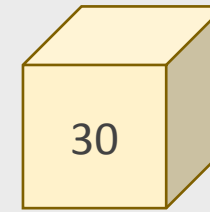
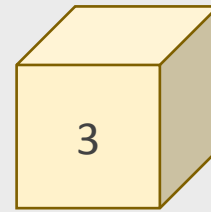
68 62 60 70

35 45 85 95

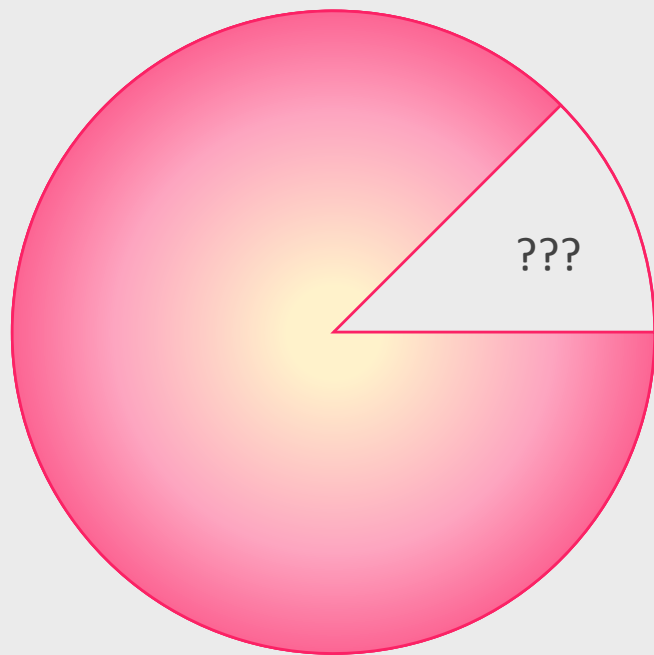
נסו לקבל גם את התוצאות האחרות.

$$65 + \underline{\quad} = \quad \quad \quad 65 - \underline{\quad} = \quad$$

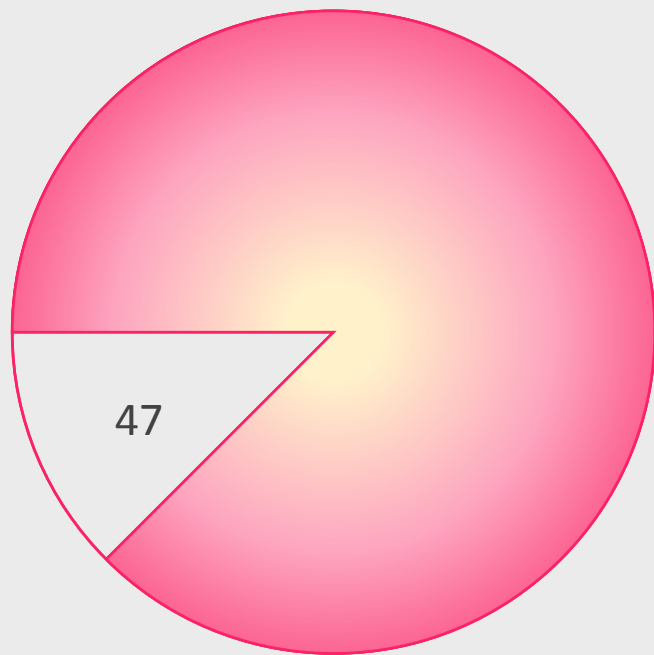
$$65 + \underline{\quad} = \quad \quad \quad 65 - \underline{\quad} = \quad$$

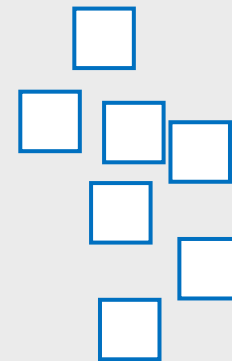


תרגול: מחברים עשרות ויחידות



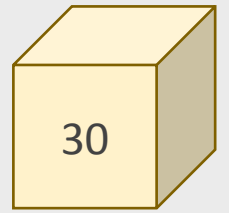
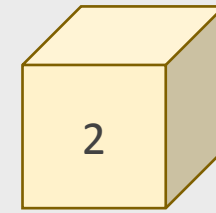
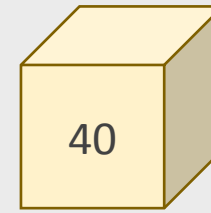
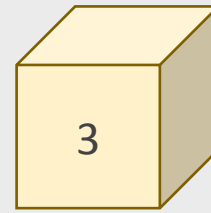
תרגול: מחברים עשרות ויחידות





תרגול: מחברים ומחסרים עשרות ויחידות

השתמשו במספרים שעל הקביות, השלימו את התרגילים ופתרו אותם.

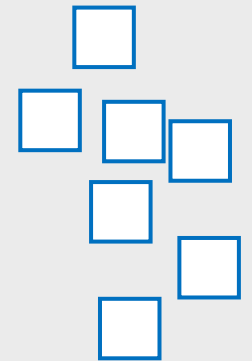


$$47 + \underline{\quad} =$$

$$47 - \underline{\quad} =$$

$$47 + \underline{\quad} =$$

$$47 - \underline{\quad} =$$



תרגול: מחברים ומחסרים עשרות ויחידות

אילו מהתוצאות האלה קבלתם?

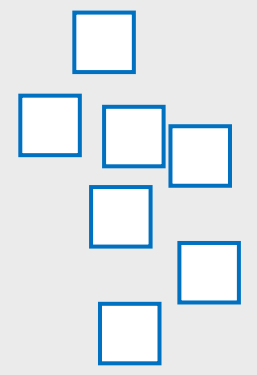
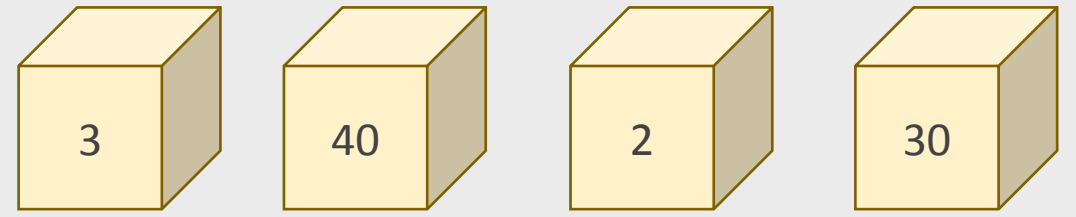
87 77 17 7

44 45 49 50

נסו לקבל גם את התוצאות האחרות.

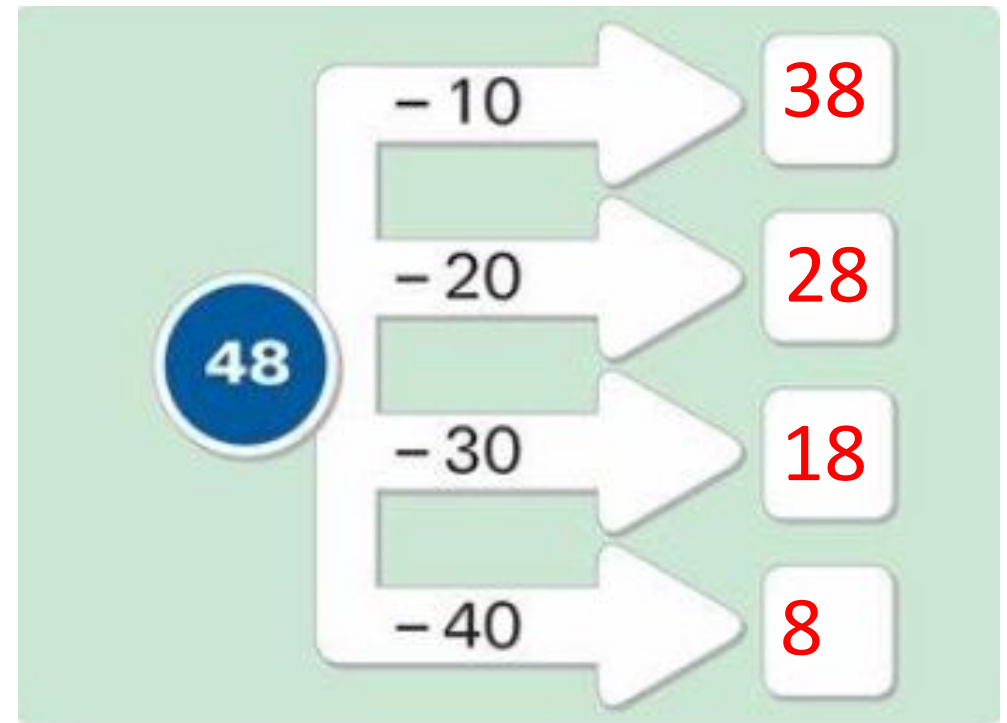
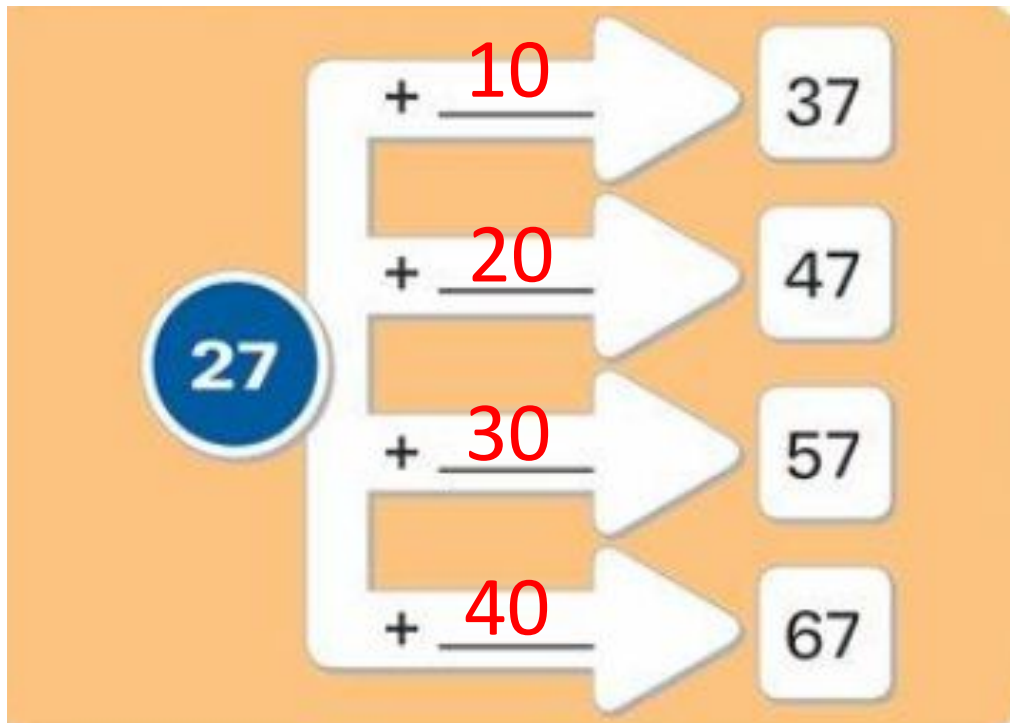
$$47 + \underline{\quad} = \quad \quad 47 - \underline{\quad} = \quad$$

$$47 + \underline{\quad} = \quad \quad 47 - \underline{\quad} = \quad$$



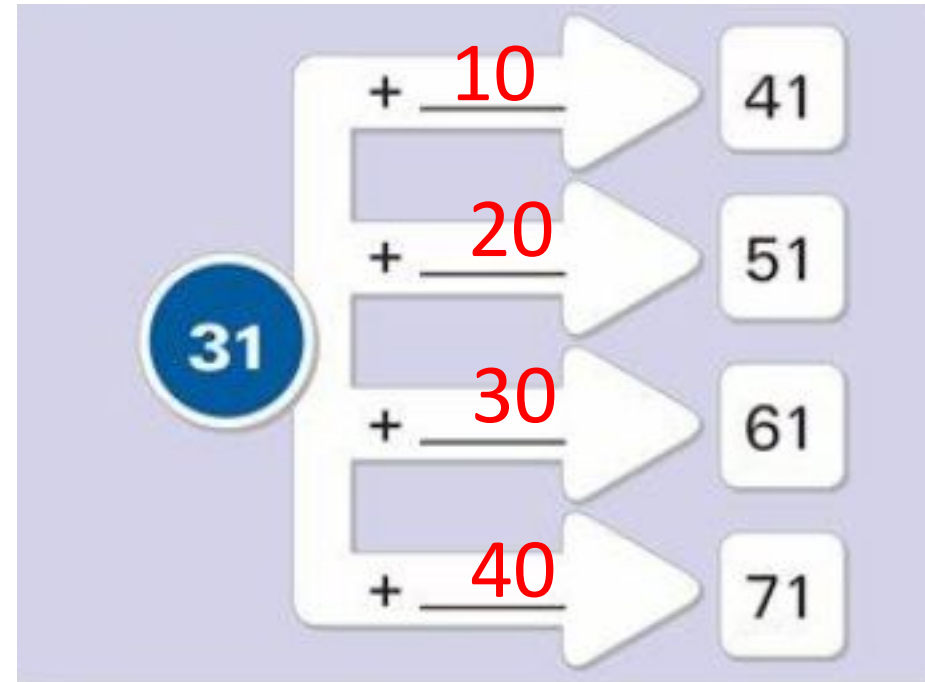
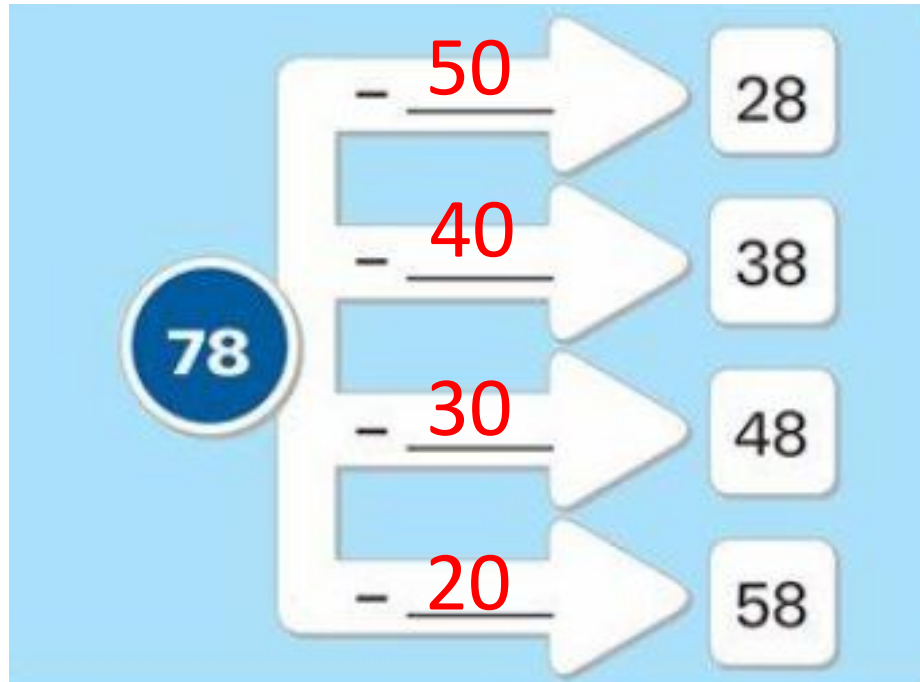
תרגול: מחברים ומחסרים עשרות ויחידות

פתרו:



תרגול: מחברים ומחסרים עשרות ויחידות

פתרו:



תרגול: מחברים ומחסרים עשרות ויחידות

השלימו בכל סעיף 3 מספרים מתאימים.


33 63 30 93

$$\underline{63} - \underline{30} = \underline{33}$$

20 42 10 62

$$\underline{42} + \underline{20} = \underline{62}$$

מָה לְמַדְנוּ הַיּוֹם?



- עֲזָרְנוּ לְגִיל לְסֵדֵר אֶת חֲנוּת הַשּׁוּקוֹלָד.
- הֵכֵנוּ בְּעֶצְמֵנוּ עֲשָׂרוֹת וַיְחִידוֹת מִדָּף נֶר.
- פָּתַרְנוּ תַּרְגִּילִים בְּעֶזְרַת הָעֲשָׂרוֹת וְהַיְחִידוֹת.

וְעַכְשָׁו תֹּרְכֶם

- הַכִּינוּ חֲנוּת לְמִשְׁפַּחְתְּכֶם:
- הַחְלִיטוּ מָה אַתֶּם מוֹכְרִים,
 - מָה הַמְּחִיר נֶשֶׁל כָּל מוֹצֵר,
 - אֵל תִּשְׁכַּחוּ לְצַיֵּד אֶת הַקּוֹנִים בַּכֶּסֶף.
 - בַּסּוֹף סִדְרוּ אֶת הַכֶּלִי.



בְּהַצְלָחָה



מדינת ישראל
משרד החינוך

תודה שצפיתם בשידור

הופק עבור משרד החינוך ע"י מטח