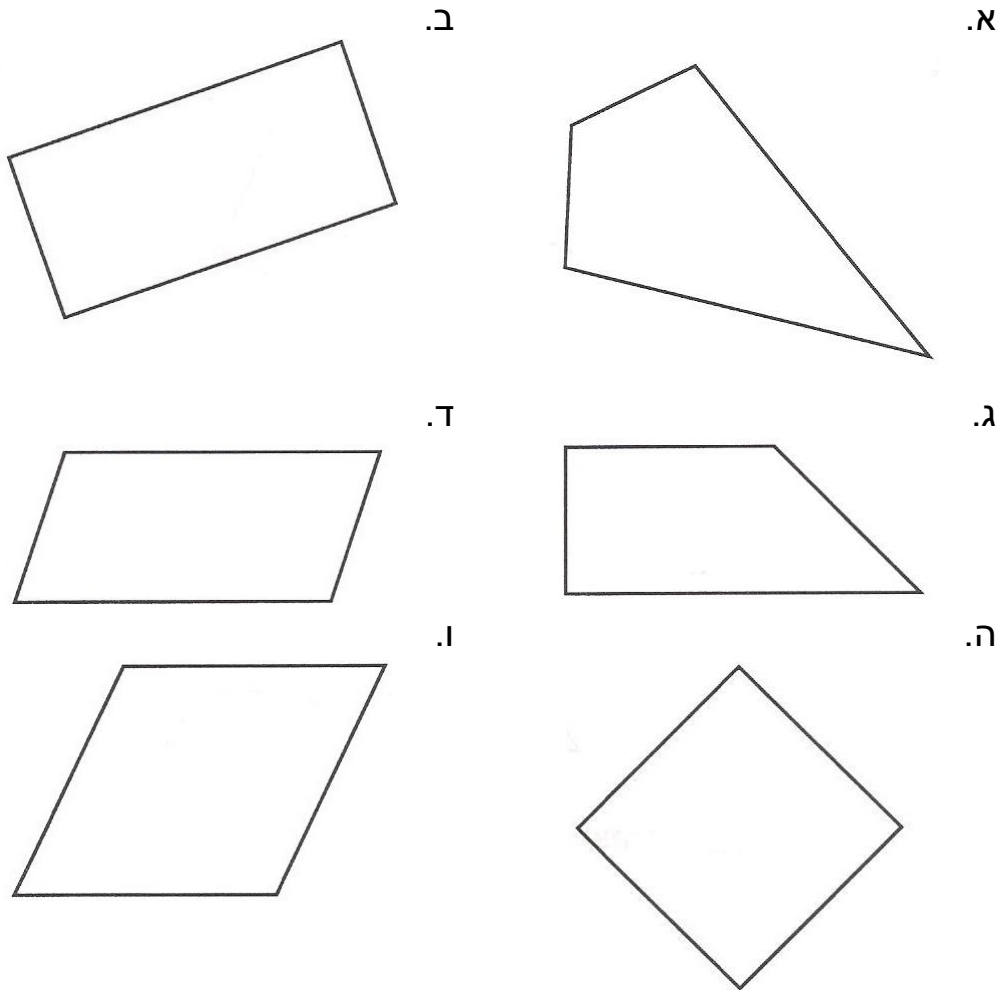




שמי: _____ הכיתה שלי: _____

צירי סימטריה

1. סרטטו את כל צירי הסימטריה של המרובעים הבאים.
שימו לב: לחלק מן הצורות אין צירי סימטריה.



משרד החינוך, התרבות והספורט

הגופים המשתתפים בפרויקט:

האגף הבכיר למיכון ומערכות מידע
חטיבת מערכות מידע בחינוך

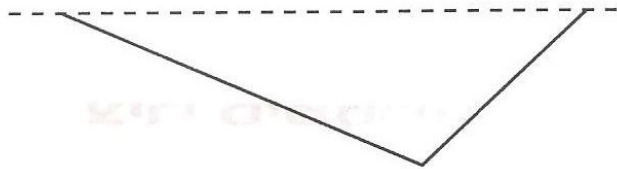
לשכת ייצוג
המדען הראשי

המינהל הפדגוגי
האגף לתכניות לימודים
המחלקה למחקר והערכה

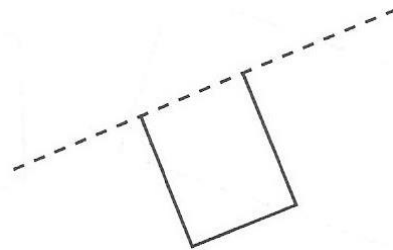
משרד החינוך
המזכירות הפדגוגית – אגף מדעים
הפיקוח על הוראת המתמטיקה
מאגר משימות הערכה

2. השלימו כל סרטוט לצורה סימטרית, כך שהקו המקווקו יהיה ציר הסימטריה.
רשמו לי כל מרובע שסרטטתם את שמו.

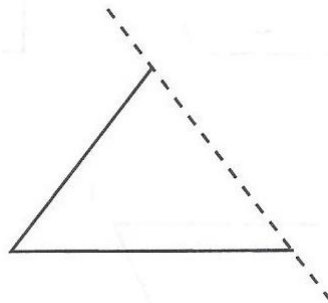
א. שם הצורה: _____



ב. שם הצורה: _____



ג. שם הצורה: _____



משרד החינוך, התרבות והספורט

הגופים המשתתפים בפרויקט:

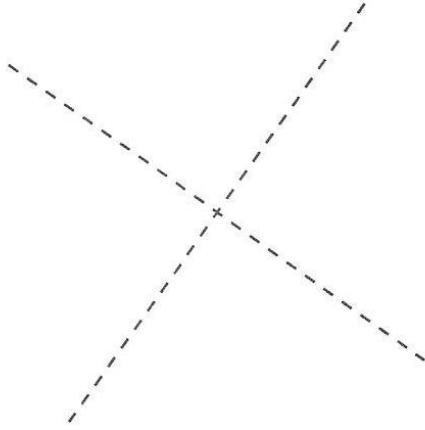
האגף הבכיר למיכון ומערכות מידע
חטיבת מערכות מידע בחינוך

לשכת ייצור
המדען הראשי

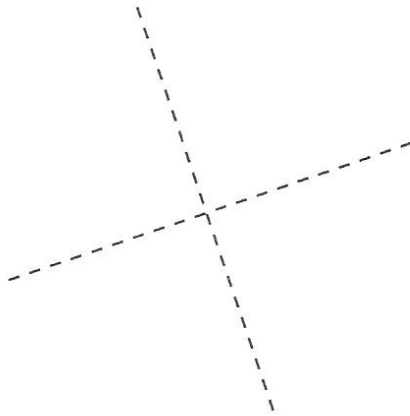
האגף לחינוך יסודי

המינהל הפדגוגי
האגף לתכניות לימודים
המחלקה למחקר והערכה

3. סרטטו מעוין שאינו ריבוע, כך שהישרים המקווקווים יהיו צירי הסימטריה שלו.



4. סרטטו מלבן שאינו ריבוע, כך שהישרים המקווקווים יהיו צירי הסימטריה שלו.



משרד החינוך, התרבות והספורט

הגופים המשתתפים בפרויקט:

האגף הבכיר למיכון ומערכות מידע
חטיבת מערכות מידע בחינוך

לשכת ייצור
המדען הראשי

האגף לחינוך יסודי

המינהל הפדגוגי
האגף לתכניות לימודים
המחלקה למחקר והערכה