

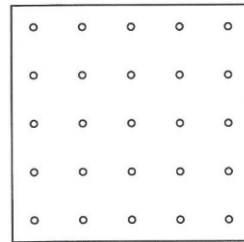

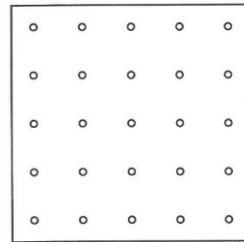





שמי: _____ הכיתה שלי: _____

מקביליות

1. בכל ריבוע סרטטו מקבילית שקודקודיה מונחים על נקודות.
סרטטו שש מקביליות שונות.
(שתי מקביליות שמתלכדות זו עם זו לאחר סיבוב או הזזה על הלוח אינן שונות זו מזו.)



משרד החינוך, התרבות והספורט

הגופים המשתתפים בפרויקט:


האגף הבכיר למיכון ומערכות מידע
חטיבת מערכות מידע בחינוך

לשכת ייצוג
המדען הראשי

המינהל הפדגוגי
האגף לתכניות לימודים
המחלקה למחקר והערכה

2. בכל אחת מהמקביליות שסרטטתם, סמנו בצבע אדום זווית חדה אחת. (אם אין זווית חדה, סמנו X).


3. האם אפשר לסרטט מקבילית שאין בה אפילו זווית חדה אחת? _____
אם כן, סרטטו:



4. בכל אחת מהמקביליות שסרטטתם, סמנו בצבע כחול זוג אחד של צלעות שוות. (אם אין צלעות שוות, סמנו ✓).

5. האם אפשר לסרטט מקבילית שאין בה אפילו זוג אחד של צלעות שוות?

_____ אם כן, סרטטו:



משרד החינוך, התרבות והספורט

הגופים המשתתפים בפרויקט:

האגף הבכיר למיכון ומערכות מידע
חטיבת מערכות מידע בחינוך

לשכת ייצוג
המדען הראשי

המינהל הפדגוגי
האגף לתכניות לימודים
המחלקה למחקר והערכה